





Hoja de trabajo – Geometría (5.º grado)

Nombre: _____ Curso: _____ Fecha: _____

Instrucciones:

1. Une con una línea cada figura con su descripción correcta.

- | | |
|--|--|
| 1.  | a) Tiene 3 lados y 3 vértices. |
| 2.  | b) No tiene lados ni vértices. |
| 3.  | c) Tiene 4 lados iguales y 4 ángulos rectos. |
| 4.  | d) Tiene 5 lados y 5 vértices. |

2. Completa las oraciones

- Un cuadrado tiene _____ lados.
- Un triángulo tiene _____ vértices.
- El círculo no tiene _____ ni _____.
- El pentágono tiene _____ lados.

3. Selecciona la respuesta correcta

- ¿Cuál figura tiene cuatro lados iguales?
☐ Triángulo ☐ Cuadrado ☐ Círculo
- ¿Cuántos vértices tiene un rectángulo?
☐ 3 ☐ 4 ☐ 5

4. Problema práctico

- Si un lado del cuadrado mide 6 cm, ¿cuál es su perímetro?
Respuesta: _____ cm

5. Selecciona la respuesta correcta

- ¿Cuál de estos objetos tiene forma de esfera?
☐ Una caja ☐ Una pelota ☐ Un libro
- ¿Cuál de estos objetos tiene forma de cilindro?
☐ Un vaso ☐ Un cubo de hielo ☐ Una moneda
- ¿Cuál figura tiene caras cuadradas?
☐ Cubo ☐ Cilindro ☐ Esfera
- ¿Cuál figura tiene una base cuadrada y un vértice?
☐ Prisma ☐ Pirámide ☐ Esfera