

Lembar Kerja Peserta Didik

LKPD BIOLOGI

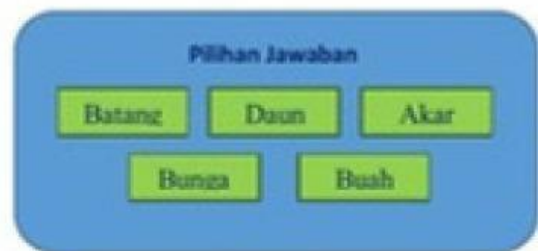
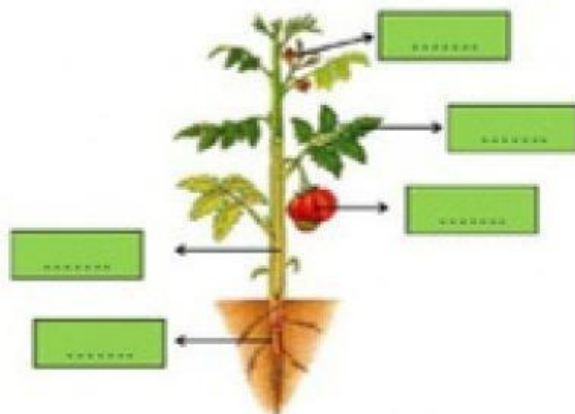
Struktur Jaringan Tumbuhan



Nama : _____

Kelas : _____

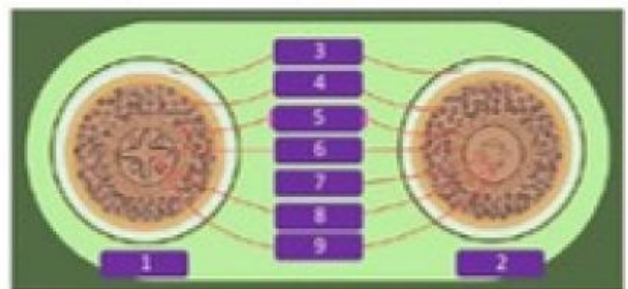
I. Isilah kotak berikut sesuai dengan pilihan jawaban yang ada



II. Jawablah pertanyaan berikut dengan benar

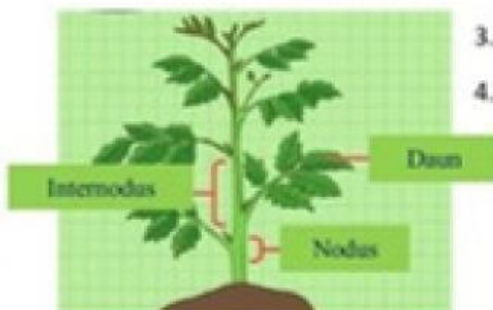
1. Akar dikotil ditunjukkan oleh angka ...

- | | |
|------|------|
| a. 1 | c. 3 |
| b. 2 | d. 4 |



2. Bagian yang memiliki pita kaspari ditunjuk oleh angka ...

- | | |
|------|------|
| a. 3 | c. 5 |
| b. 4 | d. 6 |



3. Tempat menempelnya daun disebut

4. Jarak antara 2 buku disebut

III. Jodohkan dengan cara menarik garis antara kolom sebelah kiri dan kanan

