



To exit full screen, press **Esc**

Bangun Datar


 **LIVEWORKSHEETS**




Persegi




Lingkaran



Segitiga



Jajargenjang



Trapesium

1 Soal persegi

Jawab

**Sebuah persegi
memiliki panjang
sisi 10cm.
Hitunglah luas dan
keliling tersebut**



2 Soal jajargenjang

Jawab

**Jajar genjang
memiliki alas 8cm
dan tinggi 5cm.
Hitunglah luasnya**




3

Soal lingkaran

Sebuah lingkaran memiliki jari-jari 7cm. Hitunglah luas dan keliling lingkaran tersebut

Jawab




4

Soal segitiga

**Segitiga
memiliki alas
6cm dan
tinggi 4cm.
tentukan luasnya**

Jawab



5

Soal trapesium



Jawab

