

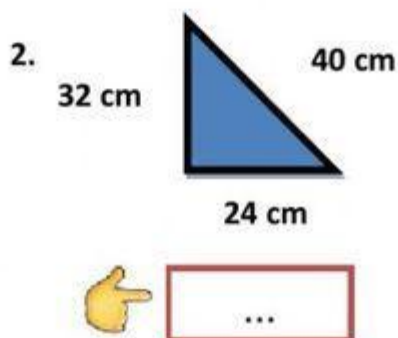
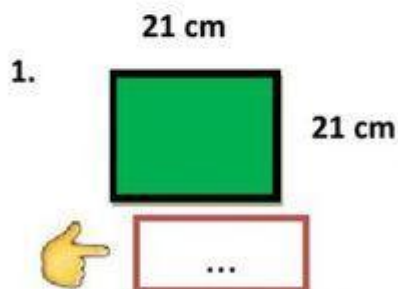
Nama :

Kelas :



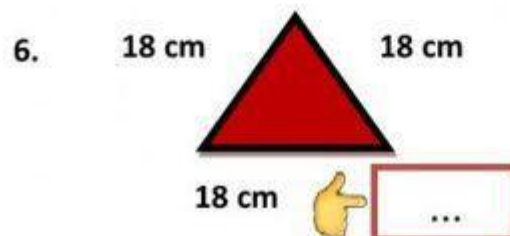
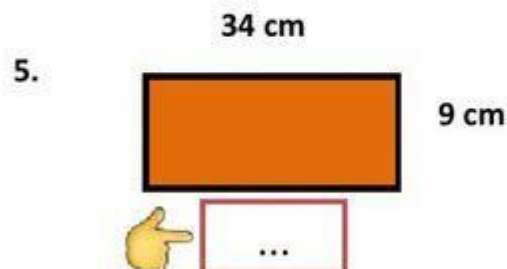
Menghitung Keliling Bangun Datar

Hitunglah keliling bangun di bawah ini!



3. Selebar kain dengan ukuran panjang 150 cm dan lebarnya 75 cm. Keliling kain tersebut adalah ... cm.

4. Keliling segitiga sama sisi yang memiliki sisi 16 cm adalah ... cm.



7. Keliling persegi panjang 88 cm. Jika panjangnya 26 cm, maka lebarnya adalah ... cm

