





MINISTERIO DE EDUCACIÓN
DIRECCIÓN REGIONAL DE EDUCACIÓN
ESCUELA NORMAL JUAN DEMOSTENES AROSEMENA

TALLER DE MATEMÁTICAS

MAESTRA: ARIANNA LUIS NIVEL: 11º ESTUDIANTE

Comparar números de dos cifras. Usar los signos

24  **35** **68**  **31**

24 es menor que 35 68 es mayor que 31

54 90 25 20 90 45
17 80 65 70 86 69
43 41 93 80 37 39

Escribe el anterior y el siguiente

\Rightarrow 80 \Rightarrow \Rightarrow 29 \Rightarrow

\Rightarrow 49 \Rightarrow \Rightarrow 75 \Rightarrow

\Rightarrow 35 \Rightarrow \Rightarrow 68 \Rightarrow

\Rightarrow 16 \Rightarrow \Rightarrow 91 \Rightarrow

Fichas de Matemáticas

$$\begin{array}{r} 43 \\ + 4 \\ \hline \end{array}$$

$$\begin{array}{r} 14 \\ + 5 \\ \hline \end{array}$$

$$\begin{array}{r} 76 \\ + 3 \\ \hline \end{array}$$

$$\begin{array}{r} 62 \\ + 4 \\ \hline \end{array}$$

$$\begin{array}{r} 22 \\ + 8 \\ \hline \end{array}$$

$$\begin{array}{r} 57 \\ + 2 \\ \hline \end{array}$$

$$\begin{array}{r} 91 \\ + 3 \\ \hline \end{array}$$

$$\begin{array}{r} 85 \\ + 1 \\ \hline \end{array}$$

$$\begin{array}{r} 42 \\ + 6 \\ \hline \end{array}$$

$$\begin{array}{r} 38 \\ + 1 \\ \hline \end{array}$$

WWW.RINCONDIBUJOS.COM

$7+8$ $6+8$ $4+8$ $9+5$ $8+5$

15 12 13 18 14 13 10 12 15 12 14 17 12 14 13

$1-8$ $8-6$ $7-5$ $7-2$ $3-7$

9 3 7 4 2 7 2 6 4 5 6 2 6 4 2

www.pequeocio.com