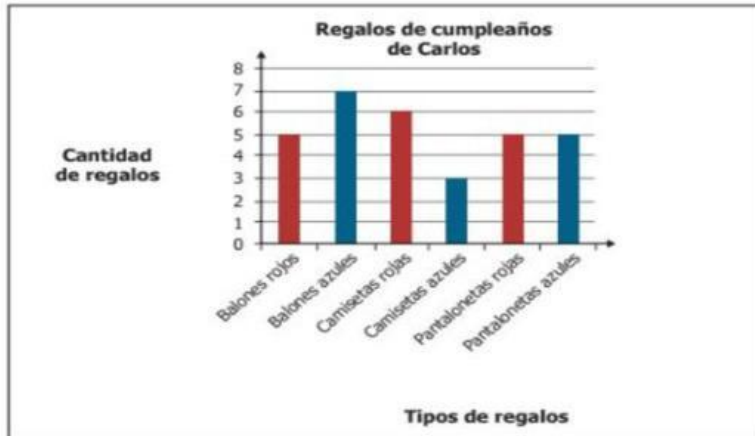


RESOLUCION DE PROBLEMAS

RESUELVE Y ESCOJA LA RESPUESTA CORRECTA

Carlos cumplió años y recibió varios regalos. La cantidad de cada uno de ellos se muestra en la gráfica.



Gráfica

¿Cuántos regalos de color azul recibió Carlos en su cumpleaños?

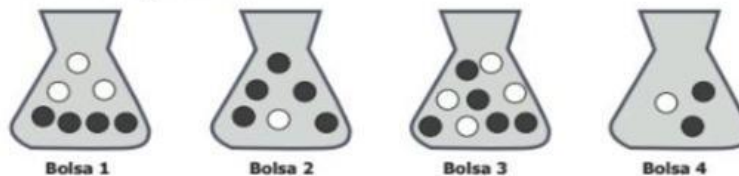
Carlos distribuyó entre sus tres hijos una cantidad de dinero, así:

- José recibió el 35 % del dinero.
- María recibió el 40 % del dinero.
- Luis recibió el 25 % del dinero.

¿Cuál de las siguientes afirmaciones es correcta respecto a la cantidad de dinero recibida?

- María fue quien recibió más dinero y José quien menos recibió.
- José fue quien recibió más dinero y Luis quien menos recibió.
- María fue quien recibió más dinero y Luis quien menos recibió.
- José fue quien recibió más dinero y María quien menos recibió.

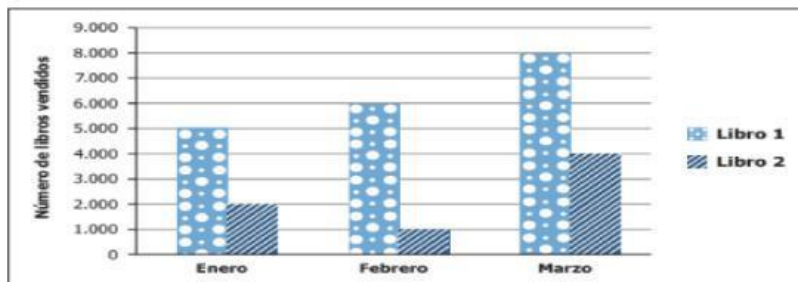
En un concurso se da un premio a quien, sin ver, saque de un solo intento una bola negra de una bolsa. El participante tiene las siguientes opciones:



¿Con cuál de las cuatro bolsas es más probable que gane el participante?

- Con la 1.
- Con la 2.
- Con la 3.
- Con la 4.

La gráfica muestra información sobre las ventas de dos libros durante los tres primeros meses del año.



Gráfica

En febrero, la cantidad de ejemplares vendidos del libro 1 fue

- 1.000
- 5.000
- 6.000
- 7.000