


LEMBAR KERJA PESERTA DIDIK (LKPD)

EKOSISTEM DAN RANTAI MAKANAN

IPA KELAS 5 SD



NAMA KELOMPOK :

.....

.....

.....

.....

.....

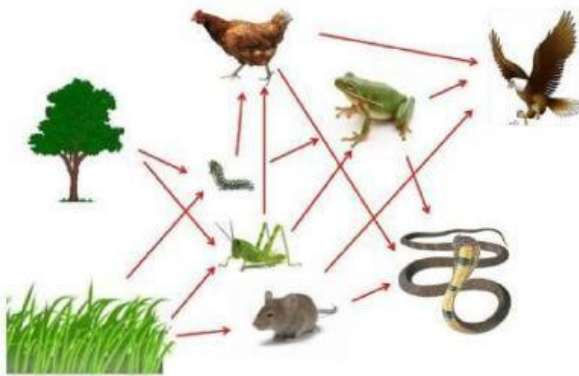
.....

Kegiatan 1

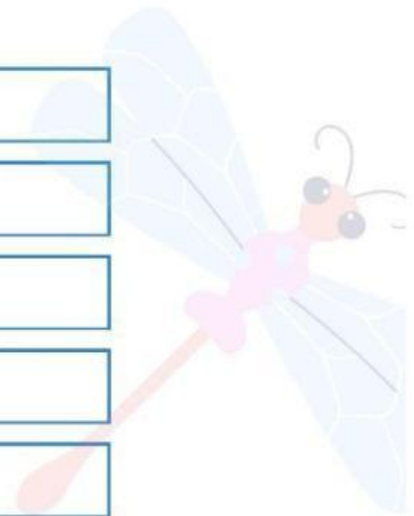
Ayo Mencocokkan



Perhatikan gambar berikut dan pasangkan pernyataan dengan jawaban yang benar!



Produsen	
Konsumen Primier	
Konsumen Sekunder	
Konsumen Tersier	
Pengurai	



Tahan dan geser pilihan berikut, lalu lepas pada kotak yang kosong!

Rumput dan Pohon

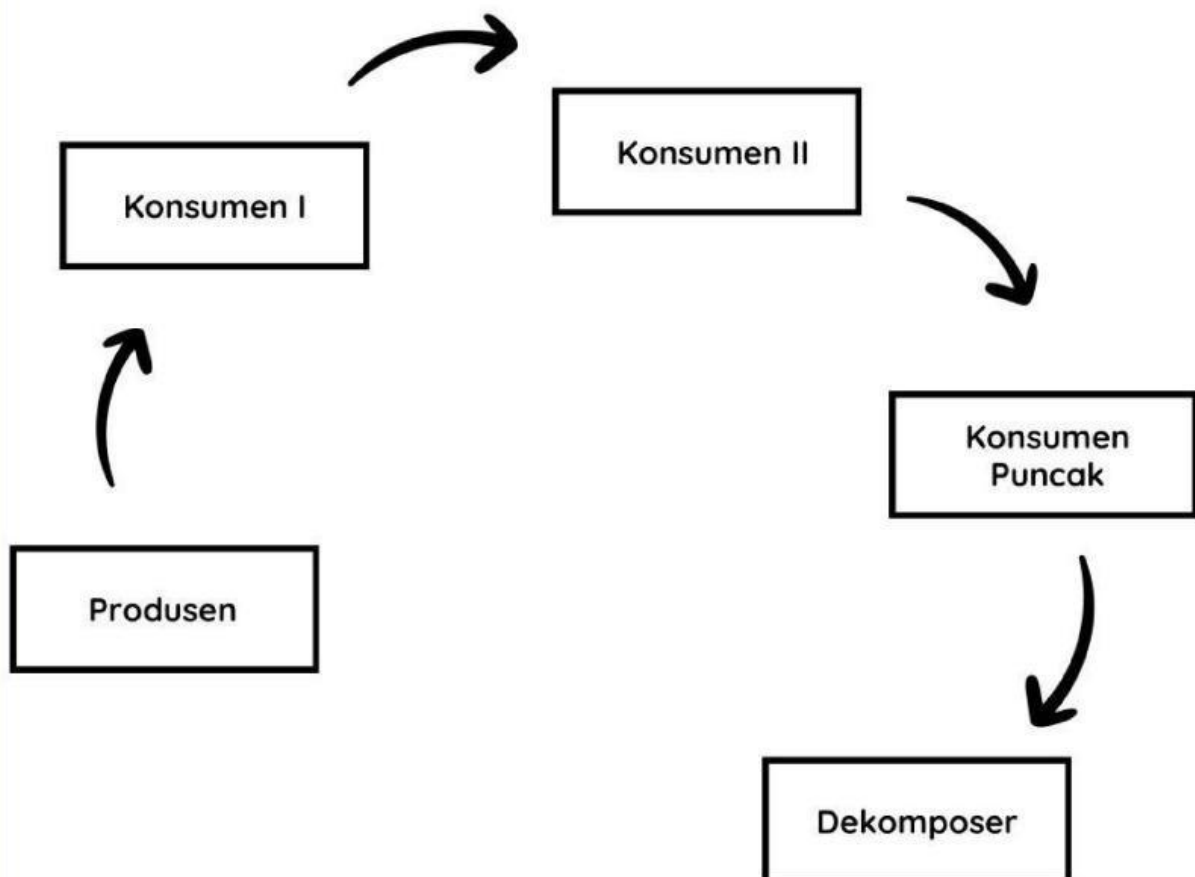
Tikus, Ulat, dan Belalang

Elang

Ayam, Katak dan Ular

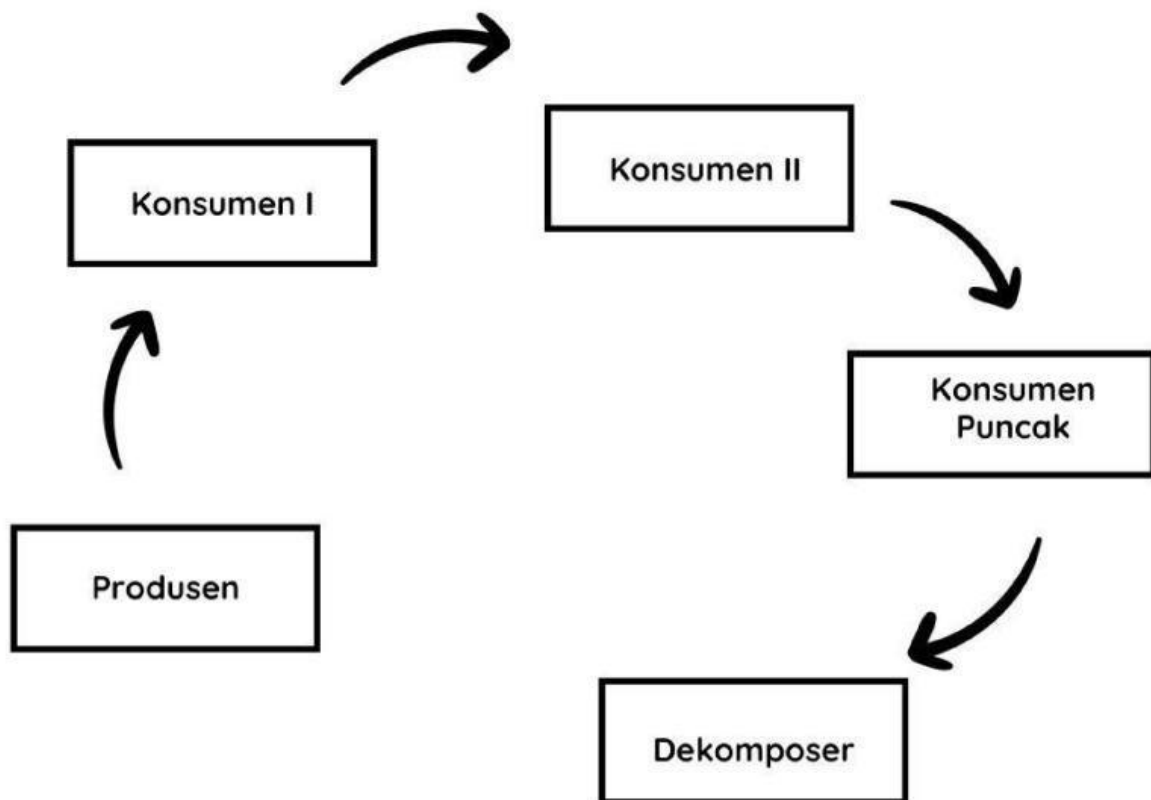

RANTAI MAKANAN

Amatilah rantai makanan berikut dan letakkanlah gambar pada posisi yang tepat!



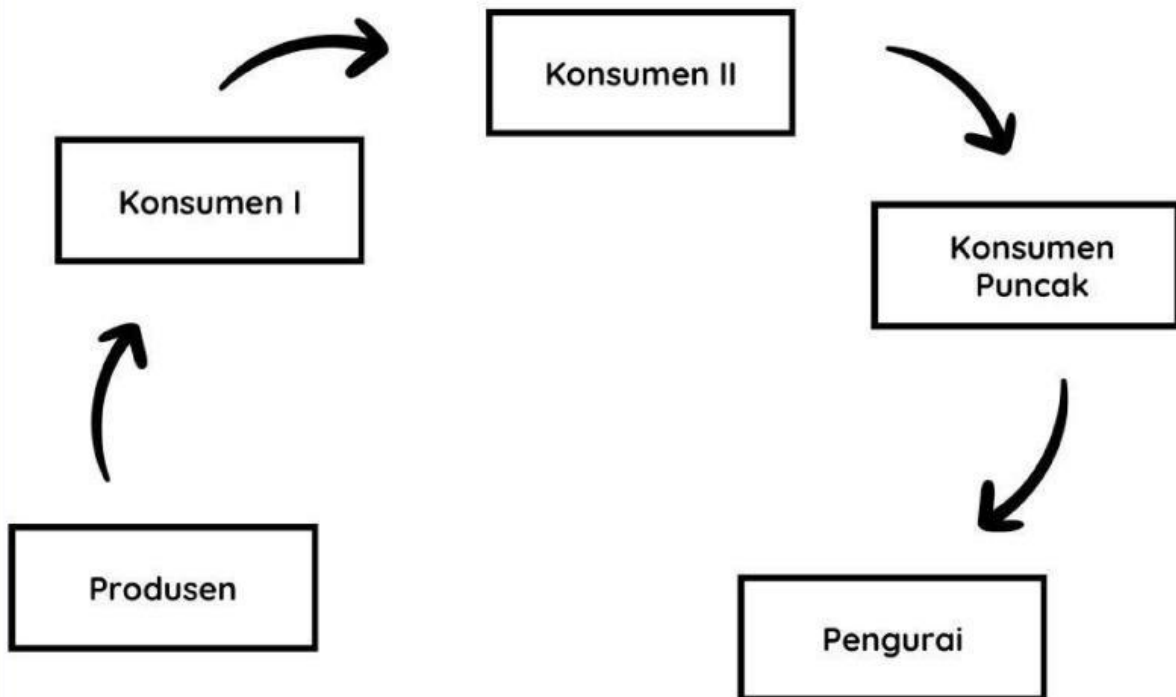
RANTAI MAKANAN

Amatilah rantai makanan berikut dan letakkanlah gambar pada posisi yang tepat!



RANTAI MAKANAN

Amatilah rantai makanan berikut dan letakkanlah gambar pada posisi yang tepat!



Kegiatan 2

Ayo Memilih ✓

Perhatikan tabel berikut dan pilihlah salah satu jawaban dari pernyataan yang sudah disajikan!



No	Pernyataan	Benar	Salah
1	Konsumen Primer merupakan konsumen puncak yang merupakan hewan yang tidak bisa dimakan oleh hewan lainnya.		
2	Ekosistem merupakan hubungan timbal balik antara makhluk hidup dengan lingkungannya.		
3	Komponen biotik meliputi air, batu, tanah, dan cahaya.		
4	Keseimbangan ekosistem dipengaruhi oleh 2 faktor yaitu faktor alami dan faktor manusia.		
5	faktor manusia meliputi pembakaran hutan, penebangan hutan secara liar, dan pemakaian pupuk secara liar.		

Kegiatan 3



Ayo Menjawab

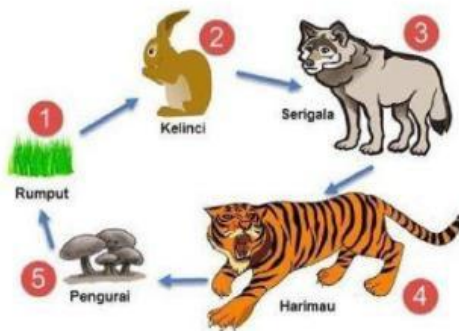


Perhatikan pertanyaan dibawah dan jawablah dengan jawaban singkat!

- 1 Dalam rantai makanan, makhluk hidup yang bisa menghasilkan makanan sendiri disebut dengan....

Jawaban:

- 2 Perhatikan gambar berikut!



Dari gambar rantai makanan diatas yang disebut dengan konsumen sekunder adalah....

Jawaban:

- 3 Kegiatan pemburuan hewan di hutan merupakan kegiatan yang dapat mengganggu keseimbangan ekosistem. Kegiatan ini termasuk kedalam faktor....

Jawaban:

- 4 Keberadaan setiap makhluk hidup dalam rantai makanan itu saling...

Jawaban:

- 5 Dalam ekosistem manusia, hewan dan tumbuhan termasuk kedalam komponen...

Jawaban:

