
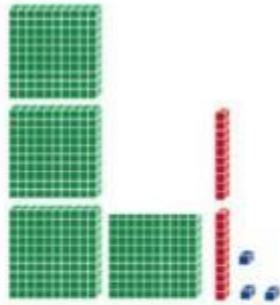
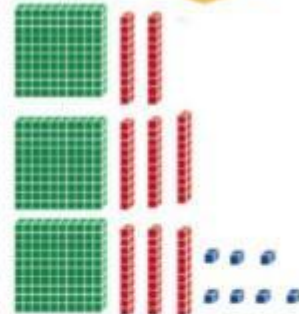


1 Escribe el número correcto en cada caso.








2 Une.

9 C, 4 D y 6 U

$900 + 80$

9 C, 3 D y 9 U

$900 + 1$

9 C, 0 D y 1 U

$900 + 40 + 6$

9 C, 8 D y 0 U

$900 + 30 + 9$

3 Observa el ejemplo con atención y completa.

$$736 = 700 + 30 + 6 = 7C + 3D + 6U$$

$$547 = \square + \square + 7 = \square + \square + \square$$

$$762 = \square + \square + \square = 7C + \square + \square$$

$$391 = \square + \square + \square = \square + \square + \square$$

4 Escribe con letra los siguientes números.

404 → \_\_\_\_\_

671 → \_\_\_\_\_

780 → \_\_\_\_\_

831 → \_\_\_\_\_

532 → \_\_\_\_\_