

# LEMBAR KERJA PESERTA DIDIK (LKPD)

## BANGUN RUANG

Nama

Kelas

Perhatikan video berikut ini !



1. Volume kubus dengan panjang rusuk 6 cm adalah .....  $\text{cm}^3$

2. Pilih satu jawaban yang benar !

Bangun ruang yang memiliki 6 sisi sama besar adalah

3. Manakah yang merupakan ciri-ciri balok :

- ☐ Memiliki 6 sisi berbentuk persegi panjang
- ☐ Semua sisinya berbentuk persegi
- ☐ Memiliki 8 titik sudut
- ☐ Tidak memiliki rusuk

4. Jumlah rusuk pada limas segiempat adalah

- ☐ 8      ☐ 6      ☐ 10      ☐ 12

5. Seret bangun berikut ke pernyataan yang sesuai !

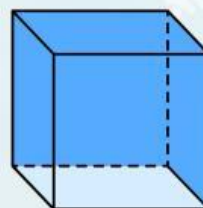
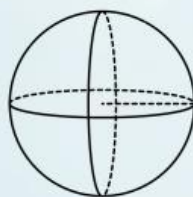
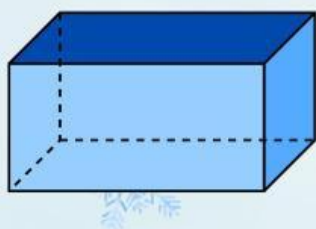
Bangun ruang yang memiliki permukaan yang lengkung



Bangun ruang yang semua sisinya persegi



Bangun ruang yang memiliki 3 pasang sisi berhadapan



6. Hubungkan nama bangun ruang di kolom kiri dengan jumlah sisinya di kolom kanan!

Kubus

5

Balok

6

Limas Segitiga

6

Prisma Segitiga

4