


LEMBAR KERJA

Perhatikan Video Berikut!

PERANGKAT KERAS KOMPUTER



Perangkat masukan (input device)

Perangkat keluaran (output device)

1

Kelompokkan peralatan berikut dengan cara menggeser gambar ke dalam kolom yang sesuai



Perangkat pemrosesan (processor device)

Perangkat penyimpanan (storage device)

2

Berilah nama masing-masing **perangkat input** berikut dengan cara geser nama perangkat sesuai gambar ke dalam kotak yang telah disediakan !

keyboard

mouse

pen

Scanner


mikrofon

game controller

Barcode Reader

touch screen

Video input





















3

Berilah nama masing-masing **perangkat output** berikut dengan cara geser nama perangkat sesuai gambar ke dalam kotak yang telah disediakan !

Layar Monitor

Printer


Speaker

Proyektor

Headphone



Perangkat keluaran komputer



4

Berilah nama masing-masing **perangkat pemrosesan** berikut dengan cara geser nama perangkat sesuai gambar ke dalam kotak yang telah disediakan !

CPU

kartu suara

kartu grafis

ROM

Motherboard

RAM



**Perangkat
pemrosesan
komputer**



5

Berilah nama masing-masing **perangkat penyimpanan** berikut dengan cara geser nama perangkat sesuai gambar ke dalam kotak yang telah disediakan !

HDD

SSD

compact disc

google drive

flash drive

memory card



Perangkat
penyimpanan
komputer

