



PEMERINTAH KABUPATEN CIAMIS
DINAS PENDIDIKAN
SEKOLAH DASAR NEGERI 2 PANARAGAN
Jln. Panaragan No. 37 Desa Panaragan Kec. Cikoneng Kab. Ciamis 46261

PENILAIAN TENGAH SEMESTER GENAP
TAHUN PELAJARAN 2020/2021

Nama :
 Nomor Absen :
 Tema/Muatan Pelajaran : 7. Indahnya Keragaman di Negeriku/
 IPS, SBdP, dan Matematika
 Kelas/Semester : IV/2
 Hari/Tanggal : Sabtu/20 Maret 2021
 Alokasi Waktu : 90 Menit

A. PILIHAN GANDA

Berilah tanda silang (x) pada huruf a, b, c atau d di depan jawaban yang benar!

1. Dibawah ini yang merupakan suku bangsa di pulau Jawa adalah
 - a. Gayo
 - b. Rejang
 - c. Alor
 - d. Betawi
2. Aceh, Gayo, Alas, Batak, Nias, Melayu, dan Minangkabau adalah suku bangsa yang berada di pulau
 - a. Jawa
 - b. Kalimantan
 - c. Sumatera
 - d. Papua
3. Bermusyawarah ketika pemilihan ketua kelas merupakan salah satu contoh sikap
 - a. persaingan
 - b. permusuhan
 - c. persatuan dan kesatuan
 - d. sabar
4. Sekolah di salah satu daerah Jawa Barat terkena bencana banjir sehingga sisa air membuat sekolah kotor, agar sekolah tersebut menjadi bersih, yang harus kita lakukan adalah
 - a. saling menunjuk teman
 - b. bersikap tidak peduli
 - c. menyuruh tukang sapu
 - d. gotong royong dengan seluruh warga sekolah
5. Manfaat gotong royong membersihkan sekolah adalah
 - a. pekerjaan menjadi berat
 - b. pekerjaan menjadi ringan
 - c. merusak sekolah
 - d. lingkungan terlihat tidak indah
6. Tarian tersebut merupakan tarian piring yang berasal dari
 - a. Kalimantan timur
 - b. Jawa Barat
 - c. Jawa Timur
 - d. Sumatera Barat



7. Tari saman berasal dari daerah
 - a. Aceh
 - b. Papua
 - c. Jawa Timur
 - d. Bali
8. Lagu daerah yang berasal dari DKI Jakarta salahsatunya adalah
 - a. Ampar-ampar pisang
 - b. Yamko rambe yamko
 - c. Gambang Suling
 - d. Jali-jali
9. Cepat lambatnya suatu lagu adalah
 - a. nada
 - b. ritmis
 - c. melodis
 - d. tempo
10. Nada yang disusun secara berjenjang adalah
 - a. nada
 - b. tempo
 - c. allegro
 - d. tangga nada
11. Penari menggunakan . . . untuk memandu gerakan penari agar beraturan.
 - a. kipas
 - b. piring
 - c. pakaian
 - d. pola lantai
12. Di bawah ini tarian yang bernama tari Tor-Tor adalah

a.



c.



b.



d.



13. Di bawah ini yang merupakan gambar montase adalah . . .

a.



c.



b.



d.

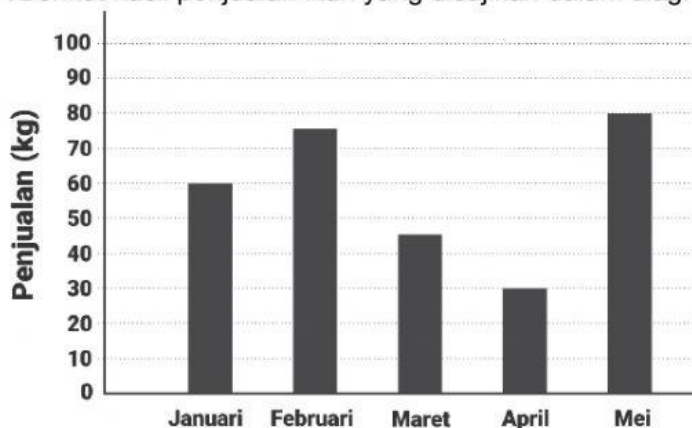


14. Tari Merak berasal dari daerah
- Jawa Tengah
 - Jawa Barat
 - Jawa Timur
 - Papua
15. Berikut yang **bukan** merupakan bentuk penyajian data adalah
- tabel
 - diagram pohon
 - diagram batang
 - diagram angka
16. Perhatikan tabel berikut!

Pekerjaan Wali	Jumlah
Pegawai Negeri	16
Pegawai Swasta	24
Petani	20
Pedagang	18
Wiraswasta	18

Paling banyak pekerjaan wali adalah

- pegawai negeri
 - pegawai swasta
 - Wiraswasta
 - pedagang
17. Berikut hasil penjualan ikan yang disajikan dalam diagram



Hasil penjualan pada bulan Februari adalah

- 70 kg
- 75 kg
- 80 kg
- 85 kg

18. Berikut adalah daftar nilai matematika 20 siswa kelas IV

60 70 70 100 90 80 70 80 60 80
70 90 100 80 70 80 70 70 60 90

Tabel yang sesuai dengan data diatas adalah

a.

Nilai	Jumlah
60	4
70	7
80	5
90	3
100	2

c.

Nilai	Jumlah
60	3
70	6
80	5
90	3
100	2

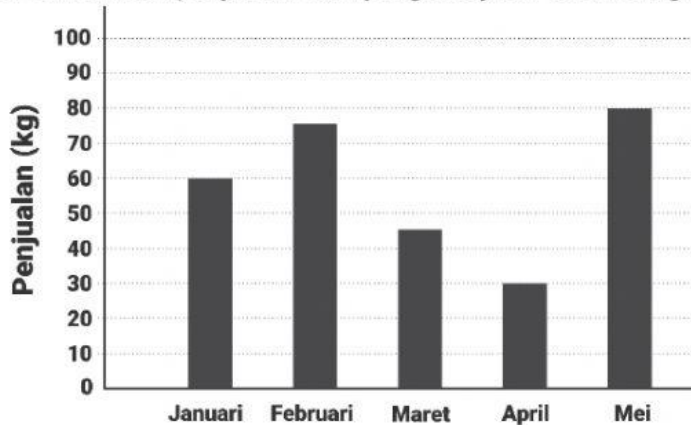
b.

Nilai	Jumlah
60	3
70	7
80	4
90	3
100	2

d.

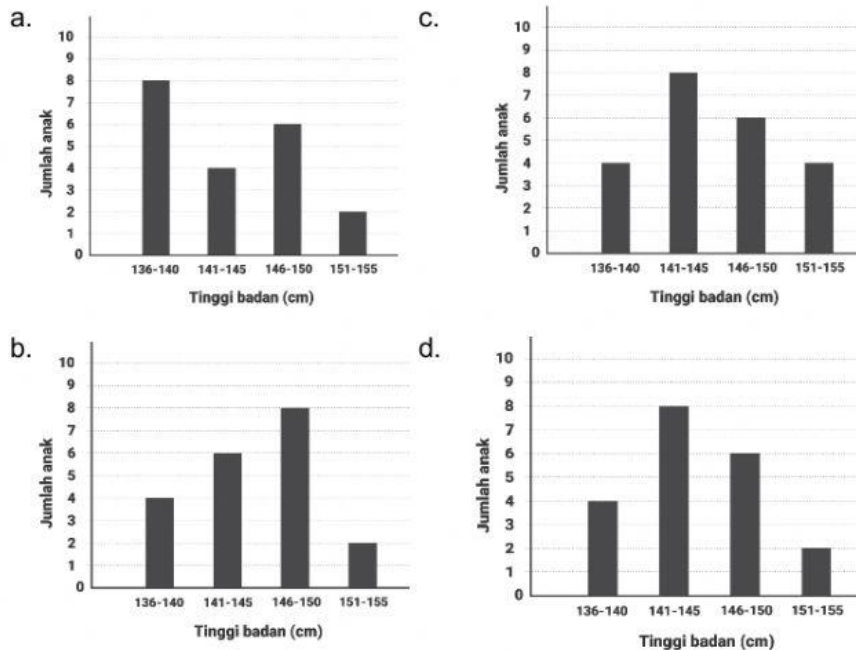
Nilai	Jumlah
60	3
70	7
80	5
90	3
100	2

19. Berikut hasil penjualan ikan yang disajikan dalam diagram



Hasil penjualan pada bulan Januari dan April adalah . . .

- a. 90 kg b. 100 kg c. 110 kg d. 120 kg
20. Dalam sebuah kelas terdiri dari 20 siswa. Tinggi badan 136 - 140 cm ada 4 anak, 141 - 145 ada 8 anak, 146 - 150 ada 6 anak, dan 151 - 155 ada 2 anak. Diagram batang berikut yang sesuai adalah . . .



B. ISIAN

Isilah titik-titik dibawah ini dengan jawaban yang tepat!

- Indonesia merupakan negara kepulauan yang terbentang dari sabang sampai merauke. Indonesia kaya akan pantai, gunung, dan keindahan alamnya. keadaan alam tersebut dapat memengaruhi keragaman di Indonesia
- Suku bangsa yang berasal dari Jawa Barat adalah
- Salah satu lagu daerah yang berasal dari Papua adalah
- Angklung adalah alat musik yang berasal dari
- | 4 4 6 4 | 3 1 3 2 | nada yang paling rendah dari penggalan birama disamping adalah
- Tarian yang dimainkan menggunakan piring berasal dari daerah Sumatera Barat adalah
- Sebuah karya yang dibuat dari berbagai jenis bahan seperti kain perca, daun-daunan, dan biji-bijian adalah

Data di bawah ini digunakan untuk menjawab soal nomor 8 – 9.
 Nilai ulangan matematika kelas IV

70	65	85	70	85	90	70
95	75	90	85	70	80	75
85	75	85	80	85	75	85
75	80	65	80	75	80	90

8. Nilai tertinggi yang didapatkan oleh siswa kelas IV adalah
9. Siswa yang mendapat nilai 80 sebanyak orang.
10. Siswa yang mendapat nilai terendah sebanyak orang.

C. URAIAN

Jawablah pertanyaan-pertanyaan berikut dengan jawaban yang benar!

1. Mengapa kita perlu bergotong royong dalam kehidupan bermasyarakat?

2. Budaya daerah harus kita lestarikan. Tuliskan 2 hal yang dapat kita lakukan untuk melestarikan budaya daerah kita!

3. Dari sekian banyak pakaian adat yang ada di Indonesia, tuliskan salah satu contoh pakaian adat yang menarik beserta keunikannya!

4. Tuliskan 3 tari tradisional yang kamu ketahui !

5. Sebutkan 3 bentuk penyajian data dalam matematika!

SELAMAT MENGERJAKAN DAN TETAP SEMANGAT . . .
ALLAH SWT MAHA MELIHAT APA YANG SEDANG KITA KERJAKAN ^_^

NPTS (NILAI PENILAIAN TENGAH SEMESTER)

No.	Muatan Pelajaran	Nomor Soal	Nilai
1.	IPS	PG: 1,2,3,4,5,6,7,8 Isian: 1,2,3 Uraian: 1,2	
2.	SBdP	PG: 9,10,11,12,13,14 Isian: 4,5,6,7 Uraian: 3, 4	
3.	Matematika	PG: 15, 16, 17, 18, 19, 20 Isian: 8,9,10 Uraian: 5	