

Ministerio de educación.  
ESCUELA NORMAL JUAN DEMOSTENES AROSEMENA.  
BACHILLER PEDAGÓGICO BILINGÜE.

Nombre: Carlos Jimenez c.

Alumnos: \_\_\_\_\_

Fecha: 29/10/2025

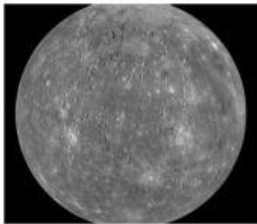
I.part. coloque el nombre adecuado del sistema solar .



\_\_\_\_\_



\_\_\_\_\_




\_\_\_\_\_



\_\_\_\_\_




\_\_\_\_\_



\_\_\_\_\_



\_\_\_\_\_



\_\_\_\_\_



\_\_\_\_\_

**II.part. llenar el espacio en blanco. Escribe la respuesta correcta:**

**1. El Sol es una ----- .**

**2. El planeta donde vivimos se llama -----.**

**3. El planeta con anillos se llama -----.**

**4. El planeta más grande es -----.**