



**DIAGNÓSTICO HISTORIA, GEOGRAFÍA Y CS. SOCIALES**  
**TERCER AÑO BÁSICO**

NOMBRE: \_\_\_\_\_ FECHA: \_\_\_\_/\_\_\_\_/\_\_\_\_

Puntaje total	30 pts
Puntaje de corte	18 pts
Porcentaje de exigencia	60%

ITEM	Logrado/ No logrado
I.-	
II.-	
III.-	
Situación final.	

Lee atentamente cada una de las preguntas y luego selecciona la alternativa correcta

**I. UBICARSE EN EL ESPACIO**

1. ¿En qué continente se encuentra nuestro país?

- A. África                      B. América                      C. Europa                      D. Asia

Observa el siguiente mapa de América del Sur y responde las preguntas 2, 3, 4 y 5.

2. ¿Con qué país limita Chile al norte?

- A. Ecuador  
B. Argentina  
C. Perú  
D. Bolivia

3. ¿Qué país está al este de Chile?

- A. Perú  
B. Argentina  
C. Uruguay  
D. Paraguay

4. ¿Qué océano se encuentra al oeste de Chile?

- A. Océano Atlántico  
B. Océano Ártico  
C. Océano Pacífico  
D. Océano Antártico



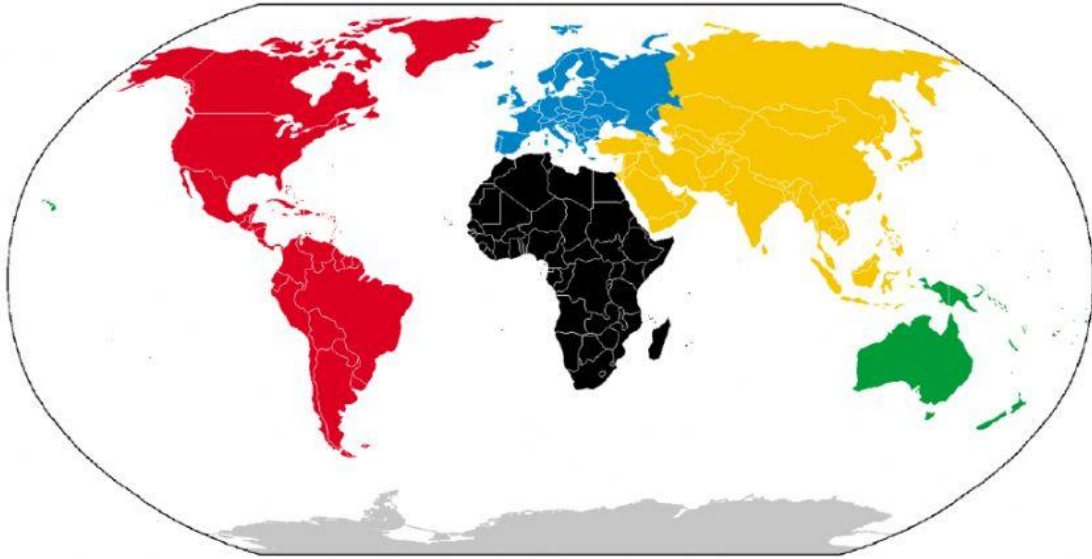
5. Para organizar nuestro país, se ha dividido en quince:

- A. Zonas                      B. Regiones                      C. Capitales                      D. Pueblos

6. ¿Cuál es la capital de Chile?

- A. Talca                      B. Viña del Mar                      C. Santiago                      D. Concepción

Observa el siguiente planisferio o mapamundi en que cada continente está señalado con colores, y responde la pregunta 7.



7. La opción que representa la ubicación geográfica de algunos de los continentes de modo correcto es:

- A. El continente de Oceanía está representado con el color amarillo.
- B. El continente europeo está representado con el color rojo.
- C. El continente antártico está representado con el color azul.
- D. El continente africano está representado con el color negro.

## II. CHILE, DIVERSIDAD DE PAISAJES

1. Las zonas naturales de Chile son:

- A. Zona norte, centro y sur
- B. Arriba, el medio y abajo
- C. Norte grande, norte chico y centro
- D. Isla de pascua, Chile y la Antártica

2. ¿En qué zona del territorio chileno el clima es cálido, más bien árido, generalmente no llueve y hace calor durante todo el año?

- A. Zona Norte
- B. Zona Central
- C. Zona Sur
- D. Zona Austral

3. ¿En qué zona de nuestro país el clima es templado, llueve y hace frío en invierno, y en verano disfrutamos de mucho sol y calor?

- A. Zona Norte
- B. Zona Central
- C. Zona Sur
- D. Zona Austral

4. ¿En qué zona de Chile el clima es más bien frío, llueve prácticamente todo el año y su vegetación es muy abundante?

- A. Zona Norte
- B. Zona Central
- C. Zona Sur
- D. Zona Austral




Observa la imagen y responde las preguntas 5 y 6.

5. La vegetación es típica de la zona:

- A. Norte
- B. Sur
- C. Centro
- D. Ninguna de las anteriores



6. De acuerdo a la zona climática de la imagen ¿Qué otro animal podría vivir aquí?



7. ¿Qué forma del relieve de nuestro país corresponde a una cadena formada por montañas?

- A. Depresión intermedia
- B. Cerros
- C. Cordillera de los Andes
- D. Planicie litoral

### III. LOS PRIMEROS HABITANTES DE CHILE

1. De las siguientes actividades, ¿Cuál pertenece a las actividades de un pueblo sedentario?

- A. Cazar animales salvajes
- B. Recolectar frutos silvestres
- C. Construir viviendas frágiles
- D. Cultivar la Tierra

2. De los pueblos de la zona Norte, ¿Cuál de ellos tenía organización NÓMADA?

- A. Los Atacameños
- B. Los Changos
- C. Los Diaguitas
- D. Los Aymaras

3. Los Changos era un pueblo que habitó las costas del norte de Chile, por lo tanto, podemos decir que su dieta alimenticia se basaba principalmente en:

- A. Peces, mariscos y pollos
- B. Peces, mamíferos marinos y almejas
- C. Llamas, porotos y quínoa
- D. Trigo, semillas y maíz

4. ¿Cuál de las siguientes manifestaciones artísticas pertenece a los rapa nui?



A. Jarro pato



B. Jarra tradicional



C. Moai



D. Iglesia

5. La siguiente imagen muestra una tradición mapuche, ¿A cuál de ellas corresponde?

- A. A una ceremonia religiosa
- B. A una guerra contra el enemigo
- C. A un juego
- D. A una batalla



6. Los pueblos originarios de la zona del extremo sur de Chile, se caracterizaron por:

- A. Tener dificultades en navegar por los océanos.
- B. Ser en su mayoría de organización sedentaria.
- C. Lograr un gran avance cultural.
- D. Tener que enfrentar duras condiciones climáticas.

7. Indica a qué zona de Chile perteneció cada pueblo originario colocando el número que corresponda en la línea.

1. Zona Norte	2. Zona Centro	3. Zona Sur

\_\_\_\_\_ Diaguita

\_\_\_\_\_ Changos

\_\_\_\_\_ Rapa nui

\_\_\_\_\_ Mapuches

\_\_\_\_\_ Chonos

\_\_\_\_\_ Atacameños

\_\_\_\_\_ Selknam

\_\_\_\_\_ Aymaras

\_\_\_\_\_ Yaganes

\_\_\_\_\_ Kawescar

\_\_\_\_\_ Aónikenk