

CENTRO ESCOLAR CANTÓN LOS HUEZO
EXAMEN DE MATEMÁTICA CORRESPONDIENTE AL III TRIMESTRE 2025
CUARTO GRADO

Nombre: _____ fecha: _____

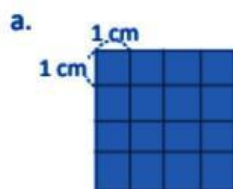
Indicación: Resuelve los siguientes ejercicios de forma limpia y ordenada.

1. Efectúa las siguientes operaciones.

a. $48 \div (29 - 23) =$

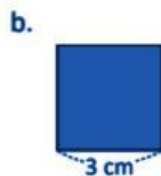
b. $4 \times (2 + 5) =$

2. Encuentra el área de los siguientes cuadrados.



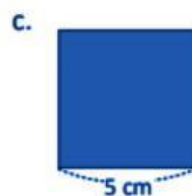
PO: _____

R: _____




PO: _____

R: _____



PO: _____









R: _____



PO: _____

R: _____

3. Sandra fue al mercado y compró los siguientes productos, encuentra cuántas libras de cada producto compró.

a. Frijoles	b. Arroz	c. Azúcar	d. Café	20%
				
				

4. Diego había comprado 3.75 l de jugo para la fiesta y se bebieron 2.58 l. ¿Cuánto sobró?



¿Sabías que 3.75 l es lo mismo que un galón?

