



# Lembar Kerja Peserta Didik

# LKPD

## Sistem Reproduksi Manusia

**Nama Kelompok**


1. \_\_\_\_\_
2. \_\_\_\_\_
3. \_\_\_\_\_
4. \_\_\_\_\_
5. \_\_\_\_\_

**Kelas :** \_\_\_\_\_



## Petunjuk Penggunaan LKPD

1. Membaca LKPD secara urut dan sistematis
2. Memahami tujuan Pembelajaran yang harus dicapai
3. Membaca dengan teliti petunjuk pada setiap kegiatan yang ada pada LKPD
4. Menjawab pertanyaan yang tersedia dalam LKPD dengan baik dan benar
5. Jika ada kendala, silahkan bertanya pada guru





## Capain Pembelajaran

Peserta didik dapat menganalisis untuk menemukan keterkaitan sistem organ dengan fungsinya pada sistem reproduksi.



## Tujuan Pembelajaran

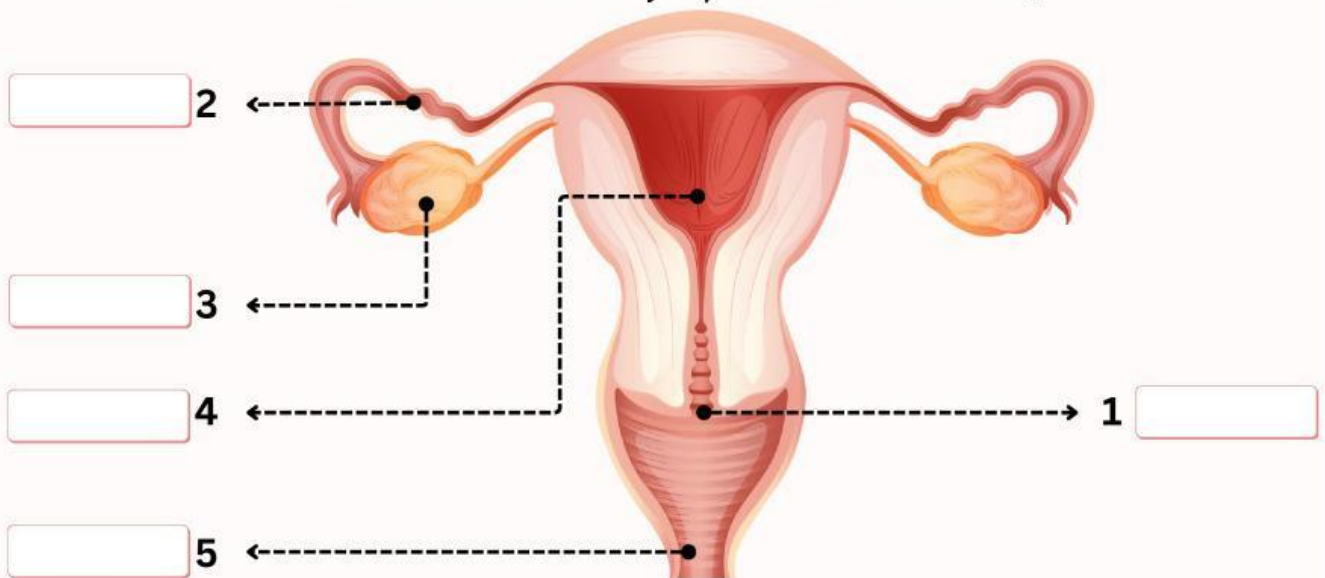
1. Menjelaskan pengertian sistem reproduksi manusia.
2. Menganalisis perbedaan organ-organ penyusun sistem reproduksi pria dan wanita.
3. Mengkategorikan masa pubertas laki-laki dan perempuan.



Jelaskan pengertian dari sistem reproduksi manusia!

## ORGAN REPRODUKSI PADA WANITA

Carilah informasi mengenai organ-organ penyusun sistem reproduksi pada wanita beserta fungsinya di buku referensi!



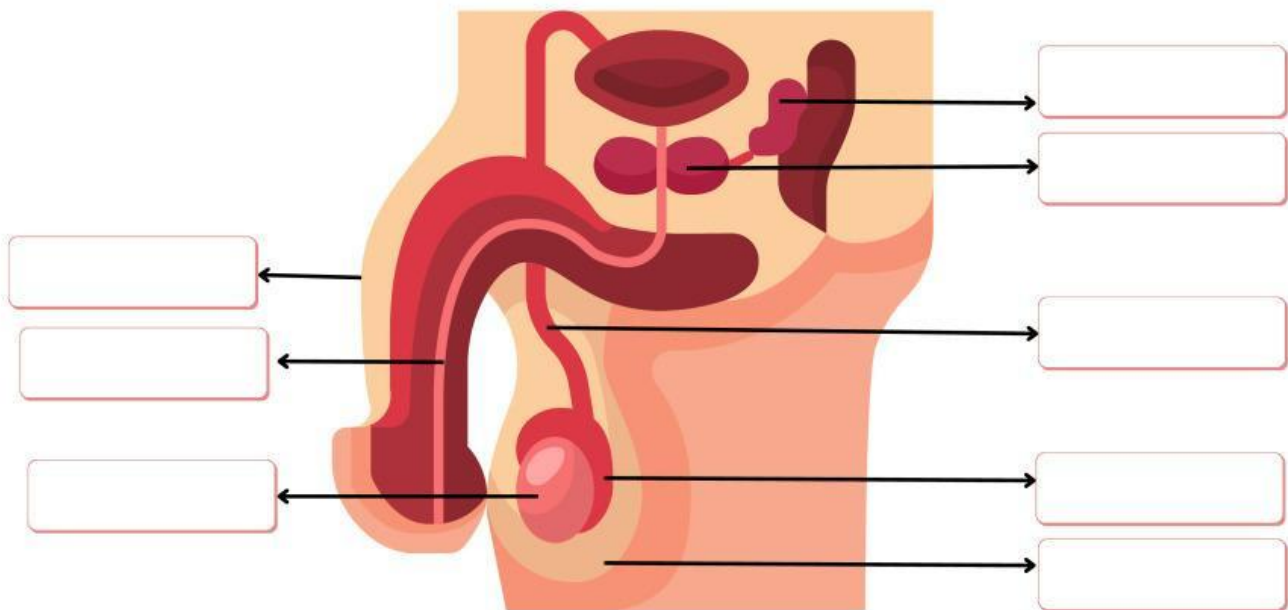
Tuliskan nomor dan nama organ reproduksi wanita di atas sesuai dengan fungsinya masing-masing!

No.	Nama Organ	Fungsi
1.		
2.		
3.		
4.		
5.		



# ORGAN REPRODUKSI PADA LAKI-LAKI

Isilah alat reproduksi pria di bawah ini dengan pasangan yang tepat!



Testis

Vas deferens

Vesikula seminalis

Uretra

Penis

Skrotum

Epididimis

Kelenjar prostat

Lengkapi titik-titik pada fungsi bagian-bagian organ reproduksi pria di bawah ini!

Testis, berfungsi sebagai tempat pembentukan ..... dan hormon testosteron. Testis terdiri atas dua buah dan tersimpan dalam suatu kantong yang disebut ..... Vas deferens, merupakan saluran tempat jalannya sperma dari ..... menuju uretra. Didalam Penis terdapat ..... yang berfungsi sebagai saluran urine dan saluran sperma. Vesikula seminalis, berfungsi sebagai persediaan makanan bagi ..... untuk bergerak. Kelenjar yang berfungsi penghasil cairan yang encer seperti susu adalah kelenjar .....

Berdasarkan gambar reproduksi pria, bagian apa saja yang termasuk ke dalam:

a. Organ bagian luar:

b. Organ bagian dalam:

Pasangkan ciri-ciri pubertas berikut ini!

Pinggul melebar

Tumbuh jakun

Pertumbuhan  
payudara

Menstruasi

Suara lebih  
berat

Tumbuh  
kumis/jenggot

Laki-laki

Perempuan

Buatlah ciri-ciri pubertas/perubahan fisik pada laki-laki dan perempuan yang kamu ketahui!

Temukan 7 kata di bawah ini!

D	A	T	V	E	B	O	X	A	R	N
O	Z	T	K	P	C	U	B	A	S	V
T	K	J	I	I	U	T	A	R	E	U
D	K	Z	G	D	J	D	Q	P	R	E
O	D	A	I	I	G	G	S	D	X	L
S	P	V	H	D	I	E	K	K	O	B
S	E	R	V	I	K	S	M	F	Y	A
B	N	N	E	M	O	P	H	G	Y	O
P	I	M	N	I	L	E	S	U	H	G
A	S	B	L	S	K	R	O	T	U	M
N	Z	C	Y	O	J	M	C	E	N	F
L	X	J	N	C	H	A	F	R	F	G
S	U	M	P	W	G	B	P	U	R	D
E	H	A	T	E	S	T	I	S	O	Q