



LEMBAR KERJA PESERTA DIDIK
PEMBELAJARAN BERDIFERENSIASI UNTUK
GAYA BELAJAR VISUAL



KURIKULUM
MERDEKA

LIKPD

TEOREMA PYTHAGORAS

KELAS VIII

Kelompok :

Anggota :

Kelompok :

DISUSUN OLEH AYU LARASATI



LIVEWORKSHEETS

LEMBAR KERJA PESERTA DIDIK

TEOREMA PYTHAGORAS

CAPAIAN PEMBELAJARAN

Di akhir fase D peserta didik dapat menunjukkan kebenaran teorema Pythagoras dan menggunakannya dalam menyelesaikan masalah (termasuk jarak antara dua titik pada bidang koordinat Kartesius).

TUJUAN PEMBELAJARAN

1. Peserta didik dapat menemukan kebenaran Teorema Pythagoras
2. Peserta didik dapat menerapkan Teorema Pythagoras untuk menyelesaikan masalah (jarak dua titik pada bidang koordinat kartesius)
3. Peserta didik dapat menentukan jenis-jenis segitiga jika diketahui Panjang ketiga sisinya
4. Peserta didik dapat menemukan dan memeriksa bilangan yang merupakan tripel Pythagoras
5. Peserta didik dapat menyelesaikan soal cerita yang menggunakan Teorema Pythagoras

ALAT DAN BAHAN

1. Alat tulis
2. Kertas HVS
3. Kalkulator
4. *Handphone* (HP) atau laptop
5. Internet

LEMBAR KERJA PESERTA DIDIK

TEOREMA PYTHAGORAS

PETUNJUK PENGGUNAAN



1. Bacalah LKPD ini dengan cermat dan teliti.
2. Kerjakan sesuai dengan instruksi yang diberikan.
3. Diskusikan permasalahan dalam LKPD dengan kelompok berdasarkan gaya belajar masing-masing.
4. Carilah referensi dari buku, internet, atau sumber lain untuk menyelesaikan permasalahan.
5. Selesaikan permasalahan pada kolom atau kotak yang telah disediakan.
6. Jika terdapat video atau gambar interaktif, pastikan untuk memutarinya sebelum menjawab soal.
7. Klik "Finish" untuk menyelesaikan pengerjaan.
8. Isi data diri Anda (nama, kelas, dan mata pelajaran matematika).
9. Klik "Send" untuk mengirimkan hasil kerja.

GAYA BELAJAR VISUAL-AUDITORI



Gaya belajar visual-auditori adalah cara belajar yang menggabungkan preferensi visual, seperti melihat gambar, diagram, atau tulisan, dengan preferensi auditori, yaitu mendengar penjelasan, diskusi, atau audio. Individu dengan gaya ini cenderung lebih mudah memahami dan mengingat informasi ketika mereka dapat melihat materi sekaligus mendengar penjelasannya.

KEGIATAN BELAJAR 2

B. MENENTUKAN JENIS JENIS SEGITIGA

2 X 40 MENIT

PENGANTAR



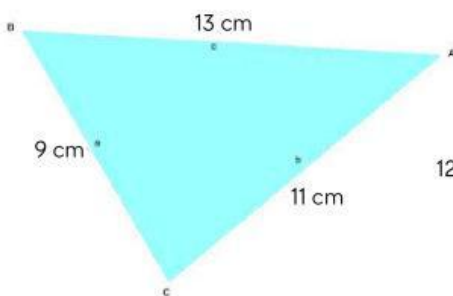
HAI!!! 😊

Selamat datang di pembelajaran matematika hari ini! Kalian bakal menyelami jenis-jenis segitiga dan tripel Pythagoras. Bersiap-siaplah untuk serangkaian kegiatan seru dan jangan lupa pahami dengan baik bareng kelompok kalian ya!

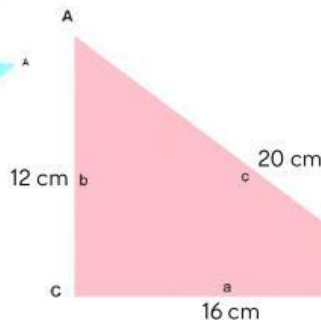
Jangan sungkan untuk bertanya kepada guru jika ada yang bikin kalian penasaran dan susah dipahami, supaya kalian makin paham dalam materi ini!

AYO BERHITUNG!

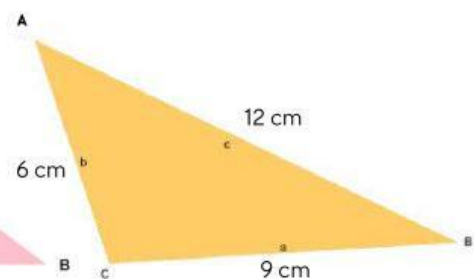
Perhatikan gambar di bawah ini!



Gambar 1



Gambar 2



Gambar 3

Setelah kalian mengamati gambar di atas, hitung panjang sisi c dan tuliskan hasilnya di tabel keren di bawah ini!

KEGIATAN BELAJAR 2

B. MENENTUKAN JENIS JENIS SEGITIGA

AYO ISI KOLOM INI!

GAMBAR	a	b	c
GAMBAR 1			
GAMBAR 2			
GAMBAR 3			

AYO BANDINGKAN!

Lihat lagi gambar di atas yuk, isi tabel berikut dengan semangat!

GAMBAR 1

$$a^2 + b^2$$

(<, =, >)

$$c^2$$

GAMBAR 2

$$a^2 + b^2$$

(<, =, >)

$$c^2$$

GAMBAR 3

$$a^2 + b^2$$

(<, =, >)

$$c^2$$

KEGIATAN BELAJAR 2

B. MENENTUKAN JENIS JENIS SEGITIGA

AYO MENCARI TAHU!

Setelah mengamati panjang sisi alas dan tinggi segitiga, yuk, intip lagi gambar di atas dan siap-siap jawab pertanyaan seru berikut ini!

- Di gambar 1, ada segitiga biru. Segitiga jenis apa ya?
- Di gambar 2, muncul segitiga pink. Kira-kira, ini segitiga jenis apa ya?
- Di gambar 3, ada segitiga oranye. Segitiga ini termasuk jenis apa, ya?

KESIMPULAN

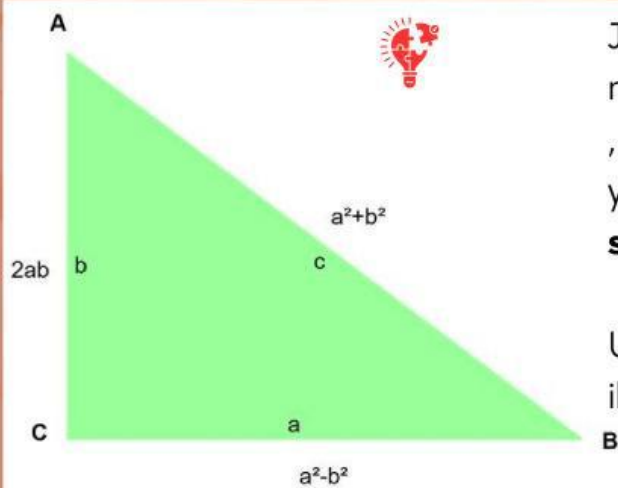
Dari semua keseruan ini, kalian bisa menarik kesimpulan!

- Ketika $a^2 + b^2 < c^2$, maka segitiga yang terbentuk adalah
- Ketika $a^2 + b^2 = c^2$, maka segitiga yang terbentuk adalah
- Ketika $a^2 + b^2 > c^2$, maka segitiga yang terbentuk adalah

KEGIATAN BELAJAR 2

C. MENEMUKAN DAN MEMERIKSA TRIPLE PYTHAGORAS

TRIPLE PYTHAGORAS



Jika diketahui nilai a dan b di mana $a > b$, maka hasil dari $(a^2 + b^2)$, $(a^2 - b^2)$ dan $2ab$, merupakan kumpulan 3 bilangan yang membentuk **triple pythagoras** dan **segitiga siku-siku**.

Untuk membuktikan pernyataan ini, mari ikuti langkah berikut ini!

TABEL TRIPLE PYTHAGORAS

Lengkapi tabel di bawah ini untuk menemukan kumpulan triple Pythagoras !

a	b	a^2	b^2	$(a^2 - b^2)$	$2ab$	$(a^2 + b^2)$	TRIPLE PYTHAGORAS
2	1	4	1	$(4-1)=3$	$2 \cdot 2 \cdot 1=4$	$(4+1)=5$	3, 4, 5

KEGIATAN BELAJAR 2

C. MENEMUKAN DAN MEMERIKSA TRIPLE PYTHAGORAS

MEMERIKSA TRIPLE PYTHAGORAS

Kalian sudah menemukan triple Pythagoras! Yuk, sekarang kita cek lagi apakah triple Pythagoras yang ditemukan itu benar.

HASIL PERHITUNGAN	MEMERIKSA $a^2 + b^2 = c^2$	KESIMPULAN
3, 4, 5	$9 + 16 = 25$	BENAR

KESIMPULAN

Setelah seru-seruan mengerjakan triple Pythagoras, sekarang kalian sudah paham dan ayo berikan kesimpulan!

KEGIATAN BELAJAR 2

MENENTUKAN JENIS-JENIS SEGITIGA DAN TRIPLE PYTHAGORAS

PERMASALAHAN 2



Dalam sebuah acara pentas seni sekolah, panitia merancang panggung segitiga seperti gambar di samping. Di mana panjang alas 14 m dan tinggi 12 m. Panitia berencana menghiasi sisi miring segitiga dengan rantai lampu, di mana setiap 1 meter lampu dihargai Rp 17.000 per meter.

1. Berapa panjang rantai lampu yang diperlukan panitia?
2. Berapa modal rantai lampu untuk dekorasi sisi panggung?.

AYO BERPIKIR!

Coba perhatikan kembali sketsa panggung pentas seni! Gunakan materi yang sudah kalian pelajari untuk menyelesaikannya. Ayo, tuangkan ide cemerlang kalian dan informasi yang sudah diketahui di sini!

JAWABAN:



KEGIATAN BELAJAR 2

MENENTUKAN JENIS-JENIS SEGITIGA DAN TRIPLE PYTHAGORAS

AYO SELESAIKAN!

Ayo, kalian selesaikan masalah ini dengan ide-ide cemerlang dan informasi yang sudah kalian kumpulkan!

JAWABAN:



AYO SIMPULKAN!

Setelah kalian menyelesaikan permasalahan ini, ayo buat kesimpulan!

JAWABAN:



AYO PRESENTASIKAN HASIL KARYA KALIAN