

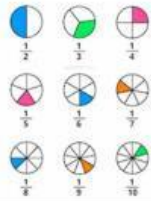
Cuestionario

Comprobemos cuanto aprendimos

1. Nombre *




2. Une los nombres con la fracción que corresponda *



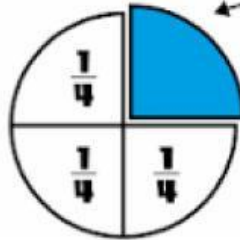
un cuarto	<input type="text"/>
un deciseisavo	<input type="text"/>
un tercio	<input type="text"/>
un octavo	<input type="text"/>
tres doceavos	<input type="text"/>
un medio	<input type="text"/>
dos octavos	<input type="text"/>

- ☐ $\frac{2}{8}$
- ☐ $\frac{3}{12}$
- ☐ $\frac{1}{8}$
- ☐ $\frac{1}{2}$
- ☐ $\frac{1}{16}$
- ☐ $\frac{1}{3}$
- ☐ $\frac{1}{4}$

3. Escoge dos respuestas correctas



1
Un
Entero



$\frac{1}{4}$
Un
Cuarto

El denominador es:

- ☐ El número que se encuentra arriba de la línea fraccionaria
- ☐ Representa en cuantas partes se dividió el entero
- ☐ Representa cuantas partes tomamos del entero
- ☐ Es el número que se encuentra debajo de la línea fraccionaria

4. Tienes una pizza con 8 rebanadas. Si le das dos rebanadas a tu hermano ¿Qué fracción de la pizza le diste? _____ Y si le hubieras dado la mitad de la pizza ¿Cuál sería la fracción? _____

Arrastra las respuestas a la línea que corresponde



- ☐ $1/2$
- ☐ $1/4$
- ☐ $2/8$
- ☐ $4/8$
- ☐ $6/8$
- ☐ $3/4$

5. $\frac{2}{2}$, $\frac{4}{4}$, $\frac{6}{6}$, $\frac{3}{3}$ Todas estas fracciones representan la
Escribe una sola palabra con minúsculas



6. Es un ejemplo de una fracción mixta *

Escoge la respuesta correcta

fracciones

$\frac{3}{5}$	$\frac{10}{4}$	$2\frac{1}{3}$
Denominador número más grande	Numerador número más grande	Entero + fracción propia

Marca solo un óvalo.

☐ $1\frac{1}{4}$

☐ $2/5$

☐ $5/3$

☐ $2/2$