

LEMBAR KERJA PESERTA DIDIK

LKPD

Ilmu Pengetahuan Alam dan Sosial (IPAS)

"RANTAI MAKANAN"

Bab 2 Untuk Kelas 5 SD/MI

Nama Kelompok :

Anggota Kelompok :

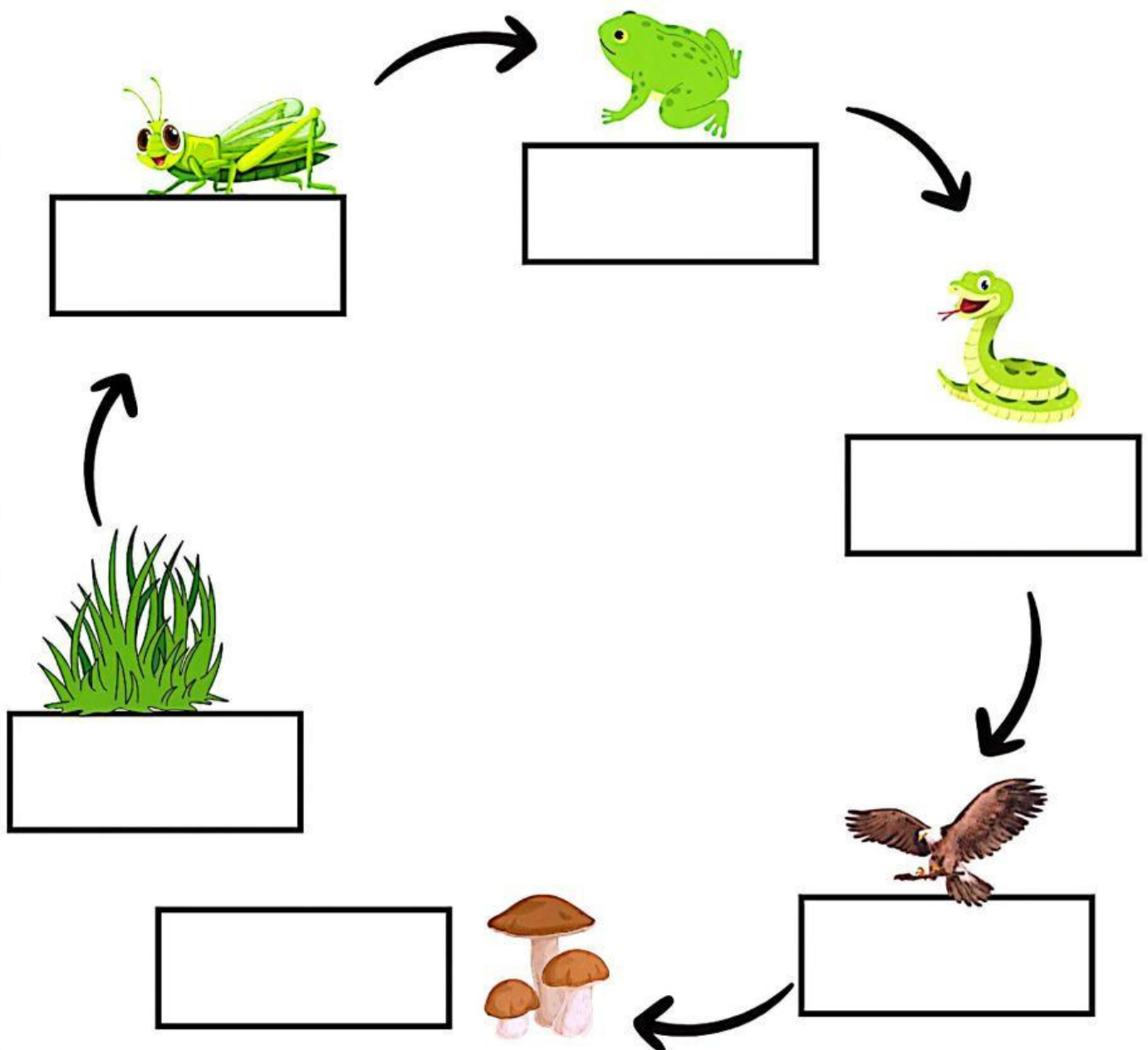
.....

.....

.....


RANTAI MAKANAN

Amatilah gambar rantai makanan berikut dan letakkanlah kotak pada posisi yang tepat!



RANTAI MAKANAN

Amatilah rantai makanan di bawah ini dengan cermat!




Berilah tanda centang pada kolom benar atau salah berdasarkan pernyataan di bawah ini!

No	Pernyataan	Benar	Salah
1	Rantai makanan tersebut terdapat di ekosistem laut.		
2	Ganggang berperan sebagai produsen.		
3	Produsen dapat menghasilkan makanan sendiri.		
4	Bangau berperan sebagai konsumen tingkat II.		
5	Jika populasi buaya menurun, maka populasi bangau meningkat.		
6	Populasi ikan meningkat, jika populasi bangau meningkat.		
7	Buaya merupakan hewan herbivora.		

Mengurutkan Rantai Makanan

Perhatikan gambar rantai makanan yang belum berurutan di bawah ini. Urutkan gambar menjadi rantai makanan yang sesuai dengan memberi nomor urutan yang tepat.

Ekosistem Sawah



Ekosistem Hutan

