

Σύγκρινε τους αριθμούς και τοποθέτησε το σωστό σύμβολο! Θυμήσου πως ο Λίνος κυνηγάει πάντα το μεγαλύτερο και το περισσότερο!



2

.....



5



4

.....

6



4

.....

3



5

.....


2



2

.....


1



1

.....

0



3

.....

7