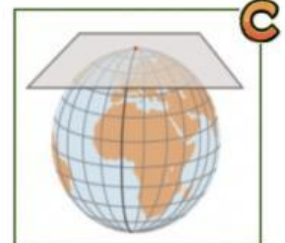
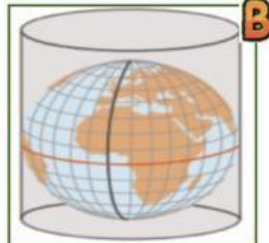
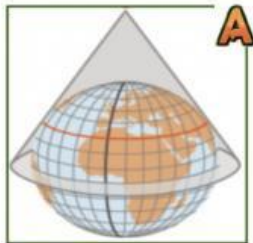




Observa os diferentes tipos de projeções cartográficas representadas com as letras A, B, C e D.



Identifica cada um dos sistemas de projeção cartográfico.

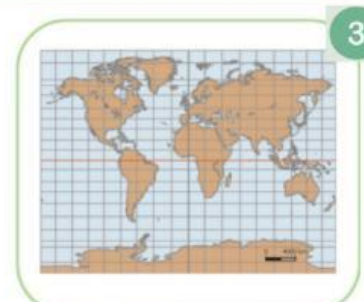
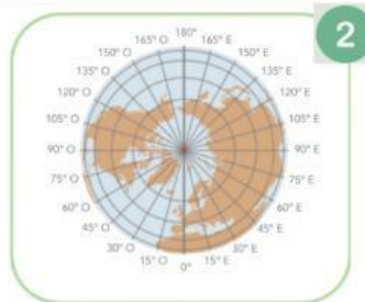
A

B

C



Estabelece a relação entre as projeções cartográficas A, B e C aos respetivos mapas 1, 2 e 3.



1

2

3



Assinala, as **quatro** afirmações verdadeira, das frases que se seguem.

A projeção cônica permite apenas a representação de um hemisfério de cada vez.

☐

A projeção azimutal é muito utilizada para representar corretamente as regiões polares.

☐

A projeção cilíndrica é a mais indicada para representar apenas um continente.

☐

A projeção azimutal deforma os continentes à medida que nos afastamos nas regiões polares.

☐

Na projeção cilíndrica a distorção da superfície terrestre diminui do equador em direção aos polos.

☐

Nome: _____



Turma: _____ N.º: _____



Data: ____/____/____



Bom Trabalho!