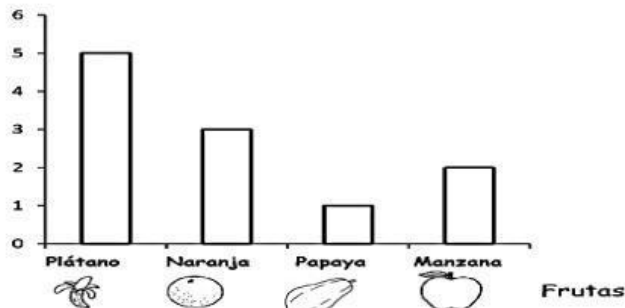


1. Lee atentamente:

Observa y responde. ¿Cuántas manzanas menos que plátanos hay?

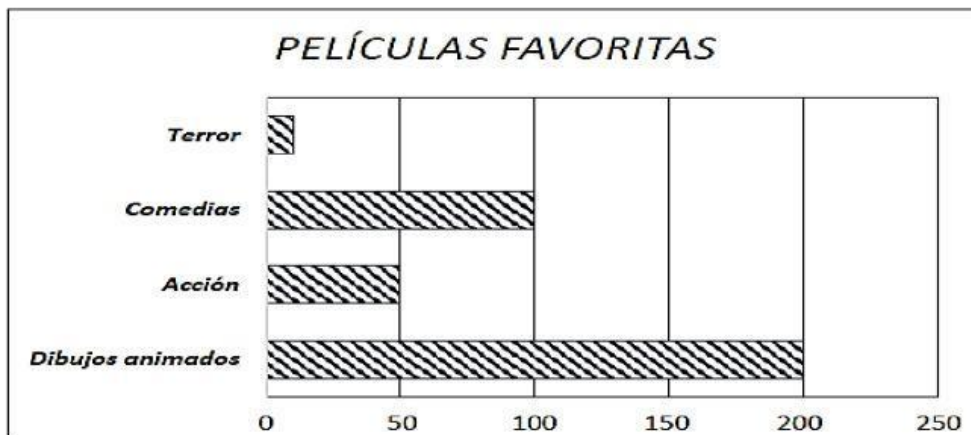
Ahora marca tu respuesta

Cantidad de frutas



- a) 5
b) 4
c) 3

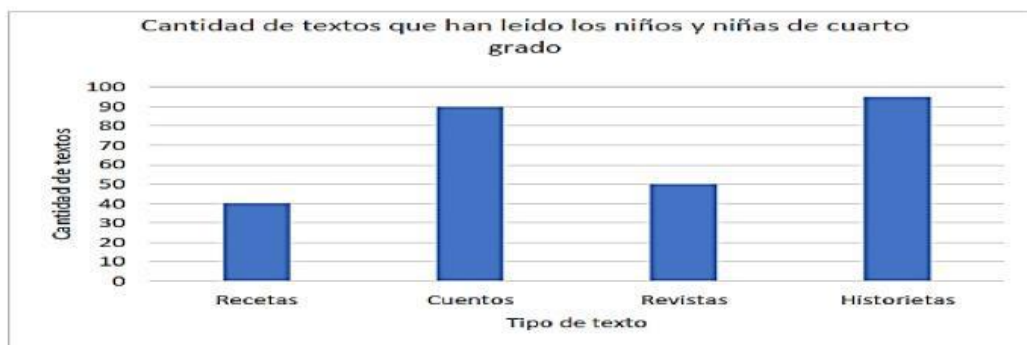
2. Observa el siguiente gráfico:



Marca tu respuesta:

- ¿Cuántos estudiantes menos prefieren Comedias que Dibujos Animados?
a) 100 c) 200
b) 20 d) 150
- ¿Cuántos estudiantes más prefieren Dibujos Animados que Acción?
a) 100 c) 30
b) 220 d) 150
- ¿Cuántas personas en total prefieren Dibujos Animados y Comedia?
a) 200 c) 300
b) 350 d) 250

3. La Directora de la Institución Educativa "San José" registra la cantidad de textos que han leído los estudiantes de cuarto grado. ¿Cuántos cuentos más que revistas han leído los niños y niñas de cuarto grado?

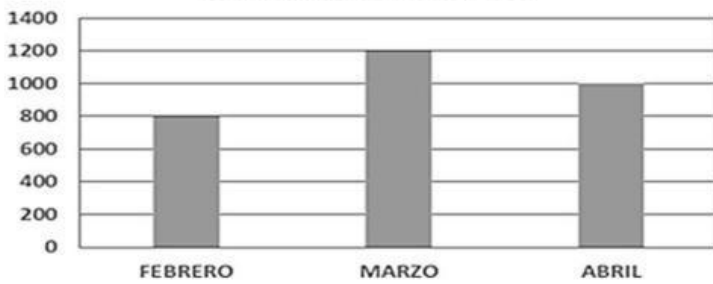


- a) 50
b) 40
c) 140
d) 100

4. La gráfica muestra la cantidad de cuadernos vendidos en la librería

"El Estudiante"

CUADERNOS VENDIDOS

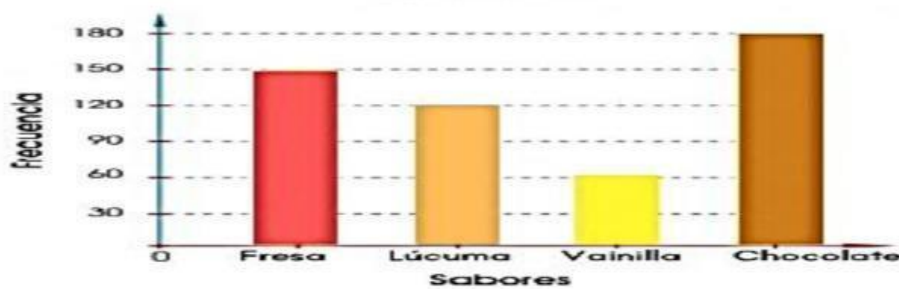


¿Cuál de las afirmaciones es correcta?

- En el mes de marzo se vendió 200 libros más que el mes de abril.
- En el mes de marzo se vendió 200 libros menos que el mes de febrero.
- En el mes de febrero se vendió 200 libros más que el mes de abril.
- En el mes de marzo se vendió 200 libros más que el mes de febrero.

5. En el siguiente gráfico de barras se muestra la cantidad de

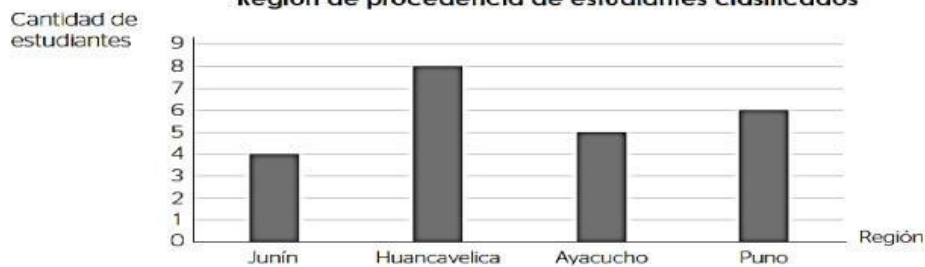
Sabores de helados vendidos



- ¿Cuántas personas fueron encuestadas?
 - 330 personas
 - 510 personas
 - 450 personas
 - 150 personas
- ¿A Cuántas personas más les gusta del sabor de chocolate que de Vainilla?
 - 60 personas
 - 30 personas
 - 120 personas
 - 180 personas.

6. En un campeonato inter-escolar de atletismo, clasificaron estudiantes de cuatro regiones del Perú. El siguiente gráfico de barras muestra la región de procedencia de estos estudiantes.

Región de procedencia de estudiantes clasificados



¿Cuál de las siguientes tablas corresponde a la información mostrada en el gráfico?

a

Región	Cantidad de estudiantes
Junín	8
Huancavelica	6
Ayacucho	5
Puno	4

b

Región	Cantidad de estudiantes
Junín	4
Huancavelica	5
Ayacucho	6
Puno	8

c

Región	Cantidad de estudiantes
Junín	6
Huancavelica	5
Ayacucho	8
Puno	4

d

Región	Cantidad de estudiantes
Junín	4
Huancavelica	8
Ayacucho	5
Puno	6