

LKPD

Matematika

Tema:

Pengurangan Kurang Dari 20

$$5 + 4 = ?$$
$$9 - 4 = ?$$

???

Nama Kelompok :

Kelas:

TUJUAN LKPD

Tema:

Pengurangan Kurang Dari 20

Siswa dapat mengenal konsep pengurangan melalui gambar benda dan hewan di sekitar.

Siswa dapat menghitung hasil pengurangan dengan benar.

Siswa dapat menuliskan hasil pengurangan menggunakan lambang bilangan.

Siswa dapat melatih ketelitian dan berpikir logis dalam menyelesaikan soal cerita sederhana.



PETUNJUK LKPD

Tema:


Pengurangan Kurang Dari 20

1. Bacalah judul dan petunjuk pada setiap halaman dengan cermat.
2. Perhatikan gambar yang ada di setiap soal. Hitung jumlah benda atau hewan yang terlihat.
3. Ikuti pertanyaan di bawah gambar, lalu lakukan pengurangan sesuai yang diminta.
4. Tuliskan jawabanmu di kotak yang sudah disediakan.
5. Periksa kembali jawabanmu sebelum dikumpulkan.
6. Kerjakan dengan jujur dan teliti, ya! 🌸




Pengurangan


Hitunglah pengurangan di bawah ini.




$$\square - \square = \square$$



$$\square - \square = \square$$



$$\square - \square = \square$$



$$\square - \square = \square$$

Taman Bunga

Perhatikan gambar, kemudian jawablah pertanyaan di bawah ini.



Pertanyaan:

Berapa banyak kupu-kupu yang tersisa apabila kupu-kupu lain terbang?

$$\square - \square = \square$$