



LKPD GERAK LURUS

IMRAHATUL HUSNA



1

TEKSFIELD

Tuliskan perbedaan antara jarak dan perpindahan!

2

SINGLE CHOICE

Besaran yang termasuk besaran vektor adalah ...

3

CHECKBOXES

ciri - ciri GLB adalah....

☐

Kecepatan tetap

☐

percepatan tetap

☐

jarak sebanding waktu

☐

kecepatan bertambah

4

SELECT

Kecepatan rata-rata diperoleh dari perbandingan antara ...



jarak



perpindahan



massa

5

WORD SEARCH

S	A	T	U	E
X	R	I	G	M
K	I	G	D	P
J	E	A	U	A
L	I	M	A	T

Temukan 5
angka pada kota
di samping

6

SPEAK

bacakan kalimat berikut dengan tepat!



Gerak lurus beraturan adalah gerak dengan kecepatan tetap, sedangkan gerak lurus berubah beraturan memiliki percepatan tetap.

7

LISTENING

Dengarkan suara berikut dan tuliskan jawaban nya



8

DRAG & DROP

Geser jawaban berikut pada soal yang tepat

Kecepatan rata-rata

$$[v = s / t]$$

Percepatan

$$[s = v \times t]$$

jarak

$$[a = \Delta v / \Delta t]$$



JOIN

Tarik garis soal berikut ke jawaban yang benar

Gaya

tarikan / dorongan

massa

kemampuan
melakukan kerja


energi

ukuran banyaknya
materi


sampaikan kritik dan saran anda terhadap lkpd ini !

selamat bekerja

Perhatikan Video Berikut Ini



Perhatikan materi Presentasi Berikut Ini




link




Listening



catatan :



A rectangular box with a purple scalloped border and five horizontal lines for writing.



A rectangular box with a purple scalloped border and five horizontal lines for writing.