

1. Marca con una **X** la opción que **NO** corresponde a una de las etapas de la evolución del hombre:

Homo sapien

Homo habilis

Homo sapius


Australopithecus

Homo erectus

2. Relaciona cada imagen uniendo con una línea con la palabra correspondiente al uso que el hombre primitivo le dio al fuego según sus necesidades:



Defenderse de los animales



Calentarse



Cocinar alimentos



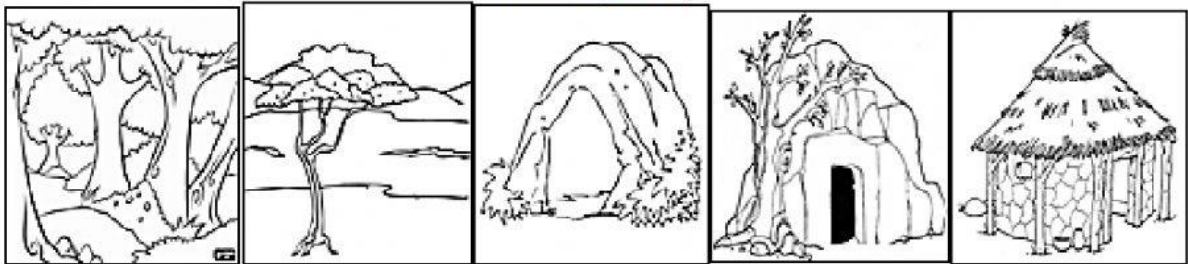
Iluminar las noches

3. Teniendo en cuenta la evolución del hombre y sus avances, une con una línea al Homo Sapiens con el tipo de vivienda que le corresponde:

Homo Sapiens



VIVIENDA (HABITAT)



4. Escoge la respuesta correcta según la forma de vida de los primeros habitantes:

- Se organizaban en pequeños grupos:

NOMADAS

SEDENTARIOS

- Se movían de un lugar a otro por los cambios de estación:

NOMADAS

SEDENTARIOS

- Se dedicaban a cazar y recolectar lo que encontraban:

NOMADAS

SEDENTARIOS

- Criaban ganado y cultivaban la tierra:

NOMADAS

SEDENTARIOS

- Sus viviendas eran más resistentes a los cambios del clima:

NOMADAS

SEDENTARIOS

- Sus viviendas eran fabricadas con ramas, paja o pieles de animales:

NOMADAS

SEDENTARIOS

5. Escoge la opción que **NO** corresponde a la forma de vida senderaría:

Cultivaron la tierra

Recolectaban frutas

Construyeron casa fuertes



6. Escoge la opción que corresponde a la forma de vida nómada:

Cultivaron la tierra

Criaban animales

Se movían de un lugar a otro

7. Une con una línea la imagen según corresponda con la forma de vida:



NOMADAS

SEDENTARIOS

8. Escoge la respuesta correcta:

La razón por la cual el ser humano paso del nomadismo al sedentarismo:

Descubrió la pesca

Se cansó de caminar

Descubrió el fuego

Descubrió la agricultura

9. Escoge la respuesta correcta:

Las primeras comunidades humanas estaban organizadas en:

Hordas
Pandillas
Tribus

Clanes
Familias
Tribus

Hordas
Clanes
Tribus

Hordas
Pandillas
Amigos

10. Escoge la respuesta correcta:

Las tribus estas formadas por:

Mis amigos

Clanes

Hordas

Pandillas

11. Escribe los números del 1 al 3 para organizar la aparición de las primeras comunidades humanas desde la primera a la última:

	CLANES
	HORDAS
	TRIBUS

12. Escoge la respuesta correcta:

La comunidad que se forma solo por instinto y la necesidad de búsqueda de alimento y defensa ante los animales fue:

	CLANES
	HORDAS
	TRIBUS