

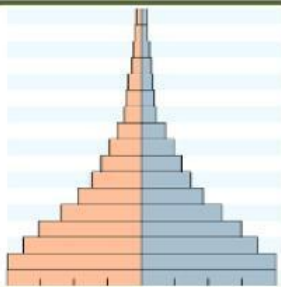
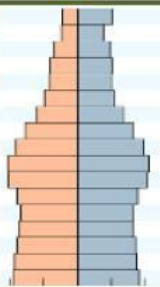
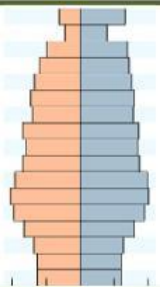
LEMBAR KERJA MURID DINAMIKA KEPENDUDUKAN

Nama	:	Kelas	:
------	---	-------	---

- A. Tunjukkan perbedaan antara 3 jenis proses pengambilan data kependudukan di Indonesia ! Kerjakan dengan teknik drop down pada masing-masing sel yang tersedia.

Indikator	Sensus	Survei	Registrasi
Waktu Pelaksanaan			
Cakupan Wilayah			
Pelaksana			
Sasaran			
Data Yang diperoleh			

- B. Tunjukkan karakteristik tiga jenis Piramida Penduduk berikut ini dengan menggunakan teknik drop down!

Indikator			
Nama			
Dependency Ratio			
Karakteristik angka Kelahiran dan kematian			
Pertumbuhan Penduduk			

- C. Jodohkan deskripsi di kolom kiri dengan kolom kanan dengan memberi garis. Buatlah tanda garis setelah icon pensil muncul saat Anda menyentuh bagian kolom pada layar!

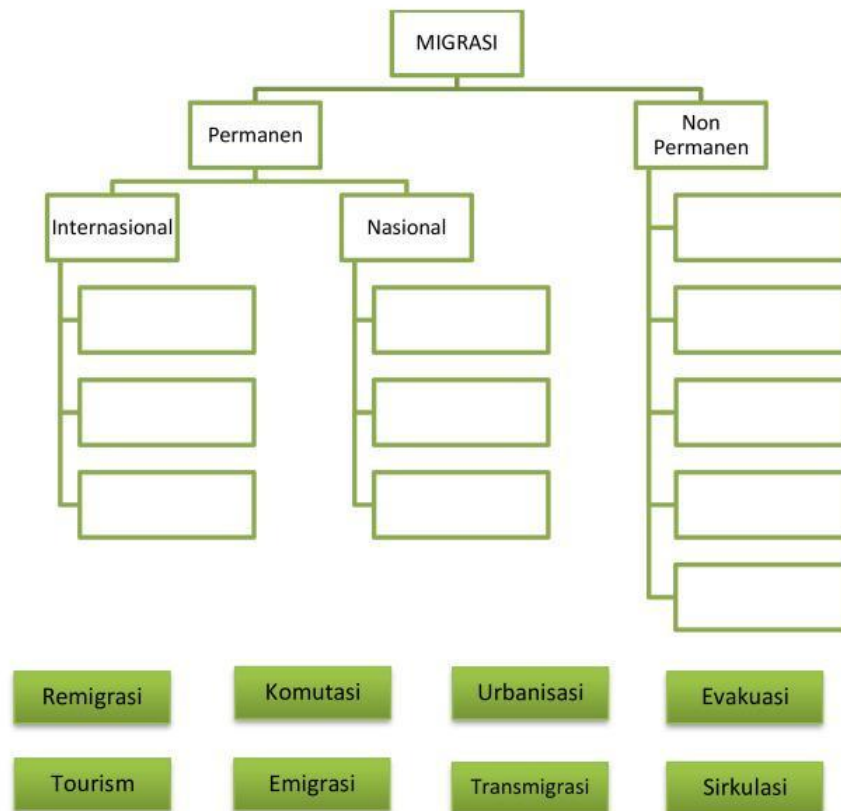
Deskripsi
Penduduk Desa, Penduduk Kota
Penduduk Laki-laki, Penduduk Perempuan, Penduduk Usia Muda, Penduduk Usia Lanjut
Penduduk bermatapencaharian Petani, Nelayan, Buruh
Penduduk Berpendidikan Tinggi, Penduduk Belum menikah, Penduduk penderita Hipertensi

Jenis Komposisi Penduduk
Biologis
Sosial
Geografis
Ekonomi

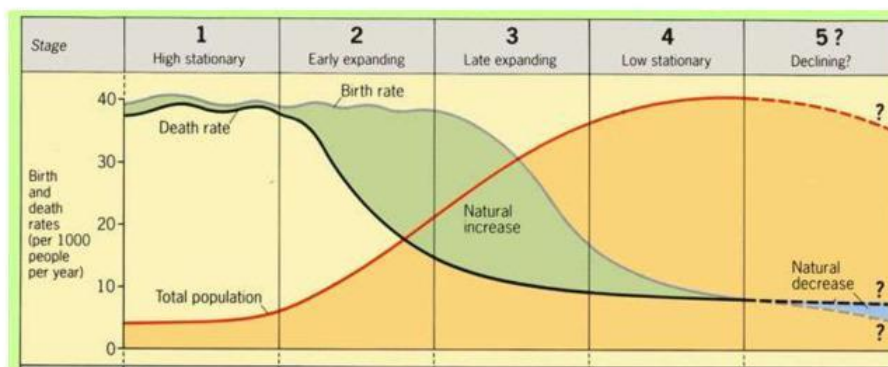
- D. Pada bagian ini kalian diminta untuk mengklasifikasi Faktor Natalitas dan Mortalitas. Pilih dengan menggunakan cara Drop Down pada masing-masing kotak Jawaban!

Deskripsi	Faktor
Terjadinya bencana alam seperti gunung meletus, gempa bumi, banjir, Peperangan, wabah penyakit, pembunuhan	
Anak merupakan penerus keturunan terutama anak laki-laki.	
Meningkatnya keadaan gizi penduduk	
Menikah usia muda.	
Penundaan usia perkawinan dengan alasan menyelesaikan pendidikan.	
Memperbanyak tenaga medis seperti dokter, dan bidan	
Semakin banyak wanita karir.	
Pelaksanaan Program Keluarga Berencana (KB).	
Anak merupakan penentu status sosial.	
Meningkatnya kesadaran penduduk akan pentingnya kesehatan	
Rendahnya kesadaran masyarakat akan pentingnya kesehatan	
Anak menjadi harapan bagi orang tua sebagai pencari nafkah.	
Fasilitas kesehatan yang memadai	
Keadaan gizi penduduk yang rendah	
Pandangan masyarakat "banyak anak banyak rezeki".	
Fasilitas kesehatan yang belum memadai	

E. Tariklah (drag) papan jenis migrasi ke tempat yang sesuai pada chart dan lepaskan (drop)!



F. Perhatikan Diagram Transisi Demografi berikut ini! Tentukan pernyataan di bawah ini benar atau salah dengan meng-klik/tap tombol benar atau salah di bagian kanan!



Deskripsi	Benar/Salah	
Kondisi saat angka kematian turun drastis dan angka kelahiran masih tinggi, sehingga menyebabkan peningkatan jumlah penduduk terjadi pada tahap (stage) kedua	Benar	Salah
Kondisi peningkatan jumlah penduduk yang stabil karena angka kelahiran dan angka kematian tinggi yang disebabkan oleh wabah, kelaparan, dan keterbatasan pengetahuan kesehatan terjadi di tahap (stage) keempat	Benar	Salah
Kondisi kesehatan yang baik dan ketahanan pangan yang tangguh terjadi di tahap (stage) keempat dan kelima.	Benar	Salah
Pertumbuhan penduduk yang melambat terjadi pada tahap (stage) ketiga karena angka kematian turun drastic.	Benar	Salah