


# LKPD

## Matematika

Tema:  
Pecahan



Nama:

Kelas:

## **Identitas**

<b>Penyusun</b>	<b>: Maharani Eka Putri</b>
<b>Instansi</b>	<b>: SD Negeri</b>
<b>Tahun Penyusunan</b>	<b>: 2025/2026</b>
<b>Jenjang Sekolah</b>	<b>: SD</b>
<b>Mata Pelajaran</b>	<b>: Matematika</b>
<b>Fase/Kelas:</b>	<b>: A/2 (Dua)</b>
<b>Alokasi Waktu</b>	<b>: 1 kali pertemuan/2x35 menit</b>

## **Tujuan**





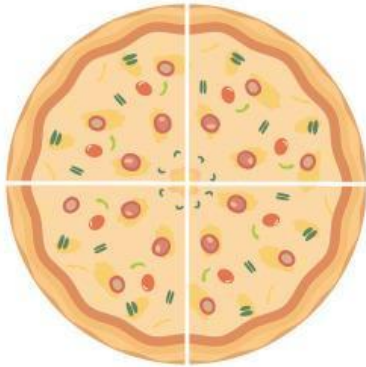
- 1. Menunjukkan pecahan seperempat ( $\frac{1}{4}$ ) dari benda utuh yang dibagi menjadi empat bagian sama besar.**
- 2. Menamai pecahan seperempat ( $\frac{1}{4}$ ) dengan benar pada gambar atau benda yang telah dibagi menjadi empat bagian sama besar.**
- 3. Menghubungkan konsep pecahan seperempat dengan situasi nyata di sekitar mereka (misalnya pizza, kue, semangka, atau kertas lipat).**

## **Petunjuk Pengerjaan**

- 1. Berdoa sebelum mengerjakan lembaran soal.**
- 2. Isilah identitas seperti nama dan kelas.**
- 3. Bacalah setiap perintah pada LKPD dengan teliti sebelum mengerjakan.**
- 4. Perhatikan gambar-gambar yang tersedia pada setiap bagian.**
- 5. Ikuti setiap perintah yang ada pada setiap kegiatannya.**
- 6. Tuliskan jawaban yang benar pada kolom yang telah disediakan.**
- 7. Jika ada yang tidak dipahami, silahkan bertanya pada guru.**
- 8. Mulailah mengerjakan LKPD ini dengan sungguh-sungguh.**
- 9. Periksa kembali jawabanmu sebelum dikumpulkan.**

## Setengah dari Benda Utuh

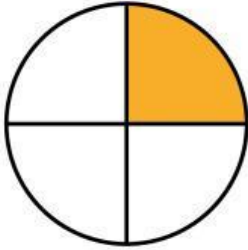
Tariklah garis sehingga gambar berikut menjadi 4 bagian sama besar.





## Mengenali Pecahan Setengah


Kelompokkan gambar di bawah yang menunjukkan seperempat dan bukan seperempat.



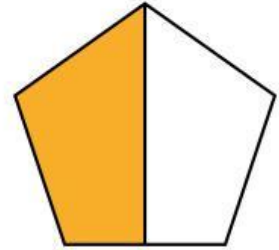
**A**



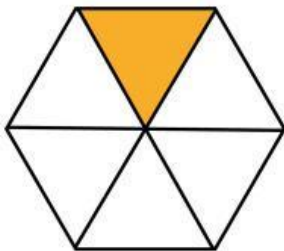
**B**




**C**



**D**



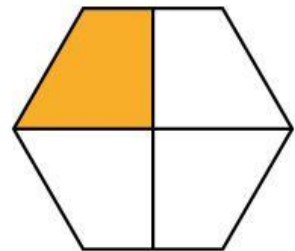
**A**



**B**



**C**



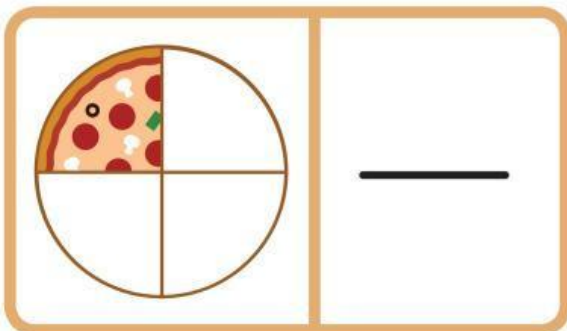
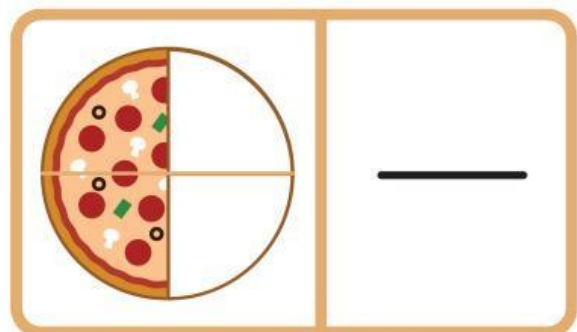
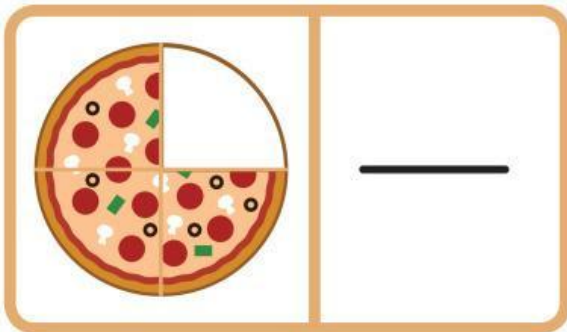
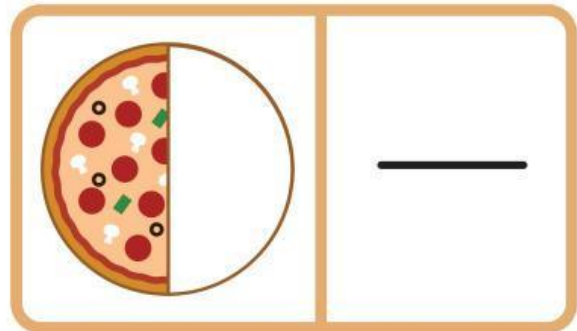
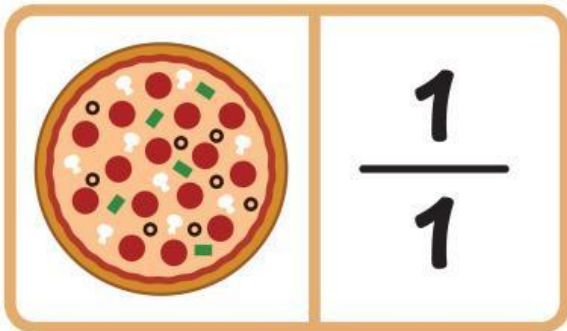
**D**

Tuliskan huruf-hurufnya ke dalam tabel berikut!

Seperempat	Bukan Seperempat


## Potongan Pizza

Tulislah pecahan yang sesuai dengan sisa potongan pizza. di bawah ini.



# Pecahan Buah Semangka

Perhatikan gambar, kemudian isilah tabel di bawah ini.



Gambar	Pecahan	Cara Membaca
		
		
		