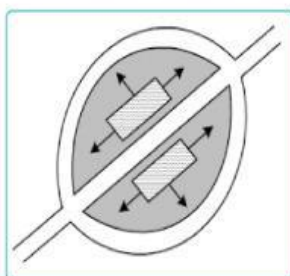


EVALUASI BAB 2 INTERAKSI KERUANGAN DESA KOTA

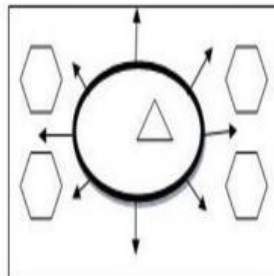
1. JODOHKAN PERNYATAAN DI SEBELAH KIRI DENGAN SEBELAH KANAN MENGENAI PERTUMBUHAN KOTA BERDASARKAN SOSIOKULTURNYA DESA BERIKUT INI

EOPOLIS	Keadaan kota yang ditandai tingkah manusia yang hanya berorientasi pada materi saja dan merupakan gabungan dari beberapa kota metropolitan
POLIS	Keadaan kota yang menunjukkan kemunduran akibat suatu hal dan sampai bisa menjadikan kota tersebut mati
METROPOLIS	Keadaan kota yang dicirikan dengan adanya kegiatan perekonomiannya berupa nindustri kecil yang masih berorientasi di sektor pertanian
MEGAPOLIS	Keadaan kota yang mulai kacau dan masyarakatnya tidak peduli dengan aspek kehidupan
TYRANOPOLIS	Keadaan awal pembentukan kota yang sudah mulai teratur tetapi sektor kegiatan perekonomian masyarakatnya berupa pasar masih bersifat agraris
NEKROPOLIS	Keadaan kota yang sudah mulai bertambah besar dengan penduduk berorientasi di sektor industri dan jasa

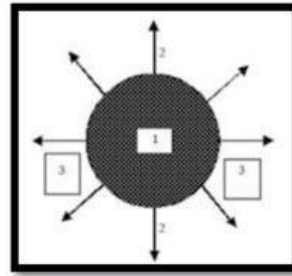
2. PILIHLAH JAWABAN YANG SESUAI DENGAN GAMBAR BERIKUT INI



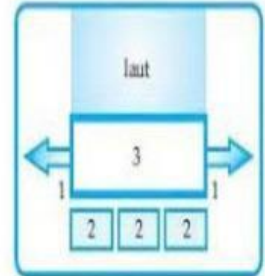
POLA PERSEBARAN DESA



POLA PERSEBARAN DESA



POLA PERSEBARAN DESA



POLA PERSEBARAN DESA ...

3. PERNYATAAN BENAR / SALAH, JIKA PERNYATAAN BENAR SILAHKAN BERI TANDA CEKLIS ✓

Unsur utama yang ada dalam suatu wilayah desa adalah penduduk, wilayah dan tata kehidupan



Perpindahan penduduk dari desa ke kota di sebut transmigrasi



Sarana dan prasarana yang lengkap di kota menjadikan penarik terjadinya urbanisasi dari kota



Wilayah, tanah, air, cuaca, iklim dan ternak merupakan bagian dari unsur fisik sebuah kota



Kota Malang termasuk kota besar karena memiliki jumlah penduduk 889.359 Jiwa.



Kota dengan jumlah penduduk lebih dari lima juta di sebut kota metropolitan



Interaksi antara desa dan kota dapat terjadi karena adanya faktor saling melengkapi



Desa yang berada di daerah pinggir pantai menurut polanya termasuk pola linear



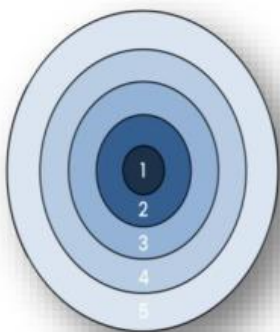
Pola persebaran desa akan terbentuk memusat jika topografinya berupa dataran rendah



Berdasarkan sejarah pembentukannya, Surabaya di kenal sebagai kota Perdagangan



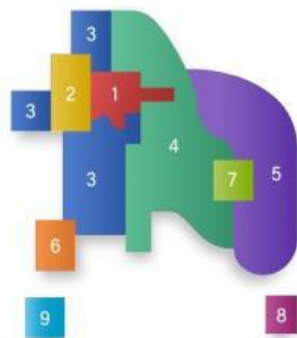
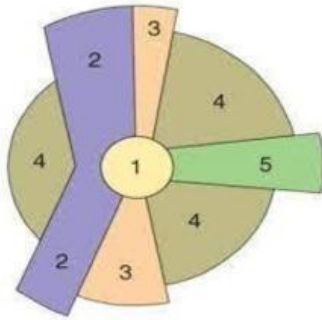
4. PILIHLAH JAWABAN YANG SESUAI DENGAN GAMBAR BERIKUT INI



STRUKTUR KOTA MENURUT TEORI

ZONA 1 ADALAH

ZONA 5 ADALAH



STRUKTUR KOTA MENURUT TEORI

ZONA 3 ADALAH

ZONA 4 ADALAH

STRUKTUR KOTA MENURUT TEORI

ZONA 6 ADALAH

ZONA 8 ADALAH

5. JODOHKAN PERNYATAAN DI SEBELAH KIRI DENGAN SEBELAH KANAN MENGENAI KLASIFIKASI DESA BERIKUT INI !

DESA WISATA

Desa yang melakukan kegiatan industri selain barang pertanian seperti industri bahan galian

DESA AGROBISNIS

Desa yang kehidupannya sudah mampu mengembangkan potensi wilayahnya secara optimal

DESA SWASEMBADA

Desa yang melakukan kegiatan pokoknya mengolah bahan hasil pertanian menjadi barang setengah jadi / barang jadi

DESA SWAKARYA

Desa yang melakukan kegiatan pengolahan dan distribusi hasil pertanian

DESA SWADAYA

Desa yang kehidupannya mulai menerima pengaruh dari luar dan sistem kelembagaan di desanya mulai lengkap

DESA AGROINDUSTRI

Desa yang kehidupannya masih bersifat tertutup dengan adat istiadat yang masih kuat dan baru mampu memenuhi kebutuhan

DESA INDUSTRI NON PERTANIAN

Desa yang memiliki objek wisata sebagai komoditas perekonomiannya