



**PEMERINTAH KABUPATEN PASURUAN  
DINAS PENDIDIKAN DAN KEBUDAYAAN  
UPT SATUAN PENDIDIKAN SDN GONDANGWETAN II  
ASESMEN SUMATIF TENGAH SEMESTER I SEKOLAH DASAR  
TAHUN AJARAN 2025/2026**

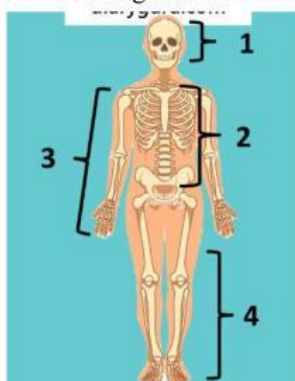
Mata Pelajaran	: IPAS	Nama	: .....
Kelas/Semester	: VI (Enam)/ I (Satu)	Nomor	: .....
Hari/Tanggal	: .....	SD	: .....
Waktu	: 90 menit	Nilai	: .....

**I. PILIHLAH JAWABAN A, B, C, ATAU D YANG DIANGGAP BENAR!**

Perhatikan pernyataan berikut!

1. Pemberi bentuk tubuh  
2. Tempat melekatnya otot-otot  
3. Alat gerak aktif dengan bantuan otot  
4. Menghubungkan tulang satu dengan yang lainnya
1. Siswa kelas VI mempelajari tentang alat gerak pada manusia. Mereka mengenal bahwa terdapat rangka dalam tubuh manusia. Fungsi rangka tersebut ditunjukkan oleh pernyataan nomor ...  
A. 1 dan 2                      B. 1 dan 4                      C. 2 dan 3                      D. 3 dan 4
2. Windu bersama teman-temannya bermain sepak bola di lapangan. Bola tendangan Windu mengenai kepala salah satu temannya. Untungnya dia tidak mengalami cedera karena manusia memiliki ... untuk melindungi otak.  
A. sendi                      B. otot                      C. rangka badan                      D. rangka tengkorak

3. Perhatikan gambar di bawah!



Beni ditugaskan Pak Guru untuk memilih bagian yang berfungsi untuk melindungi jantung dan paru-paru manusia. Beni seharusnya memilih bagian nomor ...

- A. 1  
B. 2  
C. 3  
D. 4
4. Sendi yang terdapat pada bahu dan lutut merupakan salah contoh dari ...  
A. sendi mati                      B. sendi kaku                      C. sendi gerak                      D. sendi pelana
  5. Otot merupakan jaringan penting yang terdapat di dalam tubuh manusia. Berikut ini salah satu fungsi dari otot pada manusia yaitu ...  
A. penegak tubuh                      B. pelindung organ lunak                      C. alat gerak aktif                      D. alat gerak pasif
  6. Perhatikan gambar berikut!

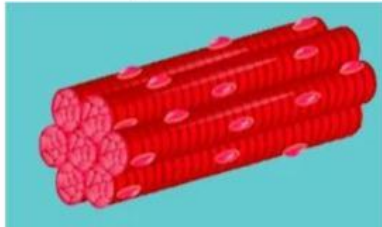


Gambar di samping menunjukkan salah satu jenis otot yang terdapat pada tubuh manusia. Otot tersebut berfungsi untuk ...

- A. memegang dan mengangkat benda  
B. mengedarkan sari makanan  
C. mengedarkan oksigen  
D. menggerakkan jantung

7. Otot pada tubuh manusia memiliki sifat ekstensibilitas. Maksud dari ekstensibilitas yaitu otot bisa ... .
- A. memendek ketika kontraksi  
B. memanjang ketika relaksasi  
C. kembali ke ukuran semula  
D. memutar ketika digunakan
8. Aku adalah otot yang terdapat pada tubuh manusia. Bentukku gelondong seperti potongan-potongan kayu. Aku bekerja tanpa diperintahkan. Aku juga memiliki satu inti sel yang berada di tengah. Aku adalah ... .
- A. otot polos  
B. otot lurik  
C. otot jantung  
D. otot rangka

9. Perhatikan gambar berikut!



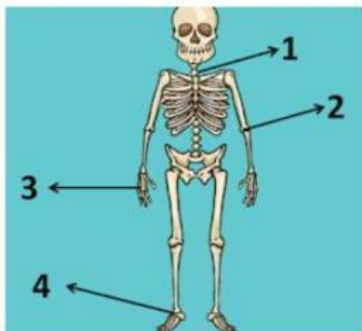
Gambar di atas menunjukkan salah satu otot yang terdapat di dalam tubuh manusia. Otot tersebut berada pada ... .

- A. rangka  
B. saluran pencernaan  
C. pembuluh darah  
D. jantung
10. Berikut ini jenis otot pada tubuh manusia yang bekerja tanpa disadari atau tanpa diperintahkan yaitu ... .
- A. otot polos dan otot lurik  
B. otot polos dan otot jantung  
C. otot lurik dan otot jantung  
D. otot lurik dan otot rangka
11. Perhatikan tabel berikut!

No	Ciri-ciri Otot
1	Terdapat pada saluran pencernaan
2	Bekerja secara sadar
3	Bentuknya serabut seperti serabut kabel
4	Bekerja terus menerus tanpa istirahat

Ani ditugaskan oleh Ibu Guru untuk menyebutkan ciri-ciri otot lurik. Ani harus menyebutkan pernyataan nomor ... .

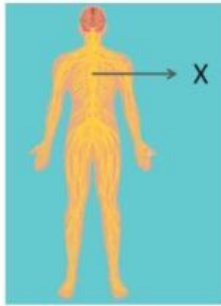
- A. 1 dan 3  
B. 1 dan 4  
C. 2 dan 3  
D. 2 dan 4
12. Perhatikan gambar di bawah!



Sendi yang memungkinkan tulang bergerak menyerupai gerakan pintu dan bersifat satu arah ditunjukkan oleh nomor ... .

- A. 1  
B. 2  
C. 3  
D. 4
13. Berdasarkan arah gerakannya, sendi dibagi menjadi enam macam. Sendi yang memungkinkan bagian tubuh kita bergerak ke segala arah disebut ... .
- A. sendi pelana  
B. sendi engsel  
C. sendi peluru  
D. sendi putar
14. Sendi geser merupakan sendi yang memungkinkan pergerakan tulang yang menggeser tulang yang lain. Berikut ini contoh dari sendi geser pada tubuh manusia yaitu sendi pada ... .
- A. lutut  
B. tulang leher dan tengkorak  
C. ruas-ruas tulang belakang  
D. tulang rahang

15. Dedi terjatuh saat bermain sepak bola. Bahu yang menghubungkan tulang belikat dengan tulang lengannya cidera. Dedi akan kesulitan melakukan . . . pada bahunya.
- A. gerakan satu arah  
B. gerakan dua arah  
C. gerakan menggeser  
D. gerakan ke segala arah
16. Eka bersama Budi ditugaskan untuk memindahkan meja guru ke luar kelas. Ketika mereka memindahkan meja tersebut, paha Eka terkena kaki meja. Eka merasakan sakit pada pahanya. Peristiwa tersebut terjadi karena sistem saraf berfungsi untuk . . . .
- A. menerima rangsangan  
B. mengatur organ-organ tubuh  
C. mengendalikan rangsangan  
D. memberi reaksi terhadap rangsangan
17. Perhatikan gambar berikut!




Sistem saraf pada manusia terdiri atas beberapa bagian. Tanda X pada gambar di atas menunjukkan bagian. . . . dalam sistem saraf.

- A. otak  
B. sel-sel saraf  
C. sumsum tulang dada  
D. sumsum tulang belakang
18. Berikut ini salah satu fungsi dari sistem saraf pada manusia yaitu . . . .
- A. memberi bentuk tubuh  
B. melindungi organ vital  
C. melekatnya otak  
D. menerima rangsangan
19. Rini melaksanakan gerak biasa seperti berjalan, berlari, dan menulis. Ketika melaksanakan gerakan tersebut pusat kendalinya yaitu . . . .
- A. otak  
B. sumsum tulang dada  
C. sumsum tulang belakang  
D. sel-sel saraf
20. Perhatikan gambar berikut!



Gambar di atas menunjukkan salah satu kelainan tulang yang disebabkan oleh posisi duduk yang tidak tepat. Kelainan tersebut dinamakan . . . .

- A. kifosis  
B. lordosis  
C. skoliosis  
D. osteoporosis
21. Penyakit yang disebabkan oleh penurunan kepadatan tulang, sehingga tulang keropos dan mudah patah yaitu . . . .
- A. kifosis  
B. osteoporosis  
C. lordosis  
D. skoliosis
22. Perhatikan gambar di bawah!



Peristiwa pada gambar di atas dapat menyebabkan suatu penyakit. Ciri-ciri penyakit tersebut yaitu seluruh tubuh menjadi kaku, tegang, dan sulit bergerak. Penyakit yang dimaksud yaitu . . . .

- A. tetanus  
B. defisiensi vitamin D  
C. kram  
D. osteoporosis



23. Perhatikan tabel berikut!

No	Keadaan
1	tulang keropos dan mudah patah
2	kelainan tulang punggung yang mana bagian bawah melengkung berlebihan
3	kelainan tulang punggung yang membengkok ke kanan atau ke kiri
4	kondisi tulang belakang yang membuat bagian punggung sebelah atas membulat secara berlebihan

Seseorang yang mengidap penyakit kifosis mengalami kondisi yang ditunjukkan oleh pernyataan nomor ....

- A. 1                                      B. 2                                      C. 3                                      D. 4

24. Agar tulang kita kuat dan tidak rapuh, maka kita harus sering mengonsumsi makanan-makanan yang mengandung ... .

- A. natrium                                      B. karbohidrat                                      C. kalsium                                      D. vitamin C

25. Kejang otot terjadi karena kegiatan otot yang berlebihan. Berikut ini peristiwa yang dapat menyebabkan seseorang mengalami kejang otot yaitu ... .

- A. kurang asupan vitamin C                                      C. masuknya bakteri *Clostridium tetani*  
B. olahraga berat tanpa pemanasan                                      D. posisi duduk yang tidak tepat

26. Perhatikan bangsa-bangsa berikut!

- 1) Belanda  
2) Inggris  
3) Portugis  
4) Spanyol

Terdapat beberapa bangsa dari Benua Eropa yang melakukan pertualangan, pelayaran, dan penjelajahan samudra hingga sampai di Indonesia. Berikut ini urutan datang bangsa Benua Eropa ke Indonesia yaitu

- A. 3, 4, 1, 2                                      B. 3, 4, 2, 1                                      C. 4, 3, 1, 2                                      D. 4, 3, 2, 1

27. Istilah yang dipakai untuk menggambarkan wilayah Indonesia pada awal kedatangan bangsa asing yaitu

- A. Hindia Belanda                                      B. Kepulauan Melayu                                      C. Nusantara                                      D. East Indies

28. Perhatikan tabel berikut!

No	Pernyataan-pernyataan
1	Memiliki tujuan <i>gold, glory, dan gospel</i>
2	Kedatangannya di wilayah Timur Indonesia
3	Mendukung Kerjaan Tidore untuk melawan Kerajaan Ternate

Bangsa-bangsa asing mulai berdatangan ke Indonesia sekitar abad ke-16 Masehi. Pernyataan-pernyataan pada tabel di atas menunjukkan kejadian yang terjadi ketika ... .

- A. kedatangan bangsa Belanda                                      C. kedatangan bangsa Inggris  
B. kedatangan bangsa Portugis                                      D. kedatangan bangsa Spanyol

29. Pada tahun 1602, bangsa Inggris ke Indonesia dipimpin oleh Sir James Lancaster. Awal kedatangan bangsa Inggris tersebut bertujuan untuk ... .

- A. mendapatkan rempah-rempah                                      C. memonopoli perdagangan  
B. memperdagangkan gas dan minyak                                      D. melakukan penjajahan

30. Salah satu bangsa Eropa memiliki prinsip *gold, glory, dan gospel* dalam kedatangannya di Indonesia. Berikut ini maksud dari prinsip *gospel* yaitu ... .

- A. berburu kekayaan                                      C. menyebarkan agama  
B. berburu kejayaan                                      D. menyebarkan politik

31. Perhatikan tabel berikut!

No	Pernyataan-pernyataan
1	memberikan pendidikan pada rakyat pribumi
2	memberikan penghasilan yang lebih tinggi
3	transmigrasi atau perpindahan penduduk
4	kepemilikan tanah bebas pajak

Politik balas budi dijalankan pada tahun 1890 oleh Pemerintah Belanda dengan melakukan kegiatan sesuai pernyataan nomor ... .

- A. 1 dan 2                      B. 1 dan 3                      C. 2 dan 3                      D. 2 dan 4
32. Wilayah Indonesia dikenal sebagai penghasil rempah-rempah sehingga menarik bangsa-bangsa Eropa untuk datang. Berikut ini contoh rempah-rempah yang dicari yaitu ... .
- A. perak, berlian, tembaga                      C. topeng, gambelan, keris  
B. lada, cengkeh, kayu manis                      D. gaharu, jati, dan mahoni
33. Politik balas budi timbul atas pemikiran sebagian masyarakat Belanda yang menganggap bahwa Belanda telah berhutang budi pada rakyat Indonesia. Politik balas budi ini dikenal juga dengan istilah ...
- A. politik etis                      B. politik praktis                      C. politik ekonomi                      D. politik sosial
34. VOC (*Vereenigde Oostindische Compagnie*) merupakan perusahaan dagang Hindia Timur yang dibentuk pada tahun ... .
- A. 1501                      B. 1502                      C. 1601                      D. 1602
35. VOC merupakan salah satu perusahaan multinasional pertama di dunia yang berkantor pusat di ... .
- A. Malaka                      B. Tokyo                      C. Amsterdam                      D. Hawaii
36. Perhatikan gambar berikut!



Tokoh pahlawan nasional yang terkenal dalam Perang Jawa, memimpin pasukan kerajaan untuk berperang melawan pasukan Belanda ditunjukkan oleh gambar nomor ... .

- A. 1  
B. 2  
C. 3  
D. 4
37. Pangeran Diponegoro menerapkan taktik yang dapat membuat Belanda mengalami banyak kekalahan saat menghadapi pasukan Pangeran Diponegoro. Bahkan Belanda sampai harus memanggil bala bantuan tentara Belanda dari wilayah lain. Taktik tersebut dinamakan gerilya yaitu perlawanan dengan cara ... .
- A. menggunakan senjata tajam                      C. menyerbu pasukan terlemah  
B. menyebarkan informasi propaganda                      D. menyerang secara tiba-tiba
38. Perhatikan tabel berikut!

No	Pernyataan-pernyataan
1	Jenderal Soedirman adalah salah satu pahlawan dalam Perang Padri
2	Kaum adat di tanah Minangkabau disebut juga kaum Padri
3	Tuanku Imam Bonjol memimpin kaum Padri di Minangkabau
4	Jabatan Datuk Bandaro digantikan oleh Tuanku Imam Bonjol



Pernyataan di atas yang benar berkaitan dengan Perang Padri ditunjukkan oleh pernyataan nomor ... .

A. 1 dan 2

B. 1 dan 4

C. 2 dan 3

D. 3 dan 4

39. Perhatikan tabel berikut!

No	Pernyataan-pernyataan
1	perjuangan masih bersifat kedaerahan
2	kurang banyaknya rakyat Indonesia yang berjuang
3	belum ada rasa persatuan dan kesatuan atas nama Indonesia
4	kurang banyaknya organisasi pergerakan nasional dari kaum terpelajar

Pada masa penjajahan, kehidupan rakyat Indonesia sangat menderita. Adanya rasa ingin terbebas dari penindasan dan penjajahan dari rakyat Indonesia melalui berbagai perlawanan. Namun, perjuangan tersebut gagal mengusir para penjajah. Alasan kegagalan tersebut ditunjukkan oleh pernyataan nomor ...

A. 1 dan 2

B. 1 dan 3

C. 2 dan 3

D. 2 dan 4

40. Sumpah Pemuda dideklarasikan pada tanggal 28 Oktober 1928 yang menandakan adanya upaya untuk mempersatukan para pemuda dan pemudi di Indonesia. Bait ketiga dari teks Sumpah Pemuda yaitu "Kami putra dan putri Indonesia . . ."

A. menjunjung bahasa persatuan, bahasa Indonesia

B. mengaku berbangsa yang satu, bangsa Indonesia

C. menghargai perbedaan yang ada, perbedaan suku dan agama

D. mengaku bertumpah darah yang satu, tanah air Indonesia

41. Proklamasi Kemerdekaan Indonesia merupakan peristiwa besar dan bersejarah bagi bangsa Indonesia. Berikut ini salah satu peristiwa penting menjelang Proklamasi Kemerdekaan Indonesia yaitu ... .

A. perang Afrika Timur

C. deklarasi Sumpah Pemuda

B. penulisan teks Pancasila

D. kekalahan Jepang

42. Peristiwa Rengasdengklok merupakan salah satu peristiwa penting menjelang Proklamasi Kemerdekaan. Berikut ini penyebab dari terjadinya peristiwa tersebut yaitu ... .

A. menghindari pengaruh-pengaruh dari Belanda

B. perbedaan pendapat antara golongan tua dan muda

C. ketidakstabilan sosial dan politik di Indonesia

D. Jepang mengingkari janji memberikan kemerdekaan

43. Peristiwa Rengasdengklok terjadi di Jawa Barat pada tanggal 16 Agustus 1945. Hasil dari peristiwa tersebut yaitu ... .

A. rumusan teks proklamasi

C. tanggal pelaksanaan proklamasi

B. bendera Sang Merah Putih

D. tempat pembacaan teks proklamasi

44. Salah satu orang yang berjasa dalam mendirikan negara Republik Indonesia sebagai negara berdaulat, menyusun konsep teks proklamasi, dan menandatangani teks proklamasi atas nama bangsa Indonesia yaitu ... .

A. Ir. Soekarno

B. Sukarni

C. L. T. Maeda

D. Achmad Soebardjo

45. Seorang perwira tinggi angkatan laut Kekaisaran Jepang yang membantu persiapan konsep teks proklamasi kemerdekaan dengan mempersilakan rumahnya digunakan untuk kegiatan yang sangat penting tersebut yaitu ... .

A. Chaerul Saleh

C. Takeshi Kaneshiro

B. Laksamana Tadashi Maeda

D. Dr. Hermann Kandler

46. Perhatikan gambar di bawah!



Gambar di atas menunjukkan pembacaan teks proklamasi yang dilaksanakan pada 17 Agustus 1945 oleh Bung Karno yang berlokasi di ... .

A. Jalan Pegangsaan Timur No.56 Jakarta Pusat

B. Jalan Pegangsaan Timur No.57 Jakarta Pusat

C. Jalan Pegangsaan Timur No.58 Jakarta Pusat

D. Jalan Pegangsaan Timur No.59 Jakarta Pusat

47. Perhatikan tabel berikut!

No	Pernyataan-pernyataan
1	Mengetik naskah proklamasi
2	Menyusun konsep teks proklamasi
3	Menandatangani teks proklamasi
4	Menciptakan lagu Indonesia Raya

Sayuti Melik merupakan tokoh pemuda yang juga sangat berperan dalam proklamasi kemerdekaan Indonesia. Peran dari beliau yaitu ditunjukkan oleh pernyataan nomor ... .

A. 1

B. 2

C. 3

D. 4

48. Bendera merah putih dikibarkan saat dibacaknya teks proklamasi pada 17 Agustus 1945. Bendera tersebut dijahit oleh ... .

A. Kartini

B. Sayuti Melik

C. Sukrani

D. Fatmawati

49. Berikut arti penting proklamasi kemerdekaan bagi bangsa Indonesia saat ini yaitu ... .

A. kebebasan menjalani kehidupan secara mutlak

C. disegani oleh negara-negara tetangga

B. menjadi negara yang paling kuat di Asia

D. beraktivitas tanpa rasa takut dijajah

50. Terdapat beberapa tokoh yang terlibat dalam peristiwa-peristiwa penting menjelang proklamasi. Salah satunya adalah golongan muda. Berikut ini tokoh yang termasuk golongan muda yaitu ... .

A. Soekarno

B. Mohammad Yamin

C. Wikana

D. Ahmad Subardjo