

Sede San Cristóbal
Cuarta Unidad
Ciencias naturales
Tercero Primaria
Profesora: Josselin Castillo


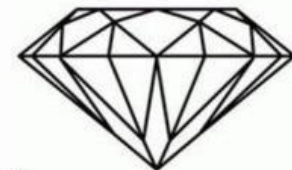

Evaluación final No. 2

Nombre: _____
Sección: _____ Fecha: _____

INSTRUCCIONES GENERALES: lee con atención las instrucciones de cada serie y realiza lo que se te solicita. Trabaja con lápiz únicamente y evita el uso de calculadora o cualquier material de apoyo. Debes dejar constancia de tus procedimientos, en hojas adicionales que se proporcionan.

Serie I

Instrucciones: Escribe el nombre de la materia que le corresponda a cada imagen.



Serie II

Instrucciones: Escriba que ciclo de agua le corresponde a cada significado.



Las gotas de agua evaporadas se juntan formando nubes.





Las gotas de agua se precipitan debido a la gravedad y caen de nuevo a la tierra.



Las gotas de agua se calientan y se convierten en vapor de agua.

Serie III

Instrucciones: En la siguiente sopa de letras encuentra los tipos de energía y escríbalos en las imágenes correspondientes.



Serie IV

Instrucciones: Lea detenidamente cada oración y escriba la palabra que le corresponda en el espacio que se indica.

Contacto

Movimiento

Perciben

Distancia

Fuerza

cambios

- Para que se produzca _____ en un objeto se requiere alguna _____ que influya sobre él.
- Los movimientos de rotación y traslación de los planetas y de la Luna no se _____
- La fuerza produce _____ en los objetos sobre los que se aplica.
- Las fuerzas a _____ son aquellas en las que no es necesario el _____ entre los cuerpos.



Jehová es mi pastor; nada me
faltará"

"Salmo 23:1: