
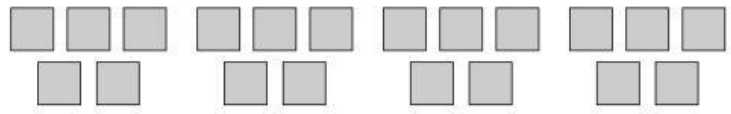


1 Calcula cuántas figuras hay en cada caso con una suma y exprésala como una multiplicación.



$$\begin{array}{r} + \quad + \quad = \\ \times \quad = \end{array}$$



$$\begin{array}{r} + \quad + \quad + \quad = \\ \times \quad = \end{array}$$

2 Expresa como una multiplicación y calcula.

• $2 + 2 + 2 + 2 + 2 + 2 = \quad \times$

• $7 + 7 + 7 + 7 = \quad \times$

• $5 + 5 + 5 = \quad \times$

• $8 + 8 + 8 = \quad \times$

3 Expresa como una suma y calcula.


• $2 \times 7 = + + + + + + =$

• $7 \times 2 = + =$

• $3 \times 5 = + + + + =$

4 Mira el dibujo y resuelve con una multiplicación.

Lidia tiene 4 platos con 3 magdalenas en cada uno. ¿Cuántas magdalenas tiene en total?



$$\times \quad =$$

5 Calcula.

• $\begin{array}{r} 324 \\ \times 2 \\ \hline \end{array}$

• $\begin{array}{r} 621 \\ \times 4 \\ \hline \end{array}$

• $\begin{array}{r} 512 \\ \times 3 \\ \hline \end{array}$

• $\begin{array}{r} 2.431 \\ \times 2 \\ \hline \end{array}$

• $\begin{array}{r} 1.023 \\ \times 3 \\ \hline \end{array}$

• $\begin{array}{r} 2.102 \\ \times 4 \\ \hline \end{array}$

6 Resuelve.

- Una cooperativa ha recogido hoy 4.200 kg de manzanas. Ayer recogieron el doble que hoy. ¿Cuántos kilos recogieron ayer?

$$4.200 \times \quad =$$

- Ayer visitaron la exposición de esculturas 1.230 personas. Hoy la han visitado el triple de personas. ¿Cuántas personas han visitado hoy la exposición?

$$1.230 \times \quad =$$

7 Calcula las multiplicaciones.

$$\begin{array}{r} \text{C D U} \\ 356 \\ \times 2 \\ \hline \end{array}$$

$$\begin{array}{r} \text{C D U} \\ 465 \\ \times 3 \\ \hline \end{array}$$

$$\begin{array}{r} \text{C D U} \\ 627 \\ \times 4 \\ \hline \end{array}$$

$$\begin{array}{r} \text{C D U} \\ 132 \\ \times 5 \\ \hline \end{array}$$

$$\begin{array}{r} \text{C D U} \\ 243 \\ \times 6 \\ \hline \end{array}$$

$$\begin{array}{r} \text{C D U} \\ 532 \\ \times 7 \\ \hline \end{array}$$

8 Piensa y resuelve.

- Lara ha marcado en esta temporada 427 canastas de 3 puntos. ¿Cuántos puntos ha anotado de esa forma?

$$\begin{array}{r} \times \\ \hline \end{array}$$

- En las cajas del hipermercado han recogido hoy 1.275 billetes de 5 € y 623 billetes de 10 €. ¿En qué tipo de billete han recogido más dinero?

$$\begin{array}{r} \times \\ \hline \end{array}$$