

Nama : _____

Kelas : _____

Bahagian A

1. Padankan nilai mata wang dengan harga barangan.

a)



RM 25

b)



RM 40

c)



RM 12

d)



RM 16

Bahagian A

2. Jumlahkan nilai wang.

a

$$\begin{array}{r} \text{RM } 10 \\ + \text{RM } 8 \\ \hline \\ \hline \end{array}$$

b

$$\begin{array}{r} \text{RM } 45 \\ + \text{RM } 30 \\ \hline \\ \hline \end{array}$$

c

$$\begin{array}{r} \text{RM } 47 \\ + \text{RM } 42 \\ \hline \\ \hline \end{array}$$

d

$$\begin{array}{r} \text{RM } 27 \\ + \text{RM } 5 \\ \hline \\ \hline \end{array}$$

e

$$\begin{array}{r} \text{RM } 48.75 \\ + \text{RM } 49.00 \\ \hline \\ \hline \end{array}$$











f

$$\begin{array}{r} \text{RM } 56.70 \\ + \text{RM } 13.60 \\ \hline \\ \hline \end{array}$$

Bahagian B

1. Nyatakan jumlah harga bagi dua barang yang ditunjukkan.



a)		+		RM <input type="text"/>
b)		+		RM <input type="text"/>
c)		+		RM <input type="text"/>
d)		+		RM <input type="text"/>
e)		+		RM <input type="text"/>

Bahagian C

1. Jawab semua soalan di bawah.

a) Ali membeli pensel berharga RM25 dan pemadam berharga RM15.

Berapakah jumlah bayaran?

b) Aisyah ada RM40. Dia dapat lagi RM35 daripada ibu.

Berapa jumlah duit Aisyah?

c) Harga sebiji bola ialah RM35.50. Harga sepasang stoking ialah RM20.75.

Berapa semuanya?