





# Problemas

sumar y restar

- Hay 3 arañas y llegan otras 3. ¿Cuántas hay ahora?.



$$\square + \square = \square$$



- Hay 5 vasos y se rompen 2. ¿Cuántos quedan?.



$$\square - \square = \square$$


- Tengo 4 libros y me regala 6 más.

¿Cuántos libros tengo ahora?.



$$\square + \square = \square$$

- Tengo 4 pájaros y se escapa 1. ¿Cuántos quedan?.



$$\square - \square = \square$$



# Problemas



1. Juan tiene 3 perros, 2 gatos y 5 peces

¿Cuántas mascotas tiene Juan?

Juan tiene  mascotas.

<input type="text"/>	<input type="text"/>
<input type="text"/>	<input type="text"/>
<hr/>	
	<input type="text"/>

2. Comimos 3 bananos y 5 manzanas.

¿Cuántas frutas hemos comido?

Hemos comido  frutas.

<input type="text"/>	<input type="text"/>
<input type="text"/>	<input type="text"/>
<hr/>	
	<input type="text"/>

3. En el parqueadero hay 5 carros azules, 4 negros y 1 blanco.

¿Cuántos carros hay?

Hay  carros.

<input type="text"/>	<input type="text"/>
<input type="text"/>	<input type="text"/>
<hr/>	
	<input type="text"/>

4. En la granja había 12 gallinas y se han perdido 4

¿Cuántas gallinas quedan?

Quedan  gallinas.

<input type="text"/>	<input type="text"/>
<input type="text"/>	<input type="text"/>
<hr/>	
	<input type="text"/>



## Problemas de suma y resta



**1. La pizza tenía 12 trozos y nos comimos 6. ¿Cuántos trozos quedaron?**

Escribe la suma o resta

Resultado

	<input type="text"/>
<input type="text"/>	<input type="text"/>
	<input type="text"/>
	<hr/>
	<input type="text"/>




**2. La gallina tenía 3 huevos y puso 5 más. ¿Cuántos huevos tiene ahora?**

Escribe la suma o resta

Resultado

	<input type="text"/>
<input type="text"/>	<input type="text"/>
	<input type="text"/>
	<hr/>
	<input type="text"/>




**3.** Yo tenía 8 crayolas, pero me compraron 12 más. ¿Cuántas tengo ahora?

Escribe la suma o resta

Resultado

	<input type="text"/>
<input type="text"/>	<input type="text"/>
<hr/>	
	<input type="text"/>



**4.** En la fiesta había 17 globos, pero se reventaron 9. ¿Cuántos globos quedaron?

Escribe la suma o resta

Resultado

	<input type="text"/>
<input type="text"/>	<input type="text"/>
<hr/>	
	<input type="text"/>