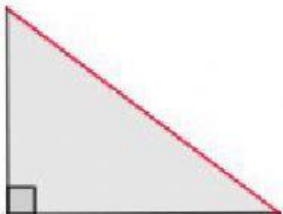

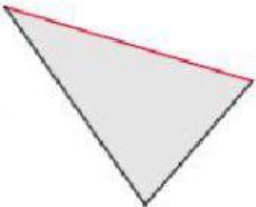

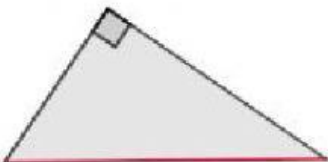
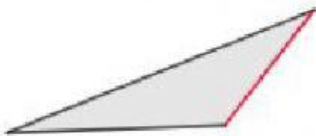
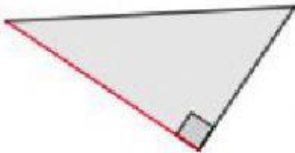
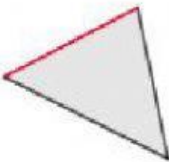
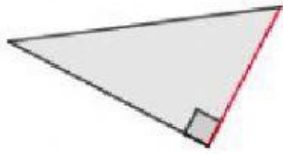


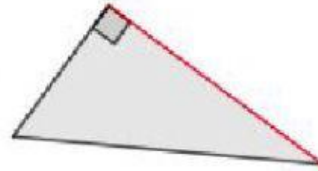
MATEMÁTICAS 2ºESO D. Teorema de Pitágoras, localización de lados.

Ejercicio. Indica si los lados marcados en rojo de cada uno de los triángulos mostrados son catetos, hipotenusas o ninguno de ellos.

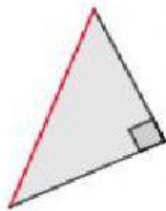
 <p>El lado indicado es</p>	 <p>El lado indicado es</p>
 <p>El lado indicado es</p>	 <p>El lado indicado es</p>
 <p>El lado indicado es</p>	 <p>El lado indicado es</p>
 <p>El lado indicado es</p>	 <p>El lado indicado es</p>



El lado indicado es



El lado indicado es



El lado indicado es



El lado indicado es