

KELOMPOK 6 : CARA KERJA JANTUNG	
1.	
2	
3	
4	
5	
6	

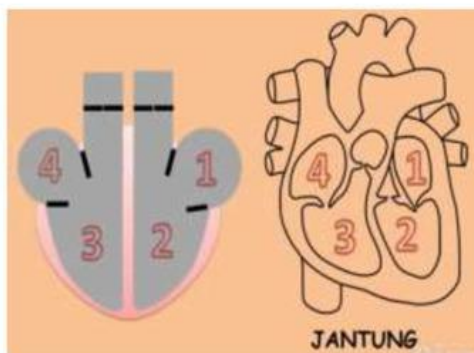
KELAS

<https://youtu.be/QLogMrUGbkc?si=znyPJd0lxtacyglm>

LKPD 6: CARA KERJA JANTUNG

Tujuan : Memahami Cara Kerja Jantung

Pertanyaan Diskusi



Ruang pada Jantung

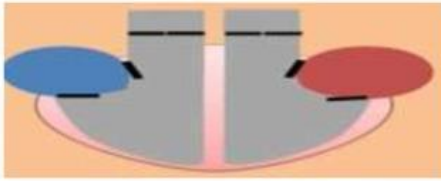
1.
2.
3.
4.

Pada Angka pengukuran tekanan darah tertulis 120/80 mmHg

- Angka yang atas (120) menunjukkan tekanan saat sistolik/ jantung kontraksi
- Angka yang dibawah (80) menunjukkan Tekanan saat diastolik/ jantung relaksasi

Cara Kerja Jantung

1. SAAT JANTUNG RELAKSASI/ DIASTOLE



1. Saat Otot Jantung relaksasi bentuk jantung



2. Darah berada di ruang

dan

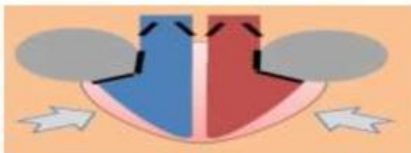


3. Katup terbuka, kemudian darah
Masuk ke

dan



2. SAAT JANTUNG KONTRAKSI/SISTOLE



1. Otot Jantung

BENTUK JANTUNG



2. Darah dipompa menuju keluar jantung
menuju

dan

melalui pembuluh.



3. Dan Darah masuk kembali ke