

KELOMPOK 4: SIKLUS PEREDARAN DARAH		KELAS
1.		
2		
3		
4		
5		
6		

<https://youtu.be/JyfDdVYzqUc?si=y8cqw-B8BbX6oaFP>

LKPD 4: PEREDARAN DARAH MANUSIA

Tujuan : Memahami peredaran darah pada manusia

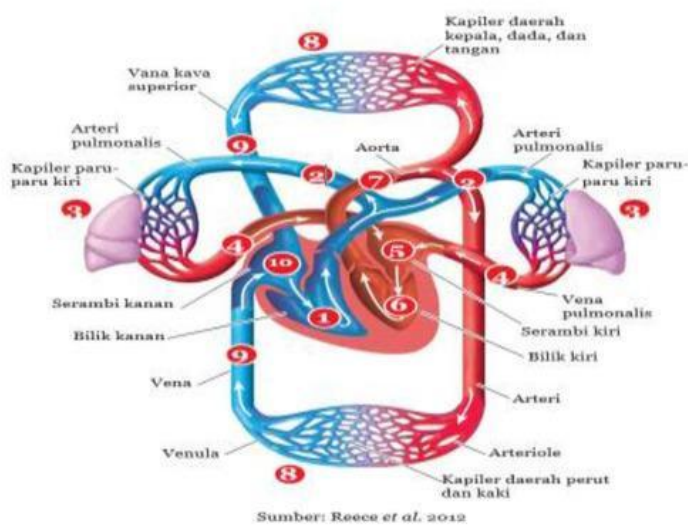
Pertanyaan Diskusi

1. Mengapa peredaran darah manusia disebut peredaran darah tertutup?

2. Mengapa peredaran darah manusia disebut peredaran darah ganda?

3. Peredaran darah manusia dibagi menjadi 2 yaitu peredaran darah besar dan peredaran darah kecil. Perhatikan gambar berikut, tuliskan alur peredaran darah kecil dan peredaran darah besar pada manusia

Perhatikan Gambar berikut!

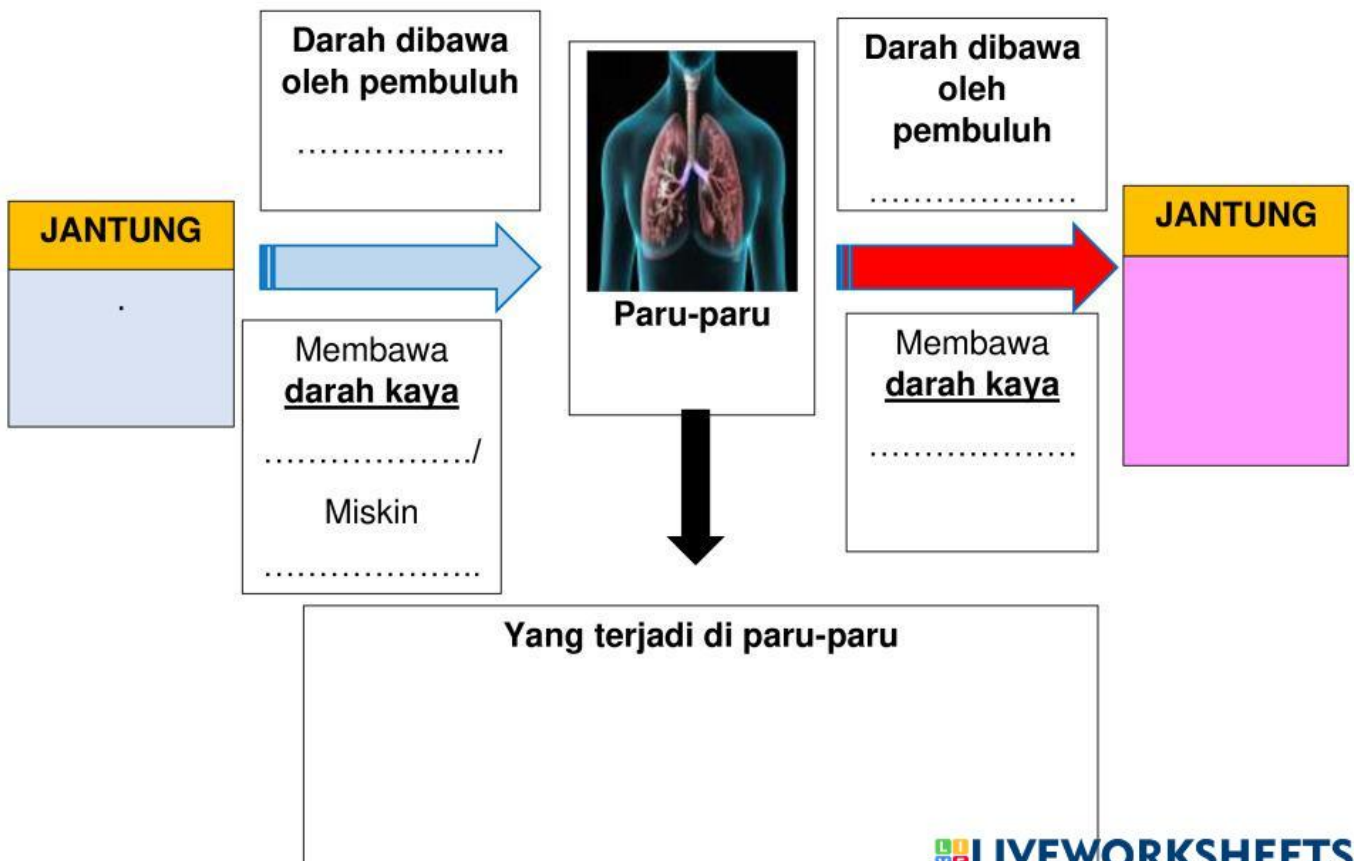
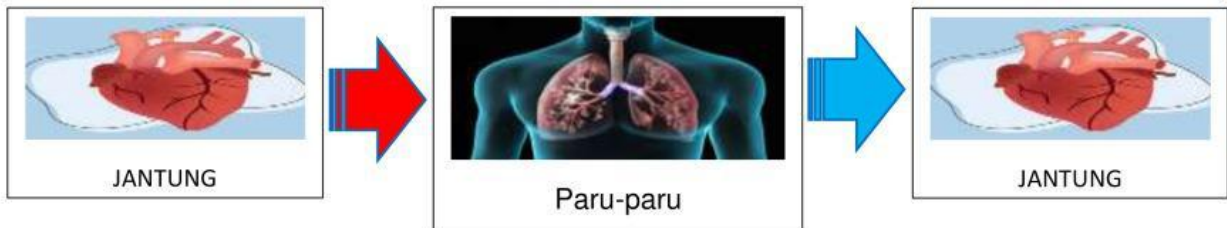


Peredaran Darah Kecil

1 KE 2 KE 3 KE 4 KE 5

Lengkapilah perjalanan dalam system peredaran darah besar (Perhatikan Gambar 1)

Peredaran Darah Besar

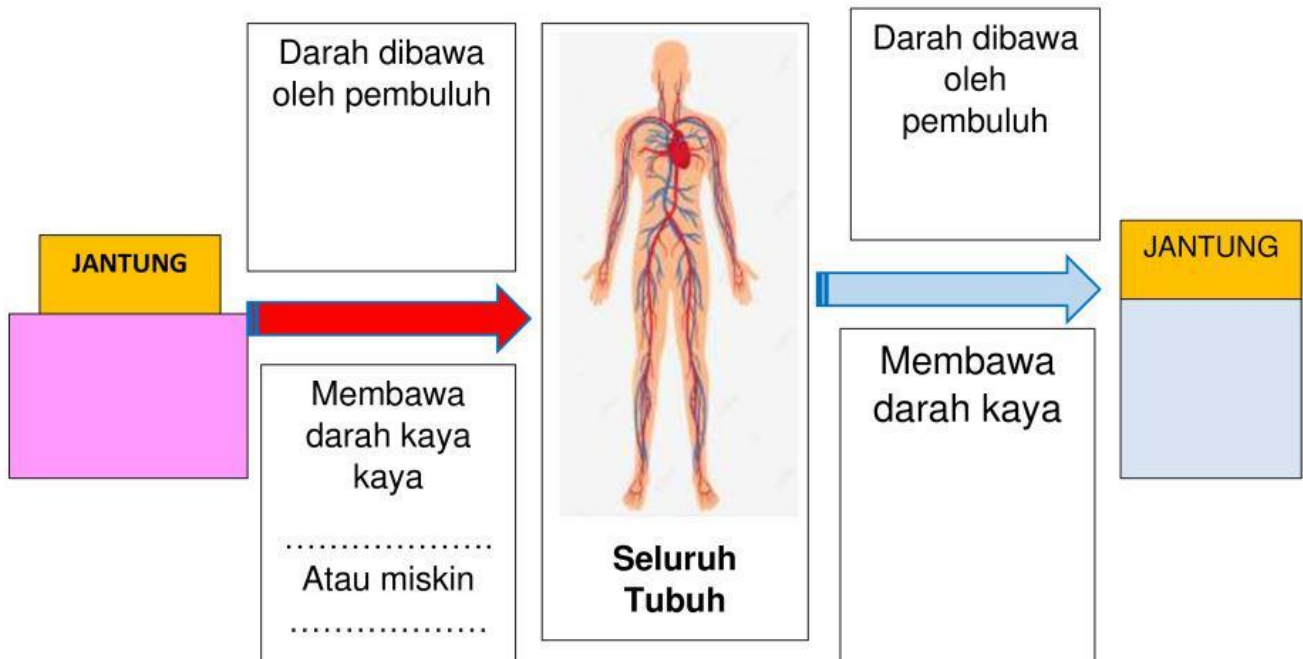
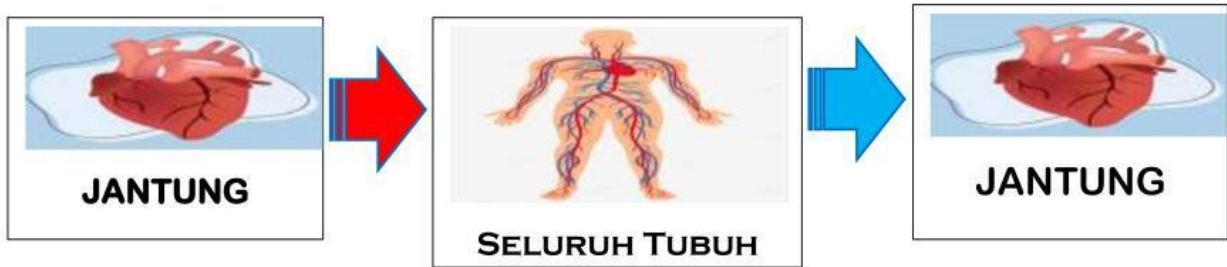


Peredaran Darah Besar

Lengkapilah perjalanan dalam sistem peredaran darah kecil (Perhatikan Gambar 1)

6 ke 7 ke 7 ke 8 ke 9 dan 10

Peredaran Darah Besar



Yang terjadi pada kapiler dan jaringan tubuh