



EVALUACIONES BIMESTRALES DE COMPUTACIÓN PRIMER GRADO

NOMBRE Y APELLIDOS: _____






FECHA: 29/09/25

SECCIÓN: _____

Instrucciones: Responde las preguntas de la evaluación. Para las preguntas de opción múltiple, elige la respuesta correcta. Para las preguntas de respuesta abierta, escribe tu respuesta en el espacio proporcionado.

1. Elige el nombre de cada una de las partes del teclado según su función.



	<input type="text"/>		<input type="text"/>		<input type="text"/>
	<input type="text"/>		<input type="text"/>		

2. Escribe el número que representa el nombre de cada tipo de teclas según corresponda.



A



B



C



D

- 1. teclas numéricas
- 2. teclas direccionales
- 3. teclas especiales
- 4. Teclas alfanuméricas



3. Marca la respuesta correcta:

a. ¿Cuál de las siguientes teclas se usa para salir de un programa?



b. ¿Qué tecla se utiliza para crear un espacio entre palabras?



El docente evalúa el reconocimiento y avance según las siguientes preguntas.

INDICADORES	1	2	3	4	5
1. ¿Cuál es la función de la tecla "Enter"?					
2. Reconoce y menciona las partes del monitor					
3. Identifica con fluidez las teclas de función					
4. Establece diferencias entre el teclado numérico y alfanumérico.					

✨ *"Con esfuerzo y constancia, cada meta es alcanzable. ¡Sigamos firmes y adelante, familia cecilianal!"*