



Nama: _____

Kelas: _____

INTERAKSI DESA-KOTA



Tentukan pilihan jawaban kalian (TRUE or FALSE)

Karakteristik Desa

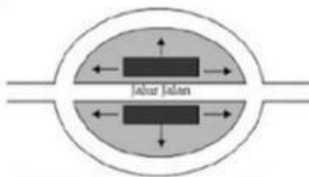
- ☐ • Lahan Pertanian luas
- ☐ • Gesselschaft
- ☐ • Mata pencaharian agraris
- ☐ • Norma agama tidak ketat
- ☐ • Paguyuban
- ☐ • Interaksi masyarakat kuat (toleransi, gotong royong)
- ☐ • Banyak tempat rekreasi dan hiburan

Karakteristik Kota

- ☐ • Sektor Industri dan jasa
- ☐ • Gemeinschaft
- ☐ • Mata pencaharian agraris
- ☐ • Norma agama tidak ketat
- ☐ • Patembayan
- ☐ • kesenjangan sosial mencolok
- ☐ • Banyak tempat rekreasi dan hiburan
- ☐ • Masyarakat Heterogen

Tentukan Pola persebaran pemukiman penduduk di desa berikut ini (Drag and Drop)

1.



Memanjang (Linier)

Memusat

2.



Urutkan Tahapan Perkembangan Kota berikut ini !

Tryanopolis

Polis

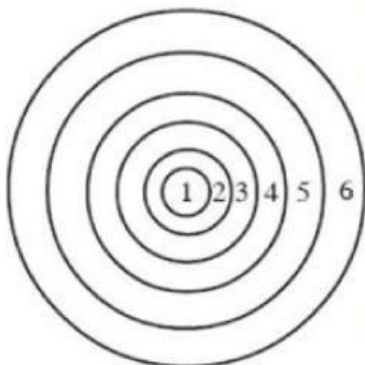
Eopolis

Metropolis

Nekropolis

Megapolis

tentukan urutan dari zona interkasi desa - kota yang tepat berikut ini



1

2

3

4

5

6

Sub urban Fringe

City

Sub urban

Urban Fringe

Rural

Rural Urban Fringe

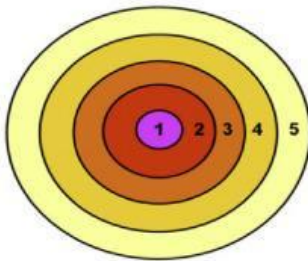


INTERAKSI DESA-KOTA



Tentukan jawaban dengan memberikan anak panah yang sesuai berdasarkan Pola Keruangan Kota berikut ini !

1. Teori Konsentrik

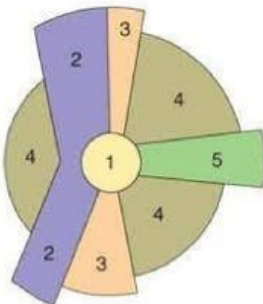


Tokoh Pencetus Teori Tersebut yaitu:

- 1
- 2
- 3
- 4
- 5

Zona Peralihan (perdagangan beralih ke pemukiman)
Zona pemukiman Kelas buruh dan pekerja
Zona pemukiman kelas menengah
CBD (Central Bussines Distric
Zona Penglaju (pemukiman yang beralih ke pertanian

2. Teori Sektoral

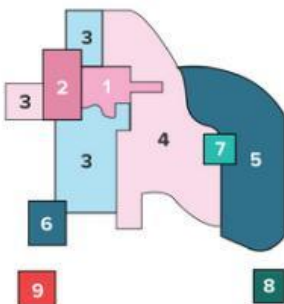


Tokoh Pencetus Teori Tersebut yaitu:

- 1
- 2
- 3
- 4
- 5

Grosir dan manufaktur
Pemukiman kelas rendah
Pemukiman kelas menengah
CBD (Central Bussines District)
Pemukiman kelas atas

3. Teori Inti Ganda



Tokoh Pencetus Teori Tersebut yaitu:

- 1
- 2
- 3
- 4
- 5
- 6
- 7
- 8
- 9

Grosir dan manufaktur
Pemukiman kelas rendah
Pemukiman kelas menengah
CBD (Central Bussines District)
Pemukiman kelas atas
Daerah diluar PDK
Daerah Industri suburban
Daerah manufaktur berat
Pemukiman suburban