

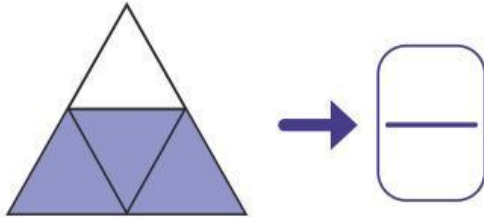
Las fracciones

Nombre: _____ Fecha: _____

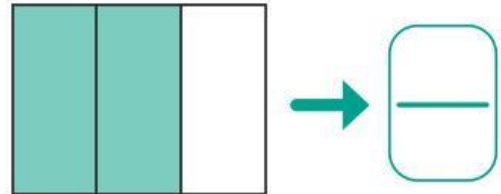
Realiza las siguientes actividades y pone a prueba todo lo aprendido sobre fracciones.

1. Escribe la fracción que representa a la parte coloreada:

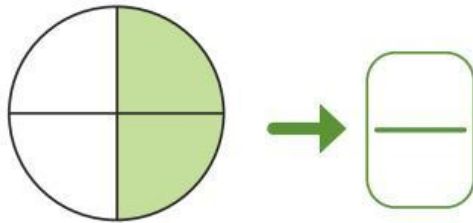
a.



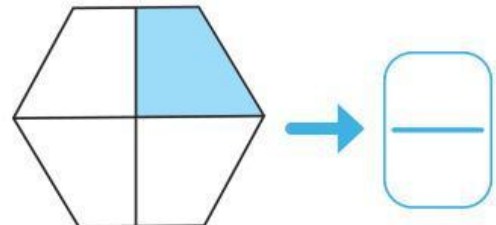
e.



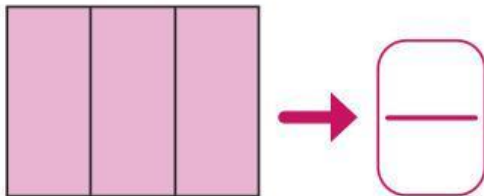
b.



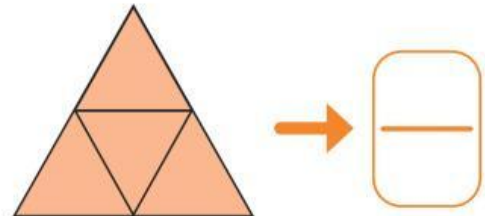
f.



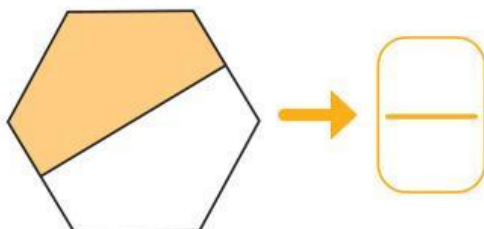
c.



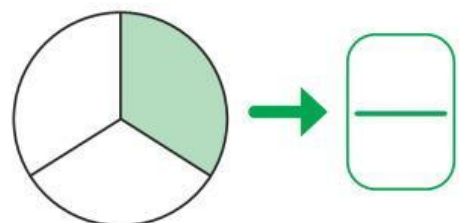
g.



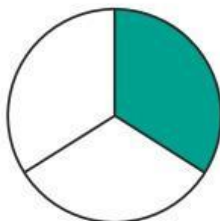
d.



h.



3. Observa la figura y responde las preguntas.



a. ¿En cuántas partes iguales se dividió la figura?

partes iguales.

b. ¿Cuántas partes se pintaron?

parte.

c. ¿A qué fracción del entero corresponde la región pintada?

d. ¿Cómo se lee esa fracción?

e. ¿A qué fracción del entero corresponde la región no pintada?

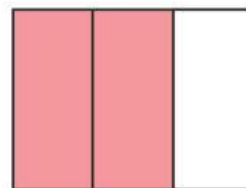
f. ¿Cómo se lee esa fracción?



6. Une cada fracción con la representación que le corresponde:

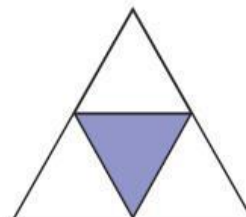
a.

$$\frac{2}{3}$$



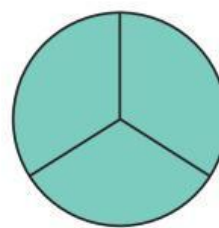
b.

$$\frac{3}{4}$$



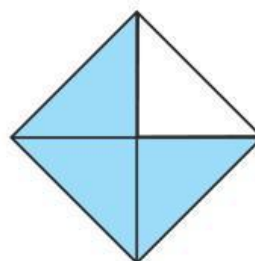
c.

$$\frac{1}{3}$$



d.

$$\frac{1}{4}$$



e.

$$\frac{3}{3}$$

