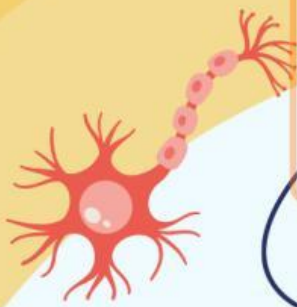


LKPD

Ilmu Pengetahuan Alam

TOPIK : Sistem Saraf pada Manusia

Nama Kelompok



FASE C KELAS VI



Tujuan Pembelajaran

1. Peserta didik dapat mengenal sistem saraf dan fungsinya.
2. Peserta didik dapat mengetahui bagaimana sistem saraf mengkoordinasikan semua respon dan gerakan anggota-anggota tubuh.
3. Peserta didik dapat menerapkan cara menjaga kesehatan sistem saraf.

: Petunjuk !



- Kerjakan bersama teman sekelompokmu dengan cara berdiskusi
- Isilah pertanyaan dari apa yang sudah diamati pada video pembelajaran

Apa Itu sistem Saraf ?

Fungsi Utama sistem saraf adalah mengirimkan pesan berupa :


1.

2.

3.

4.

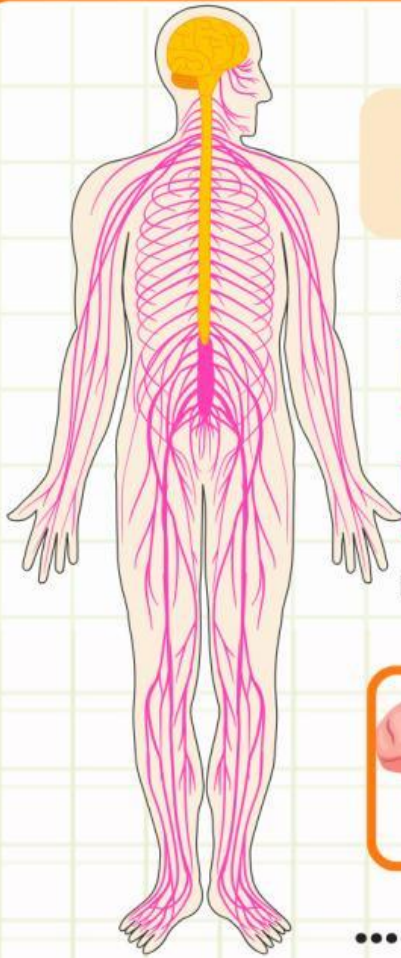
5.



BAGIAN SISTEM SARAF

Sistem saraf terdiri atas dua bagian, yaitu :
Sistem saraf pusat (SSP) dan Sistem Saraf tepi (SST)

Berdasarkan gambar disamping lengkapilah titik-titik dibawah ini !



 Sistem Saraf

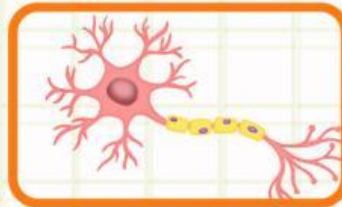
 Sistem Saraf

Berilah nama pada setiap gambar berikut!

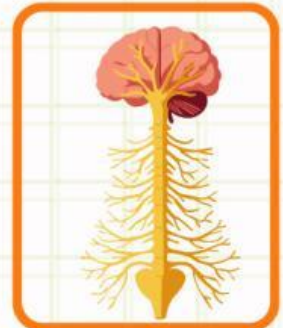
- Sistem saraf pusat
- neuron
- otot
- Sistem saraf manusia
- Sendi



.....

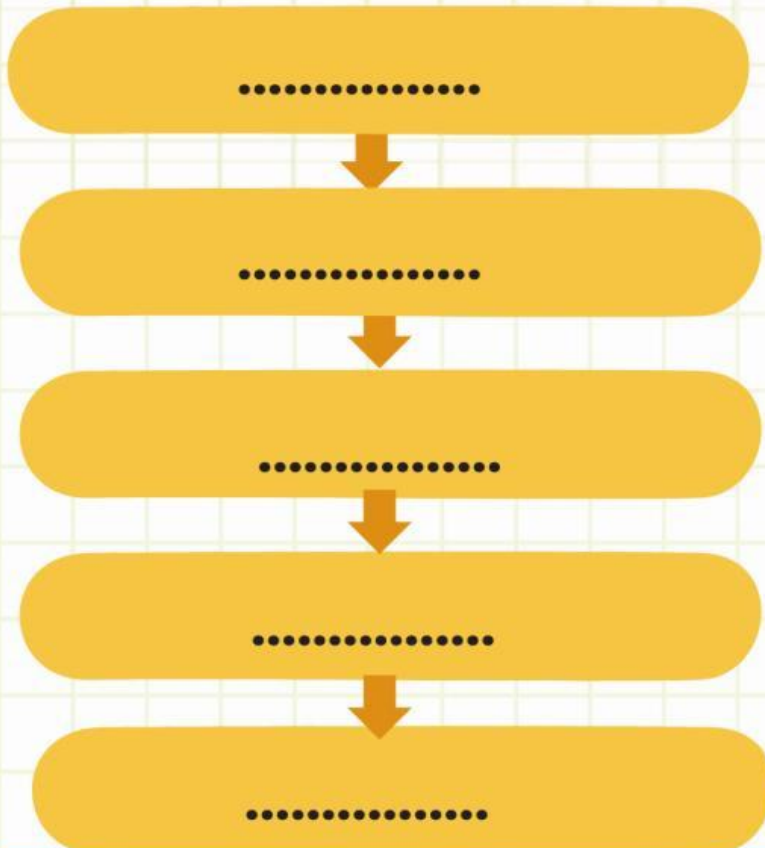


.....



.....

CARA KERJA SISTEM SARAF



Cara menjaga kesehatan sistem saraf adalah dengan :

