

Kelas VII SMP / MTs

LEMBAR KERJA PESERTA DIDIK

Sistem Gerak Pada Manusia



Kelompok ... :

- 1.
- 2.
- 3.
- 4.
- 5.

Stimulus



Seringkah kalian bermain ponsel dengan posisi seperti di atas? Tahukah kalian bahwa kebiasaan manusia dapat menyebabkan terjadinya gangguan pada rangka tubuh?

Identifikasi Masalah

Berdasarkan pernyataan di atas, susunlah pertanyaan dan rumusan masalah yang kalian temukan terkait dengan gangguan pada rangka manusia dan cara mencegahnya!

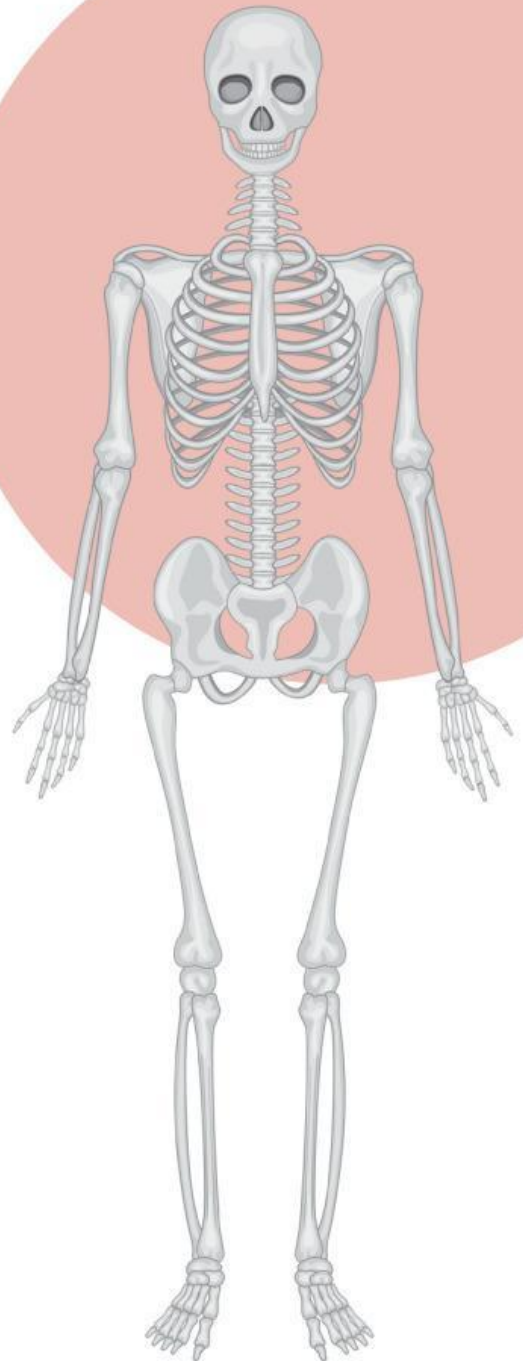
Pengumpulan Data

Alat dan Bahan :

1. LKPD
2. Alat tulis
3. Bahan ajar



Akses bahan ajar dengan memindai barcode
untuk mengumpulkan data



Data Hasil

Amati gambar gangguan pada sistem gerak di bawah kemudian pasangkan antara gambar gangguan dengan nama gangguan pada sistem gerak manusia. Pasangkan gambar gangguan dengan nama gangguan pada kotak yang tersedia dengan menempelkan gambar dan tuliskan penjelasan mengenai gangguan tersebut!

Nama Gangguan	Gambar	Penjelasan
Fraktura (patah tulang)		
Kifosis		
Lordosis		
Riketsia		
Osteoporosis		

Data Hasil

Nama Gangguan	Gambar	Penjelasan
Arthritis		
Skoliosis		

Pengolahan Data

Kaji literatur dari bahan ajar maupun referensi lain mengenai upaya menjaga kesehatan sistem gerak manusia serta kaitkan upaya tersebut dengan pencegahan bagi gangguan / penyakit tertentu.
Catatlah pada tabel di bawah ini!

No.	Upaya Menjaga Kesehatan Sistem Gerak	Upaya Pencegahan Gangguan / Penyakit

No.	Upaya Menjaga Kesehatan Sistem Gerak	Upaya Pencegahan Gangguan / Penyakit

Verifikasi

Presentasikan hasil penemuan kalian di depan kelas! Catatlah apabila ada masukan dari teman kelompok lain!

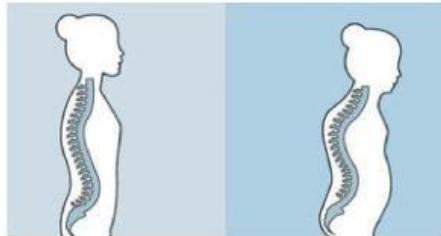
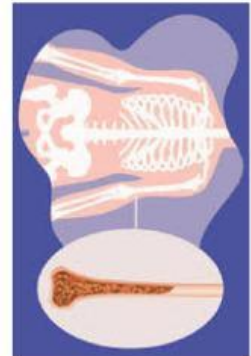
Generalisasi

Tuliskan kesimpulan dari penyelidikan yang kalian lakukan!

1. Gangguan yang dapat terjadi pada sistem gerak manusia meliputi...
2. Beberapa cara untuk menjaga kesehatan sistem gerak manusia yakni...



potong disini



potong disini