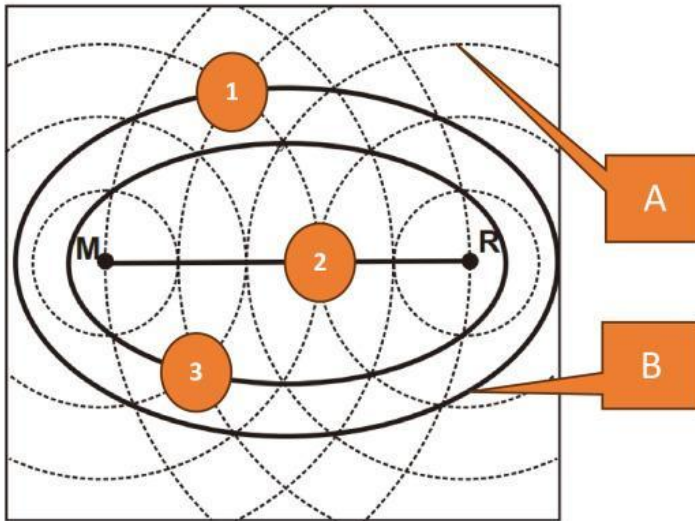


LKPD TATA RUANG

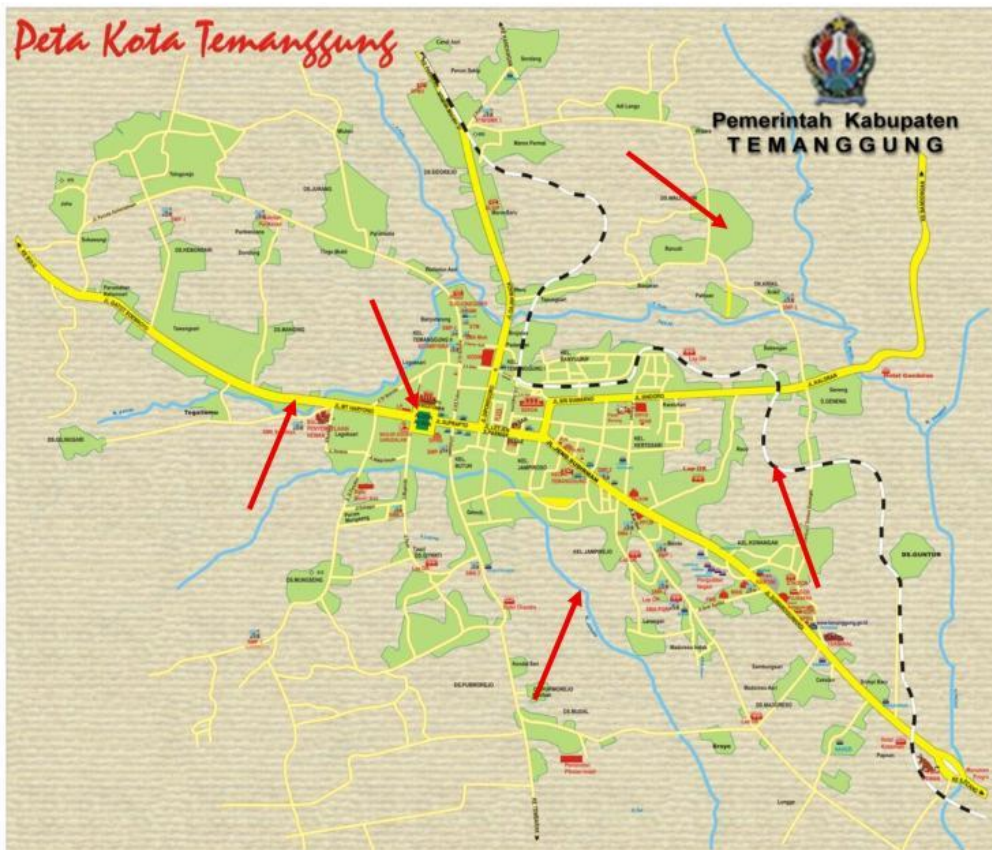
Nama :

Kelas :

1. Perhatikan skema Isotim dan isodapan berikut ini dan jawab pertanyaan-pertanyaan di bagian bawah!



- a. Isotim ditunjukkan oleh huruf
 - b. Isodapan ditunjukkan huruf
 - c. Jika Anda akan membangun lokasi Industri maka lokasi yang paling menguntungkan ditinjau dari total biaya transportasi ditunjukkan angka
2. Perhatikan peta Kota Temanggung berikut! Tunjukkan mana bagian yang ditunjukkan oleh angka berikut yang termasuk Pola Ruang atau Pola Ruang dengan teknik dropdown!

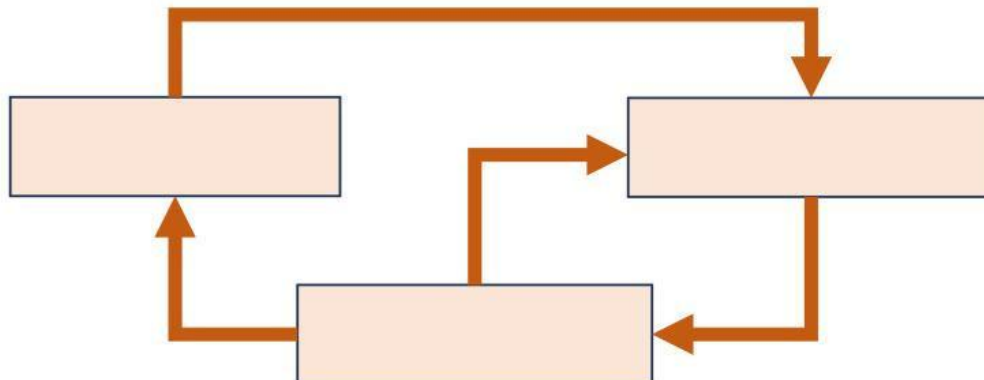


3. Klasifikasikan Frasa-frasa tentang sarana dan prasarana SMAN 1 Candioto pada tabel bagian atas berikut ini ke dalam kategori Pola Ruang atau Struktur Ruang di tabel bagian bawah dengan cara *drag and drop* ke kolom yang sesuai!

Ruang-ruang kelas	Jalan penghubung antarruang	Lapangan Olahraga	Jaringan internet
Jaringan listrik	Jaringan air	Tiang Bendera	Perpustakaan

Struktur Ruang	Pola Ruang

4. Lengkapilah Siklus tata ruang berikut ini. Ketikkan di kotak yang tersedia!



5. Pasangkan Contoh karakteristik wilayah di kolom sebelah kiri berikut ini dengan jenis Kawasan Strategis Nasional di kolom sebelah kanan. Berikan garis penghubung menggunakan icon pensil yang muncul saat bagian kolom disentuh!

Karakter wilayah
Kawasan Taman Nasional Gunung Rinjani
Wilayah perbatasan Indonesia – Timor Leste
Kawasan Kedungsepur dan Gerbang-Kertosusilo
Kawasan Borobudur dan sekitarnya

Jenis Kawasan Strategis Nasional
KSN sudut Kepentingan Ekonomi
KSN Sudut Kepentingan Lingkungan Hidup
KSN sudut Kepentingan Pertahanan dan Keamanan
KSN sudut kepentingan Sosial Budaya

6. Lengkapi Skema Rencana Tata Ruang di Indonesia berikut dengan metode drop down di setiap kotak yang tersedia!

