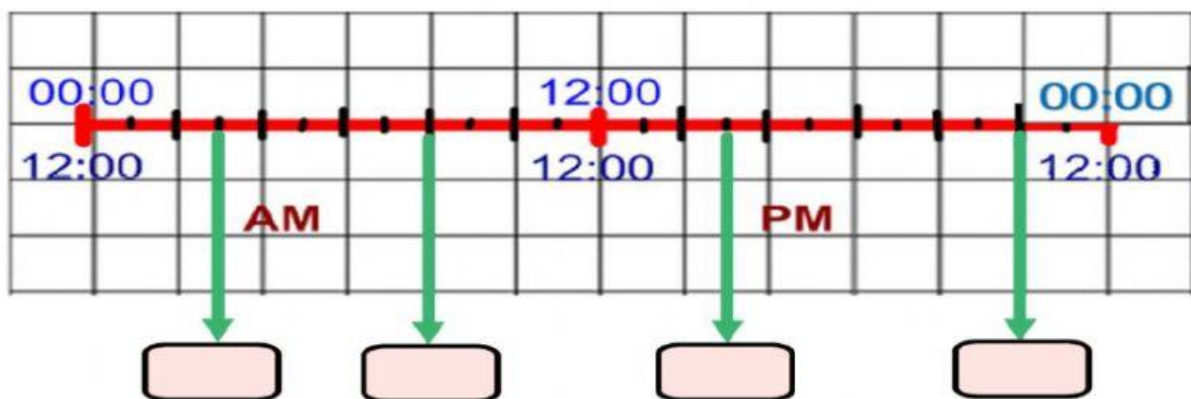


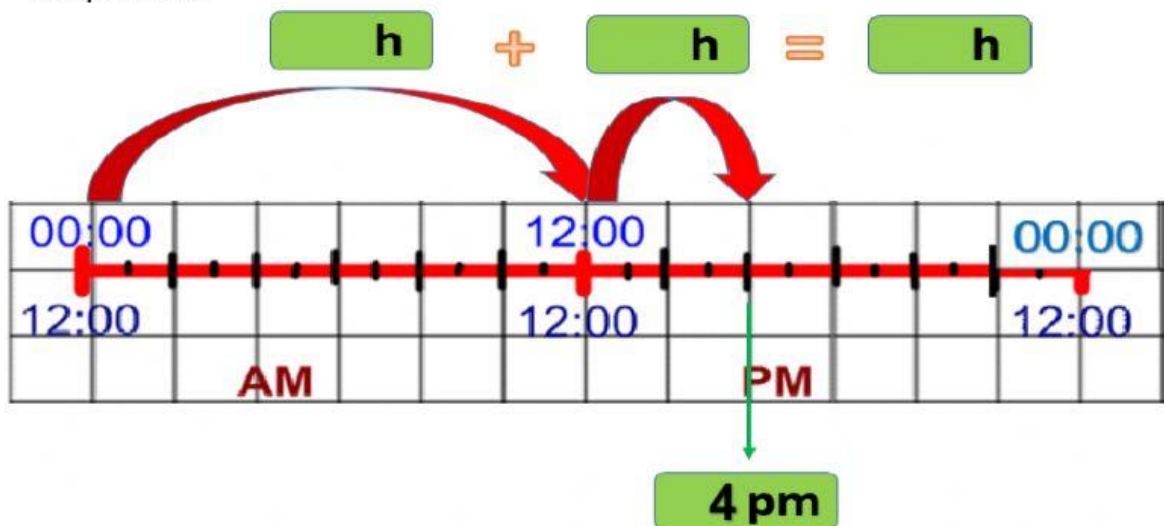
## DEMUESTRO LO APRENDIDO 5: MATEMÁTICA

Competencia:	Resuelve problemas de cantidad
Desempeño/ Objetivo de Evaluación:	Mide el tiempo (horas exactas) en el sistema de 12 y 24 horas.

1. Selecciona las horas señaladas con las flechas.

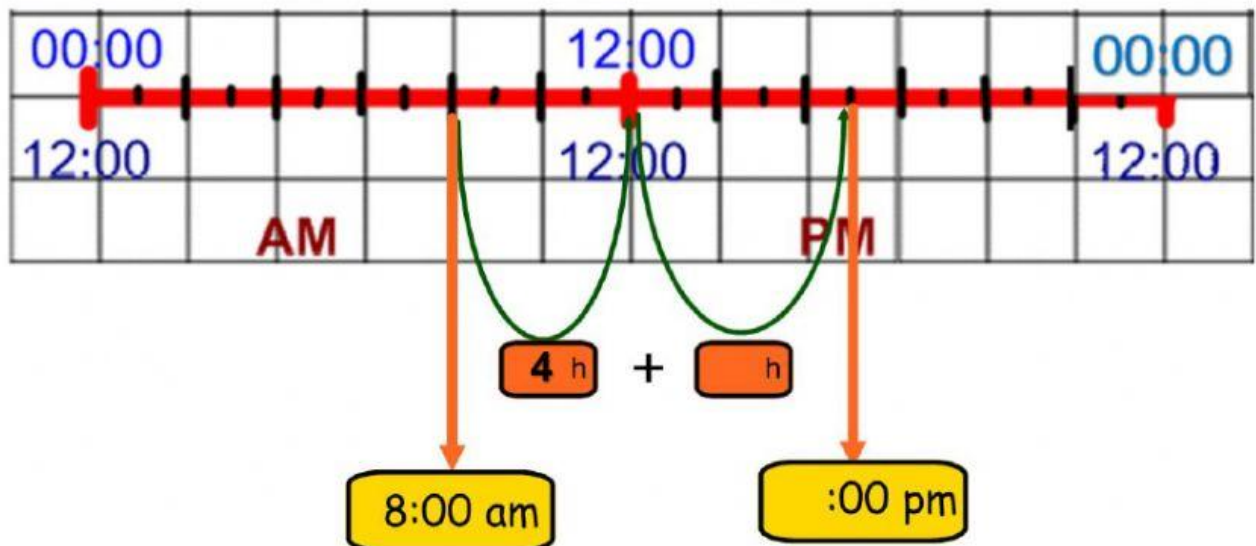


2. Fernando sale todos los días a las 4 pm. Indica a qué hora sale Fernando usando el sistema de 24 horas. Completa el esquema y escribe la respuesta.



Fernando sale a las :00 horas.

3. Elizabeth sale de casa a las 8:00 am y regresa 9 horas después. **¿A qué hora regresa Elizabeth?** Responde en el sistema de 12 horas.



Elizabeth regresa a las  :00 pm.

#### 4. Selecciona la respuesta correcta:

- a) Luis tiene clases desde las 8:00 am. Si sus clases duran 3 horas, **¿a qué hora terminan las clases de Luis?**

**Luis termina sus clases a las**

- b) Martha tarda 2 horas en ir de su casa al trabajo. Si sale de su casa a las 11:00 horas, **¿a qué hora llega a su trabajo?**

**Martha llega a**

- c) Fernando tiene una cita médica a la 1:00 pm y su hermano 6 horas más tarde, **¿a qué hora es la cita de su hermano?**

**La cita de su hermano es a las**