

LKPD

SISTEM KOMPUTER

#Hardware



// Nama :

Kelas :

Pilihlah jawaban A, B, C, D yang paling kamu anggap benar!

1. Perangkat pada komputer yang memiliki bentuk fisik secara nyata dan dapat diraba dan dilihat adalah

- A. Hardware
- B. Software
- C. Brainware
- D. Malware

2. Di bawah ini yang termasuk ke dalam perangkat keras komputer berdasarkan fungsinya, kecuali

- A. Piranti Masukan (Input Device)
- B. Piranti Pemroses (Processing Device)
- C. Piranti Keluaran (Output Device)
- D. Piranti Tambahan

3. Berikut ini manakah yang termasuk ke dalam perangkat keras komputer



C.



D.



4. Yang termasuk ke dalam perangkat keras jenis Piranti Masukan (Input Device) adalah



C.



B.



D.



MATCHING TOOLS

Tarik garis sesuai dengan jawaban yang kamu anggap benar!



**Piranti Keluaran
(Output Device)**



**Piranti Penyimpanan
(Storage Device)**



**Piranti Masukan
(Input Device)**



**Piranti Pemroses
(Processing Device)**

DRAG AND DROP

Isilah bagian yang kosong dengan cara mendrag (menarik) kata-kata di bawah ke tempat yang sesuai dengan nama perangkat di dalam kotak kuning



Speaker

Monitor

Keyboard

Printer

Mouse

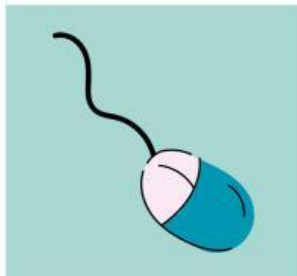
CPU

PERANGKAT KERAS KOMPUTER

Hubungkanlah gambar dengan nama yang tepat!




Mouse



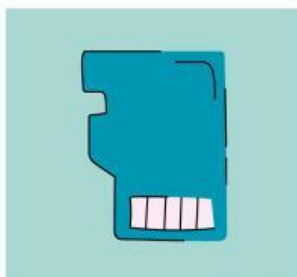
Kartu Memori



Monitor



Keyboard



Flashdisk