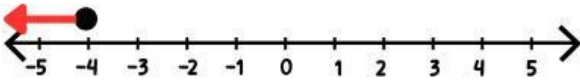


ใบงานที่ 1

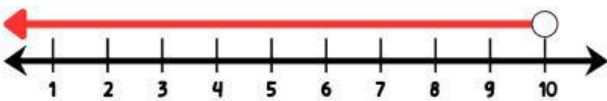
คำชี้แจง ให้นักเรียนเขียนอสมการของกราฟที่กำหนดให้ต่อไปนี้ให้ถูกต้อง

1)



จากกราฟ อสมการ คือ.....

2)



จากกราฟ อสมการ คือ.....

3)



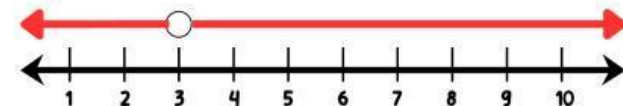
จากกราฟ อสมการ คือ.....

4)



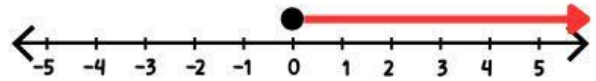
จากกราฟ อสมการ คือ.....

5)



จากกราฟ อสมการ คือ.....

6)



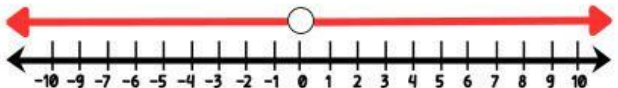
จากกราฟ อสมการ คือ.....

7)



จากกราฟ อสมการ คือ.....

8)



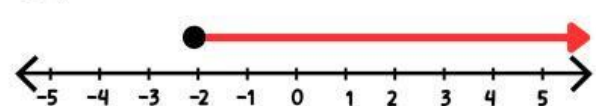
จากกราฟ อสมการ คือ.....

9)



จากกราฟ อสมการ คือ.....

10)



จากกราฟ อสมการ คือ.....