


Fracciones


Observa los siguientes gráficos y responde las preguntas planteadas:

1. ¿Qué fracción representan las figuras de color oscuro con respecto a todas?



- a. $\frac{3}{5}$ b. $\frac{3}{8}$ c. $\frac{3}{6}$ d. $\frac{9}{16}$

2. ¿Qué fracción representa la figura de color negro con respecto a todos los cuadrados?




- a. $\frac{4}{25}$ b. $\frac{1}{5}$ c. $\frac{1}{4}$ d. $\frac{3}{16}$

3. ¿Qué fracción representan las figuras de color blanco con respecto a todos los cuadrados?



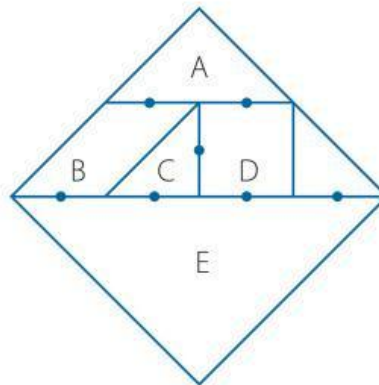
- a. $\frac{1}{2}$ b. $\frac{3}{5}$ c. $\frac{2}{5}$ d. $\frac{3}{10}$

4. ¿Qué fracción representan las figuras de color blanco con respecto a todos los cuadrados?



- a. $\frac{4}{4}$ b. $\frac{1}{4}$ c. $\frac{11}{4}$ d. $\frac{3}{4}$

Observa la siguiente figura que se muestra. En ella se indican algunas dimensiones que son iguales. Responde las preguntas en cada caso.



5. ¿Cuánto representa la figura "A" con respecto a todo el rombo?

- a. $\frac{3}{4}$ b. $\frac{1}{2}$ c. $\frac{1}{4}$ d. $\frac{1}{8}$

6. ¿Cuánto representa la figura "B" con respecto a todo el rombo?

- a. $\frac{1}{8}$ b. $\frac{3}{4}$ c. $\frac{1}{4}$ d. $\frac{1}{2}$

7. ¿Cuánto representa la figura "C" con respecto a todo el rombo?

- a. $\frac{3}{4}$ b. $\frac{1}{16}$ c. $\frac{1}{4}$ d. $\frac{1}{8}$

8. ¿Cuánto representa la figura "D" con respecto a todo el rombo?

- a. $\frac{3}{4}$ b. $\frac{1}{16}$ c. $\frac{1}{4}$ d. $\frac{1}{8}$

9. ¿Cuánto representa la figura "E" con respecto a todo el rombo?

- a. $\frac{1}{2}$ b. $\frac{3}{4}$ c. $\frac{1}{4}$ d. $\frac{1}{8}$