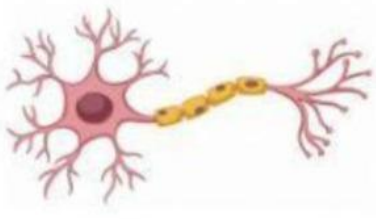


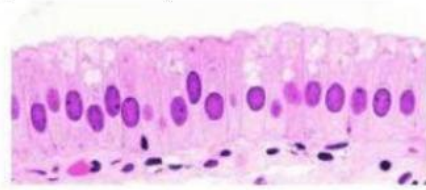
ACTIVIDAD FORMATIVA

Nombre del estudiante: _____

Parte I- Selecciona el nivel correspondiente para cada imagen.



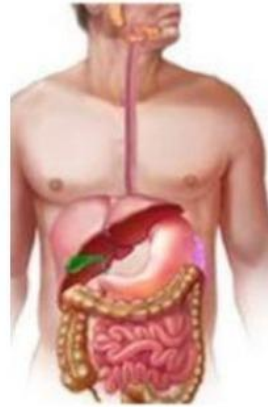
A.



B.



C.



D.



E.



F.



G.



H.

Parte II: Ordena de menor a mayor complejidad, según el nivel d organización.

Célula	Ecosistema	órganos	Moléculas	Organismo
átomos	Comunidad	Sistema	Biosfera	Tejido
Población				

1.	2.	3.
4.	5.	6.
7.	8.	9.
10.	11.	

Parte III: Ubica los siguientes conceptos en el nivel al que pertenecen.

Célula	Ecosistema	órganos	Moléculas	
átomos	Comunidad	Tejidos	Sistema	Biosfera

Nivel químico	Nivel biológico	Nivel ecológico