


### BAB 7 MENGUKUR PANJANG BENDA



**ISILAH SOAL YANG ADA DENGAN KATA DI BAWAH INI**

- lebih panjang
- lebih pendek
- paling panjang
- paling pendek

**PENSIL HIJAU**

**PENSIL MERAH**

**PENSIL HIJAU**

**PENSIL BIRU**

**DARI PENSIL MERAH.**

**DARI PENSIL BIRU**

**DARI PENSIL HIJAU**

### BAB 7 MENGUKUR PANJANG BENDA


#### Ayo Berlatih

1. Lingkari benda yang lebih pendek.

a



b



2. Lingkari benda yang lebih panjang.



3. Perhatikan gambar berikut.



A



B



C



D


Pohon yang sama tinggi adalah \_\_\_\_\_ dan \_\_\_\_\_

Pohon yang paling pendek adalah \_\_\_\_\_

Pohon yang paling tinggi adalah \_\_\_\_\_

### BAB 7 MENGUKUR PANJANG BENDA

4. Perhatikan gambar berikut.

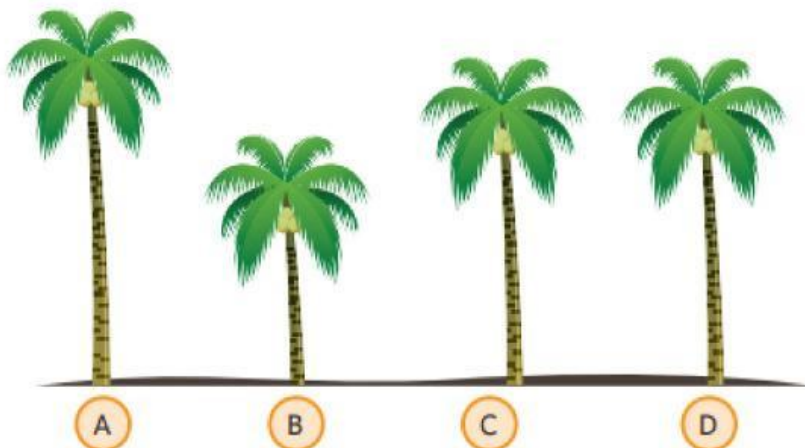


Bunga yang paling tinggi adalah \_\_\_\_\_

Bunga yang paling pendek adalah \_\_\_\_\_

Urutan bunga dari paling pendek:

5.



Pohon yang paling tinggi adalah \_\_\_\_\_

Pohon yang paling pendek adalah \_\_\_\_\_

Pohon yang sama tinggi adalah \_\_\_\_\_ dan \_\_\_\_\_

Urutan pohon dari paling pendek:

\_\_\_\_\_, \_\_\_\_\_, \_\_\_\_\_, \_\_\_\_\_