

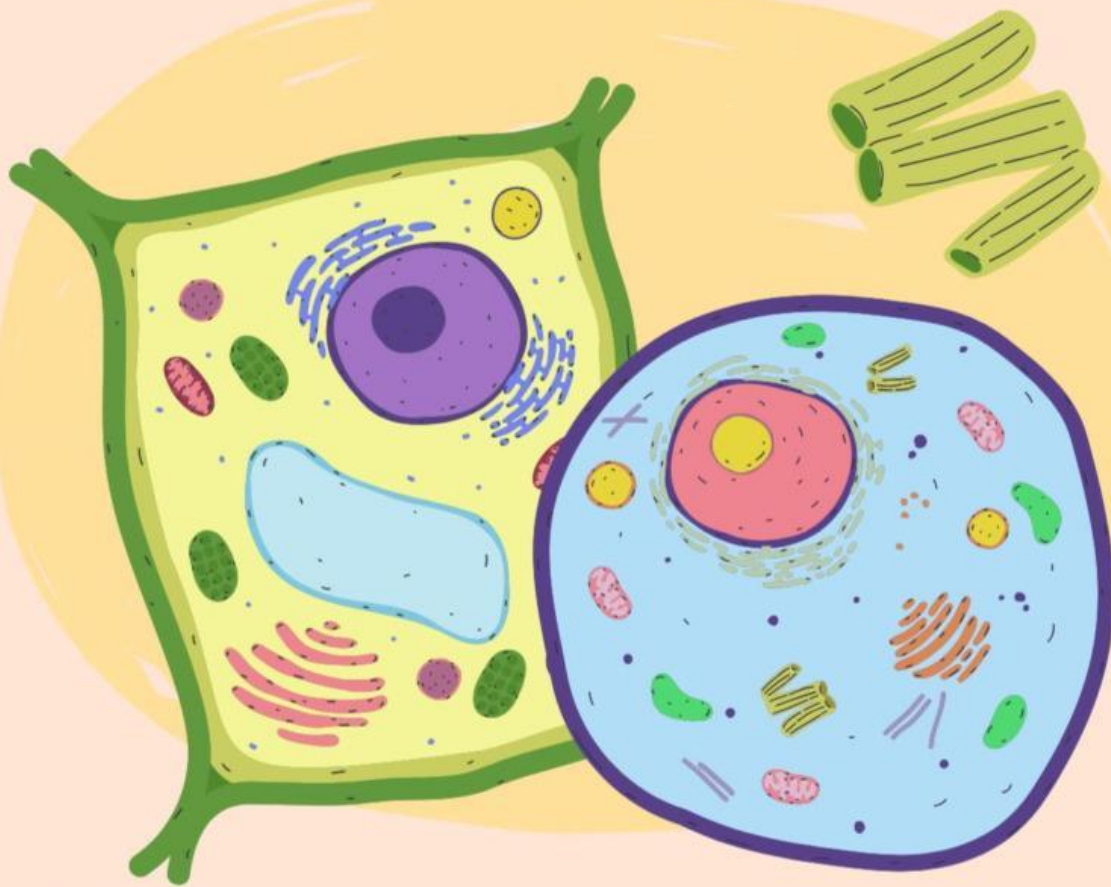
LKPD

Ilmu Pengetahuan Alam

Sel Tumbuhan dan Sel Hewan

Nama: _____

Kelas: _____



SEL TUMBUHAN DAN SEL HEWAN

Mata Pelajaran : Ilmu Pengetahuan Alam
Kelas :
Materi : Sel Tumbuhan dan Sel Hewan
Hari/Tanggal :
Nama :
No. Absen :

A. Tujuan Pembelajaran

1. Siswa dapat menyebutkan dan menjelaskan bagian-bagian sel tumbuhan dan sel hewan serta fungsinya dengan bahasa yang mudah dipahami.
2. Siswa dapat membandingkan sel tumbuhan dan sel hewan untuk menemukan persamaan dan perbedaannya.
3. Siswa dapat membuat gambar atau model sel tumbuhan dan sel hewan, lalu menjelaskan fungsinya secara lisan atau tulisan.

B. Petunjuk Pengerjaan

1. Bacalah setiap perintah dengan teliti
2. Kerjakan tugas ini secara berkelompok
3. Gunakan pensil untuk mengisi LKPD
4. Tanyakan pada guru jika ada hal yang belum dipahami

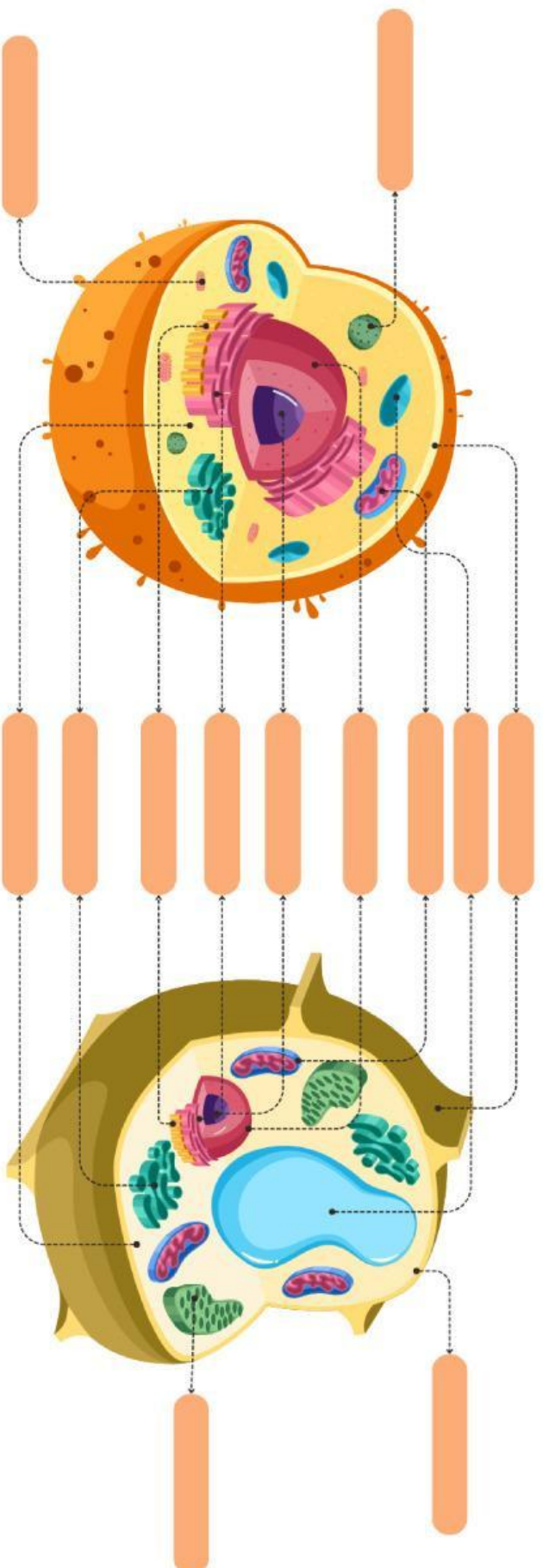
Pemberian rangsangan (Stimulation)

Amatilah video yang ditampilkan dan pahami narasi berikut ini!



Sistem Organisasi Kehidupan Makhlu' Hidup - Sel | IPA | SayaBisa

Identifikasi masalah (Problem statement)

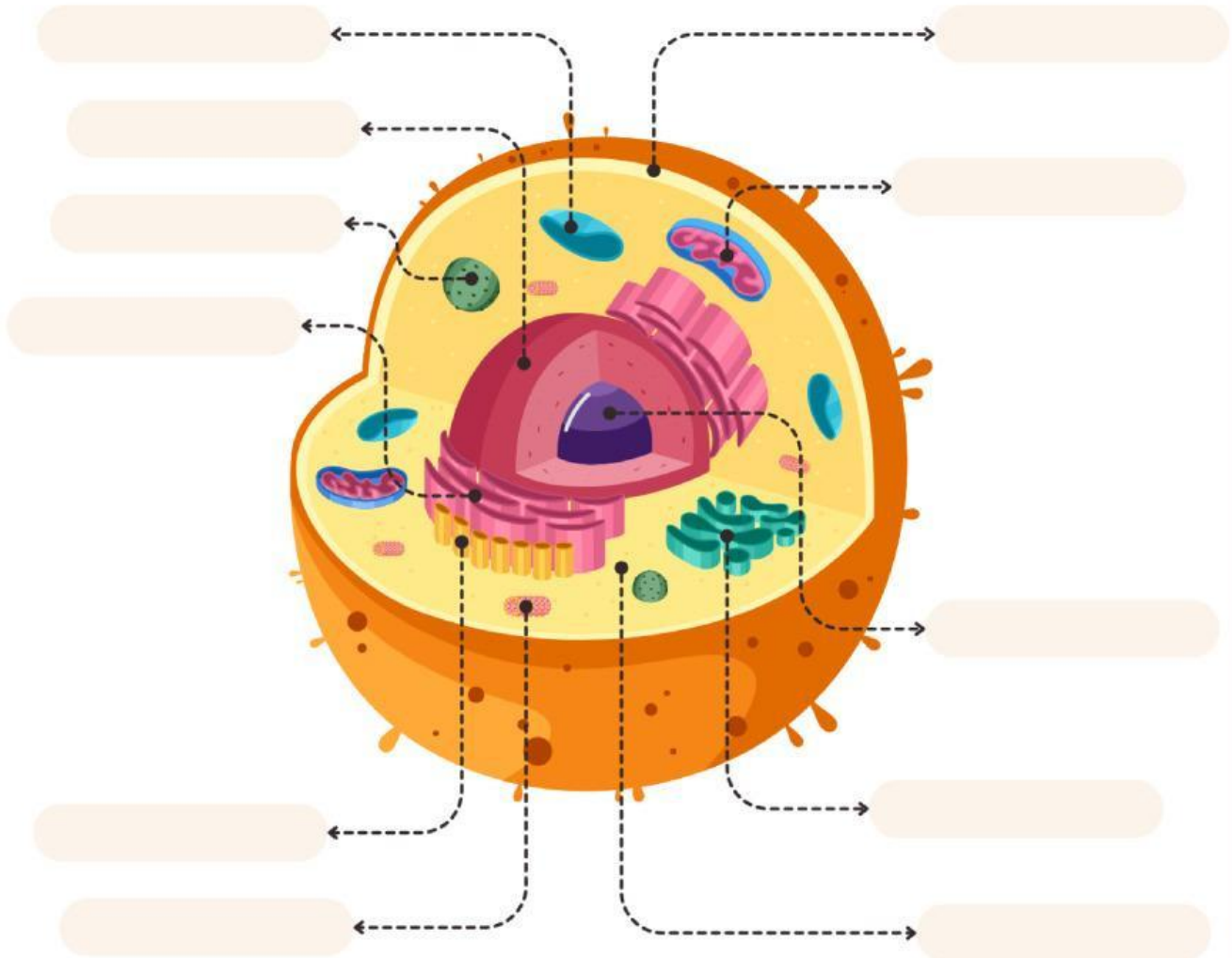


Buatlah rumusan masalah berdasarkan gambar diatas !

Pengumpulan dan pengolahan data (Data collecting and processing)

BAGIAN-BAGIAN SEL HEWAN

Amatilah gambar Bagian-bagian Sel Hewan di bawah ini. Tulislah nama yang sesuai bagian yang telah di tunjuk!



Badan Golgi

Nukleolus

Mitokondria

Lisosom

Vakuola

Nukleus

Membran Sel

RE Kasar

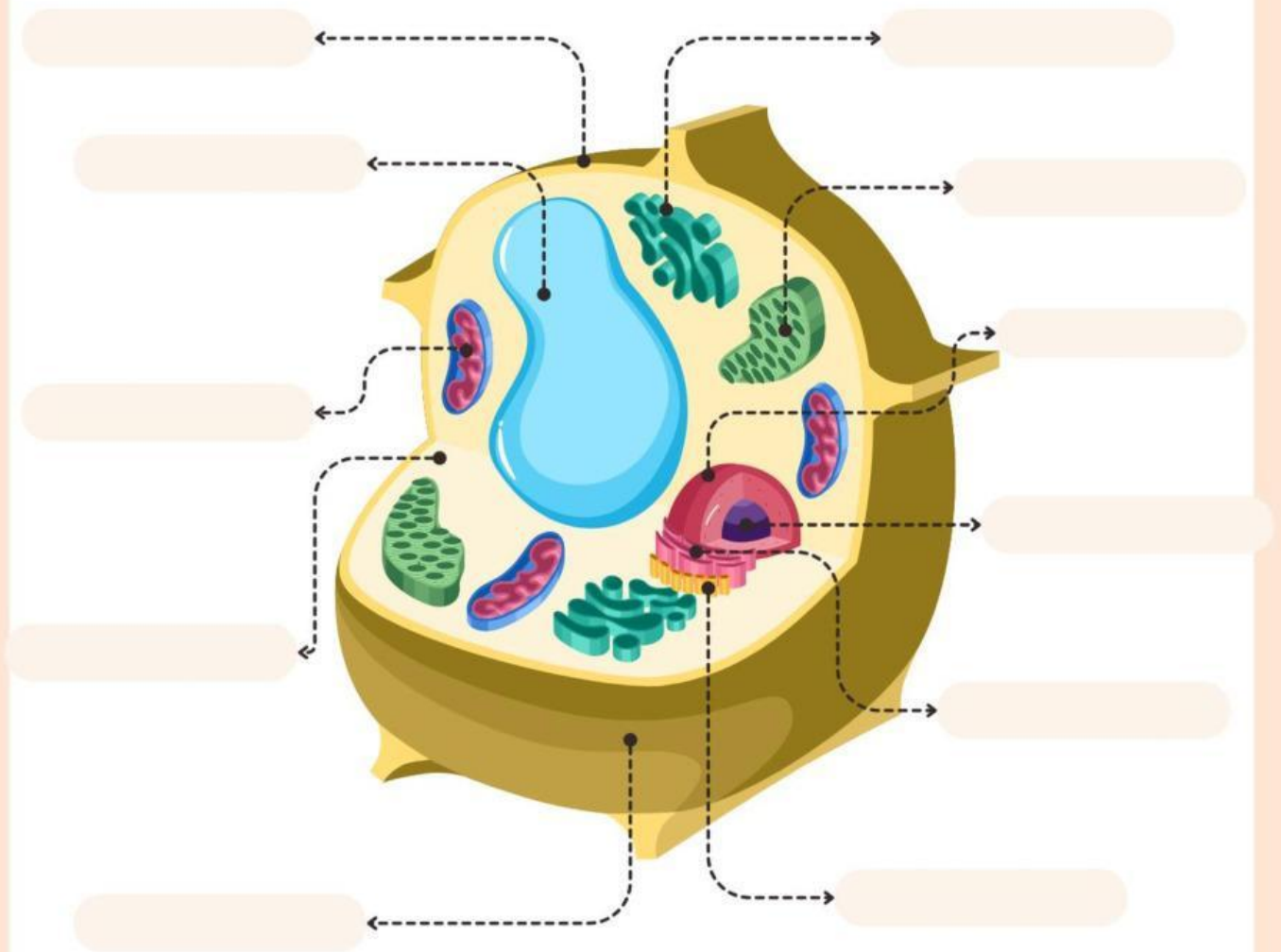
Sitoplasma

Sentriol

RE Halus

BAGIAN-BAGIAN SEL TUMBUHAN

Amatilah gambar Bagian-bagian Sel Hewan di bawah ini. Tulislah nama yang sesuai bagian yang telah di tunjuk!



Badan Golgi

Nukleolus

Mitokondria

RE Kasar

Vakuola

Nukleus

Membran Sel

Kloroplas

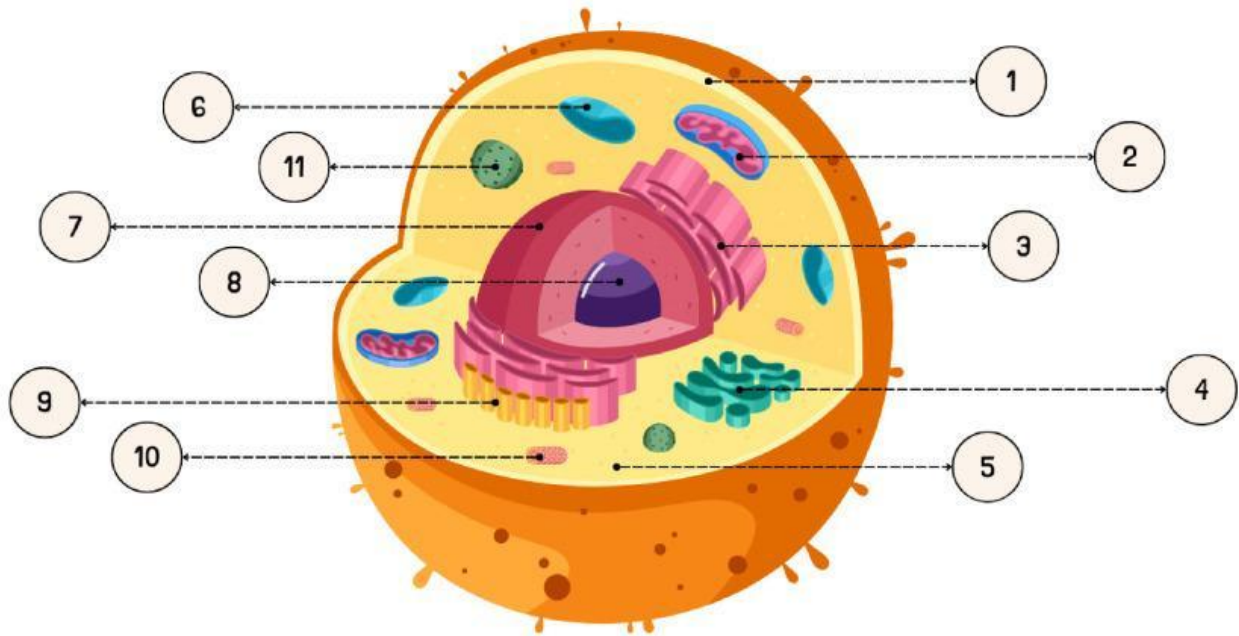
Sitoplasma

RE Halus

Dinding Sel

BAGIAN-BAGIAN SEL HEWAN

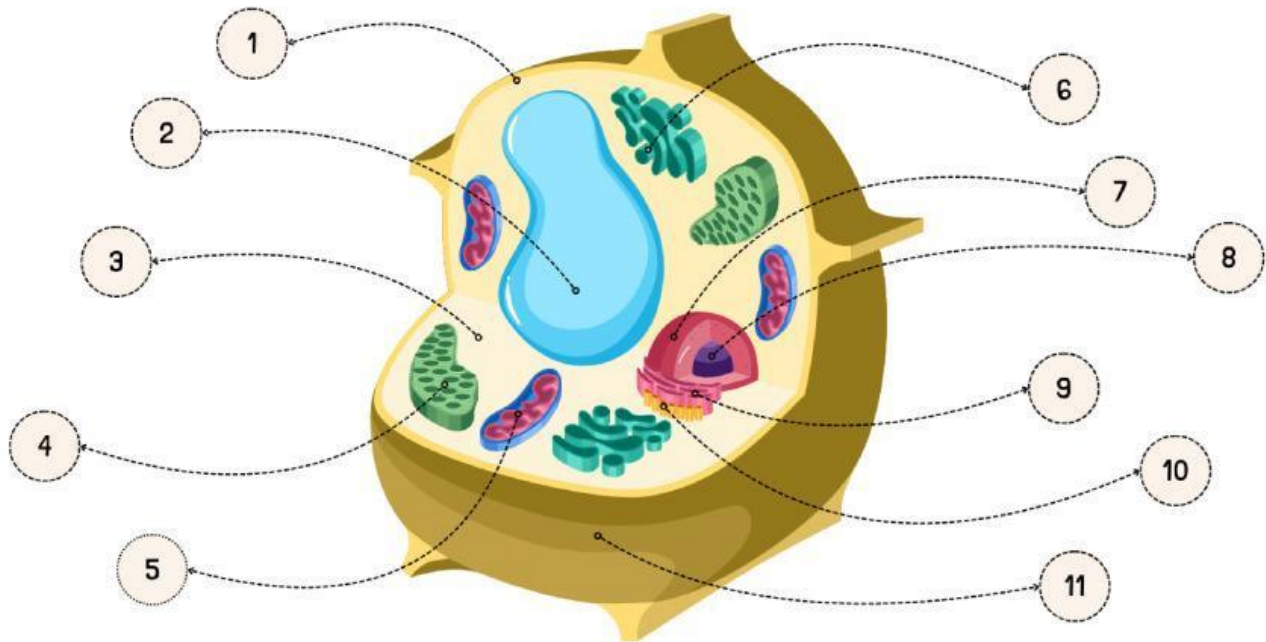
Perhatikan Gambar. Berilah nama pada setiap bagian pada tabel sesuai dengan nama dan fungsinya!



NO	NAMA	FUNGSI
1.		
2.		
3.		
4.		
5.		
6.		
7.		
8.		
9.		
10.		
11.		

BAGIAN-BAGIAN SEL TUMBUHAN

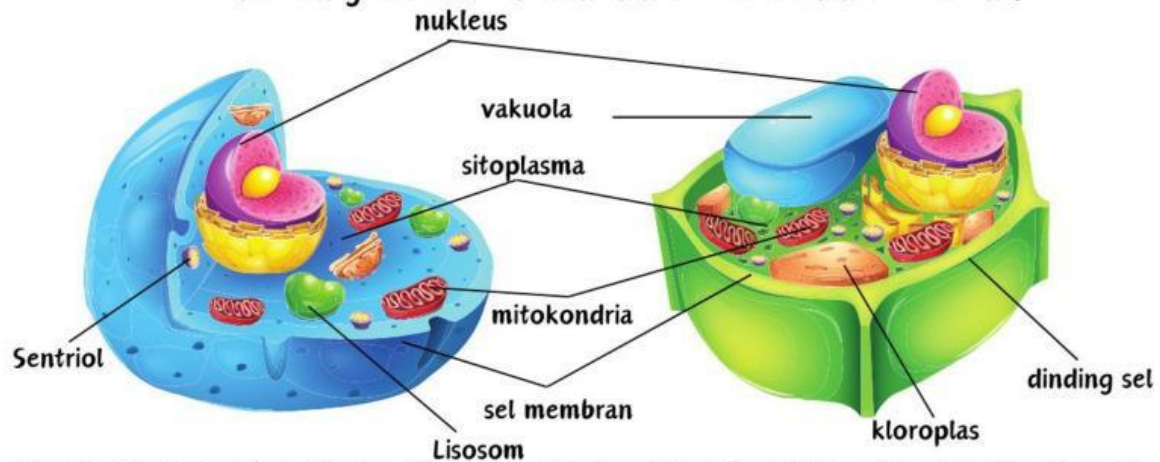
Amatilah gambar di bawah ini. Lengkapilah gambar dengan memberi nama yang sesuai.



NO	NAMA	FUNGSI
1.		
2.		
3.		
4.		
5.		
6.		
7.		
8.		
9.		
10.		
11.		

PERBEDAAN SEL HEWAN DAN SEL TUMBUHAN

Perhatikan gambar sel hewan dan sel tumbuhan berikut ini!



Berdasarkan gambar di atas, kira-kira apa yang membedakan sel hewan dengan sel tumbuhan? Coba kalian isi tabel di bawah ini!

STRUKTUR	SEL HEWAN	SEL TUMBUHAN
Dinding Sel		
Sel Membran		
Nukleus		
Mitokondria		
Vakuola		
Kloroplas		
Sitoplasma		
Lisosom		
Sentriol		