













Evaluación Primer Periodo


Nombre _____

1. Arrastra las letras de pertenencia o no pertenencia, según corresponda con los conjuntos

	_____	F		_____	F
	_____	F		_____	F
	_____	V		_____	V
	_____	V		_____	F
	_____	V		_____	V

	F		V
---	---	--	---

€€€€€∅∅∅∅∅∅



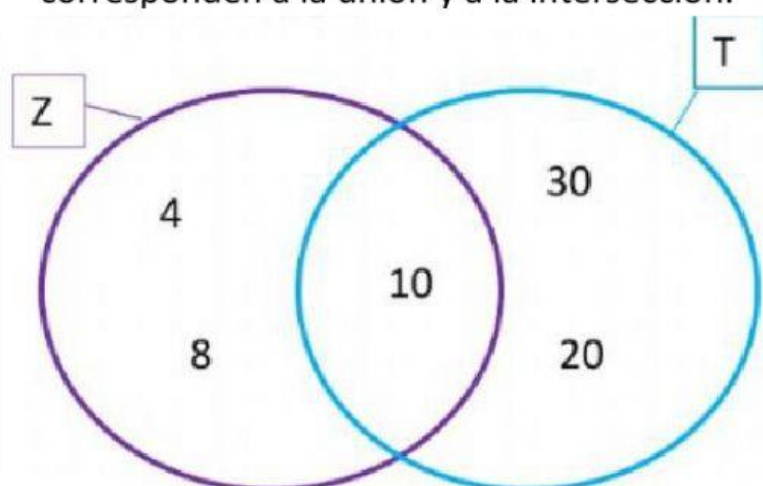
2. Representa los anteriores conjuntos por medio de llaves

A = { _____ }

B = { _____ }

C = { _____ }

3. Escribe por extensión los conjuntos Z y T, luego escribe los elementos que corresponden a la unión y a la intersección.



Por extensión

Z = { , , }

T = { , , }

Z ∪ T = { , , , , }

Z ∩ T = { }

4. Arrastra cada número a su representación con regletas

1.450	2.802	4.258	6.024
-------	-------	-------	-------

5. Escribe con letras, como se leen los siguientes números

3.406	
2.547	
7.200	
4.235	

7. Une cada robot, con el ángulo que está formando con su cuerpo



RECTO



AGUDO



OBTUSO



LLANO

8. Completa la tabla de frecuencia



BALÓN	FRECUENCIA
Fútbol	
Baloncesto	
Tenis	
Fútbol americano	