






	LICEO COOPERATIVO CAMPESTRE		
	Luz, integridad y sabiduría		
	Asignatura: ESTADISTICA	Grado: SEGUNDO	Trimestre: I
	VALORACIÓN PARCIAL		NOTA
Estudiante:	Docente: YENNY CARVAJAL	Fecha: MARZO	

1. Organizo los datos en la tabla de frecuencia, luego respondo.

Rodolfo quiere saber la cantidad de especies marinas en su acuario



Especie marina	Conteo	Frecuencia
		
		
		
		

1. ¿Cuál especie marina tiene más Rodolfo en el acuario? \_\_\_\_\_
2. ¿Cuántas estrellas de mar hay? \_\_\_\_\_
3. ¿Cuántos estrellas y cangrejos hay? \_\_\_\_\_
4. ¿Cuál especie marina tiene menos Rodolfo en el acuario? \_\_\_\_\_
5. ¿Cuántos especies marinas tiene en total Rodolfo en su acuario? \_\_\_\_\_

**2. Selecciono SI o NO según las afirmaciones**

- |   |    |    |
|---|----|----|
| ❖ Hay mas conchas que peces                   | SI | NO |
| ❖ Hay menos cangrejos que peces               | SI | NO |
| ❖ Hay menos conchas que cangrejos             | SI | NO |
| ❖ Hay más peces que conchas                   | SI | NO |
| ❖ Hay igual cantidad de estrellas y cangrejos | SI | NO |